

***Занятие кружка
«Юным умникам и
умницам»
в 3б классе***



ДЕВИЗ

«Мы, играя, проверяем,
что умеем и что знаем!»



Интеллектуальный марафон

	Следи глазами	<u>10</u>	<u>20</u>	<u>30</u>
	Найди отличия	<u>10</u>	<u>20</u>	<u>30</u>
	Запомни и нарисуй	<u>10</u>	<u>20</u>	<u>30</u>
	Найди закономерность	<u>10</u>	<u>20</u>	<u>30</u>
	Подумай и ответь	<u>10</u>	<u>20</u>	<u>30</u>



Следи глазами 10 баллов



Здорово!

1	14	7	5
10	6	11	8
17	20	2	15
3	9	13	19
<u>4</u>	<u>12</u>	<u>16</u>	<u>18</u>



Следи глазами 20 баллов






Молодцы!



12



Следи глазами 30 баллов


1	2	3	4	5	1	2	3	4	5	1	2	3	4	5	1	2	3	4	5
																			
М	З	Й	И	О	Л	Й	Ы	Б	Е	М	Е	Л	Т	О	Е	Р	Й	С	Ы



Отлично!



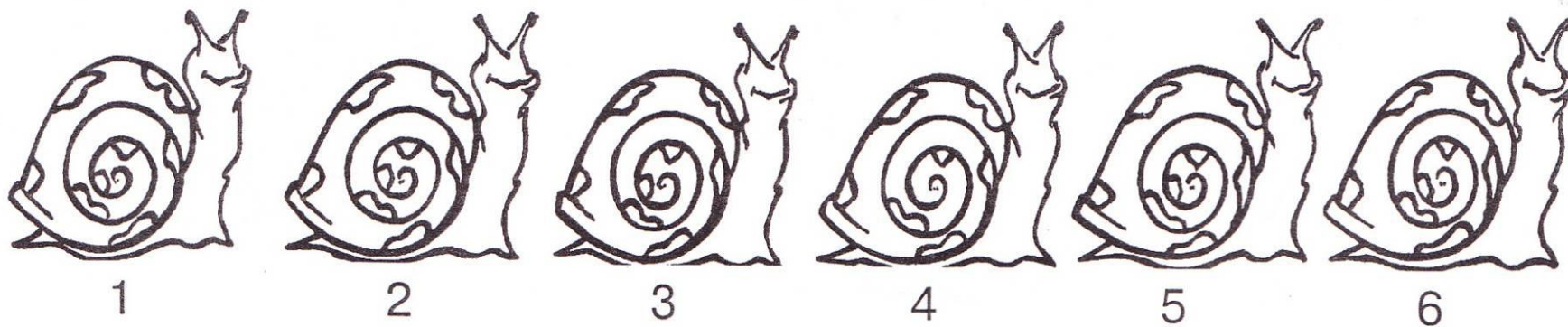
Найди отличия 10 баллов



Хорошо!



Найди отличия 20 баллов



Хорошо!



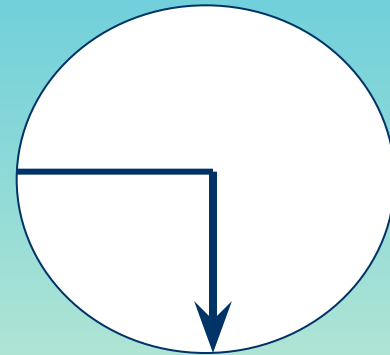
Найди отличия 30 баллов



Отлично!



Запомни и нарисуй 10 баллов



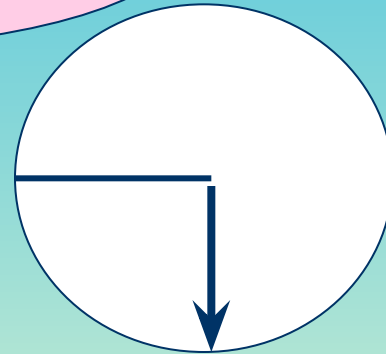
Запомни и нарисуй **10 баллов**



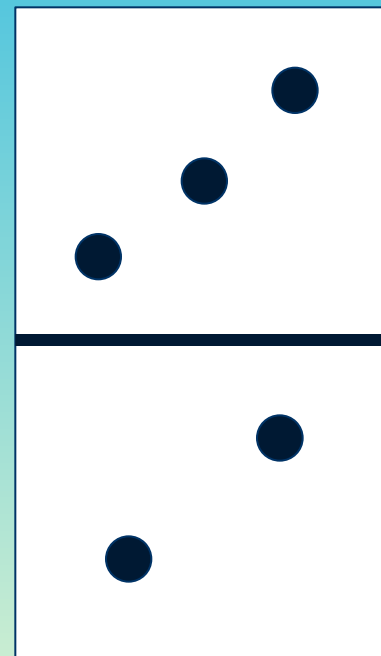

Запомни и нарисуй 10 баллов



Молодцы!



Запомни и нарисуй 20 баллов






Запомни и нарисуй 20 баллов






Запомни и нарисуй 20 баллов



Молодцы!



Запомни и нарисуй 30 баллов





Запомни и нарисуй **30 баллов**



Запомни и нарисуй 30 баллов



Хорошо!

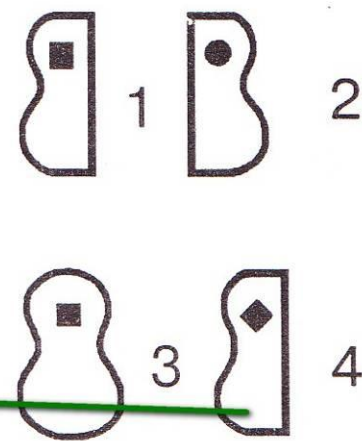
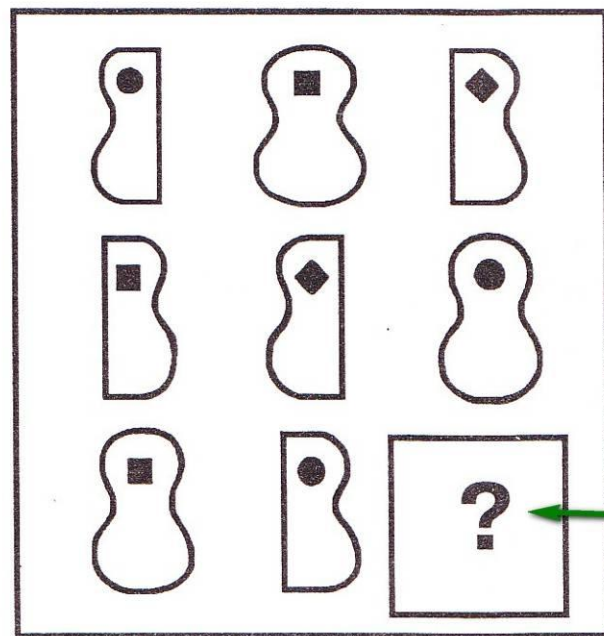


Найди закономерность

10 баллов




















Умницы!




Найди закономерность

20 баллов

			 1	 2	 3
	4		 4	 5	 6
			 7	 8	 9




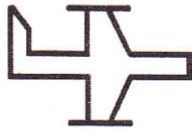
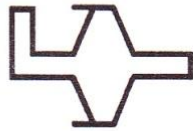
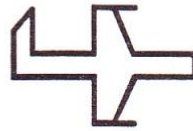







Хорошо!




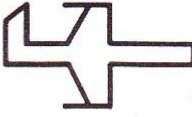


Найди закономерность

30 баллов

		
		
	<div data-bbox="550 692 782 863" style="border: 1px solid black; padding: 10px; text-align: center;">6</div>	

1  2  3 

4 

5  6  7 



Хорошо!



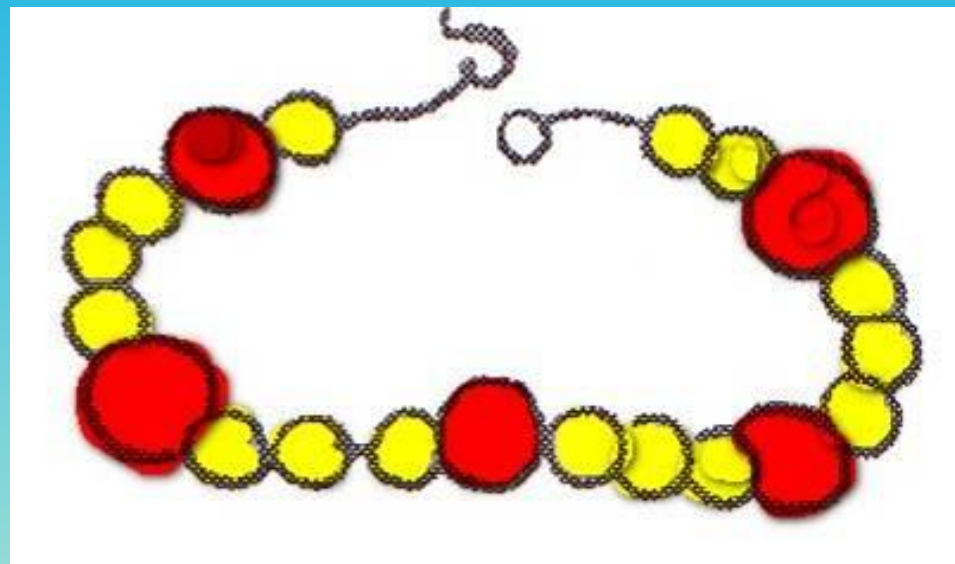
Подумай и ответь 10 баллов

Маша надела на нитку 20 бусинок так, что каждая четвертая бусинка большая, а остальные маленькие.

Сосчитай, сколько больших и сколько маленьких бусинок на нитке.



Подумай и ответь **10 баллов**



Умницы!



Подумай и ответь 20 баллов

А) магазин, шипы, народ

Б) прутик, живёт, налить

В) каша, ранка, дача, шипы



Подумай и ответь 20 баллов

А) магазин, шипы, народ

Б) прутик, живёт, налить

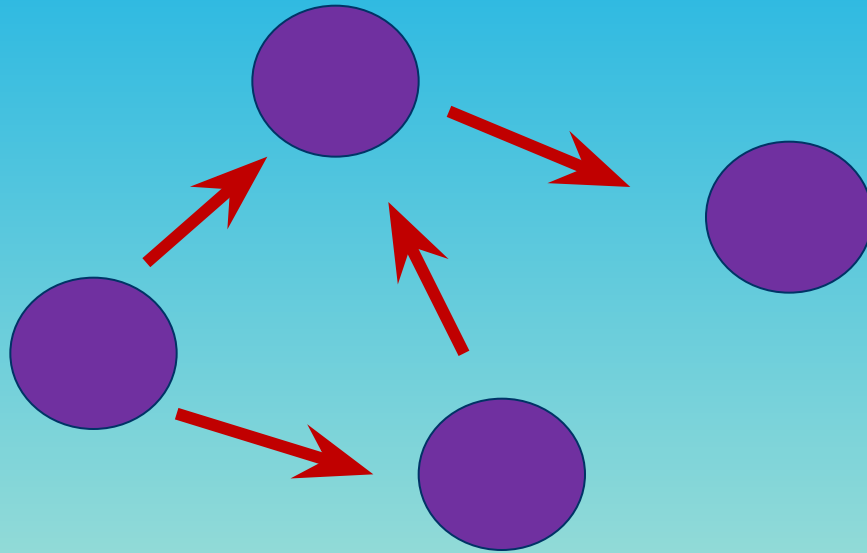
В) каша, ранка, дача, шипы



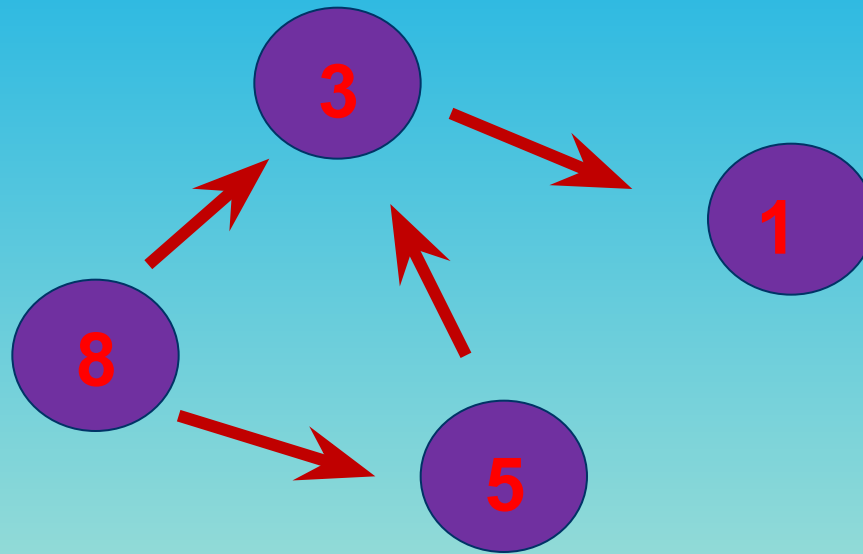
Умницы!



Подумай и ответь 30 баллов



Подумай и ответь 30 баллов



Умницы!



**Спасибо
за игру!**

