


# Счёт в пределах 20 с переходом через десяток

Учитель: Мурашова Елена Михайловна

Расположите значение записанных сумм в порядке возрастания

$6+5$	$9+7$	$7+3$	$8+6$	$2+5$
С	А	О	Ж	Б
$9+3$	$6+7$	$8+7$	$4+5$	$5+3$
Н	Е	К	Л	Е







$$10+7$$

$$7+5$$

$$8+3$$

$$6+6$$

$$9+8$$

$$5+6$$

$$4+9$$

$$8+5$$







*Спал цветок и вдруг  
проснулся-(туловище вправо  
- влево)*

*Больше спать не захотел.  
(туловище вперед, назад)*

*Шевельнулся, потянулся,  
(руки вверх, потянуться)*

*Взвился вверх и полетел.  
(руки вверх, влево, вправо)*

*Солнце утром лишь  
проснется, бабочка кружит  
и вьется(покружиться)*



- Когда гномы вернулись каждый из них преподнёс ей изумруды и самоцветы. Всего 13 камней. Из них 6 изумрудов. Сколько самоцветов?

Изумрудов – 6  
Самоцветов - ?  
Всего - 13





**Игра-тренажер по  
математике  
«Сложение и  
вычитание в  
пределах 20»**



# ПОДУМАЙ

$9+8$





6+5

# ПОДУМАЙ



# ПОДУМАЙ

7+4



11



12



10



15-8

# ПОДУМАЙ

8



7



6



# ПОДУМАЙ

$$7+5$$



# ПОДУМАЙ

9+6



# ПОДУМАЙ

14-7





# ПОДУМАЙ

$$8+8$$



# ПОДУМАЙ

6+7



# ПОДУМАЙ

13-9



Выйти из  
игры



## *VII. Итог урока.*

- - С чем познакомились сегодня на уроке?
- - Какое задание вызвало у вас затруднение?
- - Что было самым интересным?



**СПАСИБО ЗА  
УРОК!**