

**Один
ПРОТИВ
ВСЕХ**

Игрок

№1

Какого царства нет в биологии?

А. грибов

Б. птиц

В.
бактерий



Укажите основу предложения:

А. шпиль храма

Б. золотой шпиль

В. сверкнул шпиль

Кто автор этих строк: «И сам про
себя удалую, хвастливую песню
поёт..»

А. Н.А. Некрасов

Б. К.Д. Бальмонт


В. И.А. Бунин

В каком выражении допущена
ошибка?

A. $1 \times 6 = 6$

Б. $7 : 0 = 0$

В. $5 \times 0 = 0$



Вспомни название самого
большого цветка?

А. магнолия

Б.

раффлезия

В. меконopsis




Чей это портрет?

А. А.С. Пушкин

Б. С.В. Михалков

В. А.А.Фет



Кто был хозяином жар-птицы?

А. царь

Кусман

Б. царь Берендей

В. царь Афрон



Какая из перечисленных долей
самая маленькая?

A. 1/20

Б. 1/5

В. 1/11

Фига – плод какого дерева?

А.
СЕКВОЯ

Б. баобаб

В. инжир



Головного убора с каким
названием не существует ?

А.
канотье

Б. джонка

В. треух



Игрок №2

Какой вид отдыха не способствует сохранению здоровья?

А. спортивные игры

Б. компьютерные игры

В. прогулки по городу




Длина прямоугольника 12 см,
ширина – 5см. Чему равна его
площадь?

А. 34

Б. 60 см²

В. 17 см²

СМ



Сколько существительных в стихотворении?

Белка щелкает орешки
На дубу без всякой спешки.
Чистит десять штук за час –
Будет на зиму запас.

А. 5

Б. 6


В. 8

Сколько зайцев спасалось на бревне в стихотворении «Дедушка Мазай и зайцы» ?

А. восемь

Б. девять

В. десять



Как называется наука,
изучающая живую природу?

А.

ботаника

Б. география

В. биология

Какого блюда нет в солдатской
кухне?

А. картофель в
мундире

Б. баклажаны по артиллеристски

В. макароны по-флотски

Чей это портрет?

А. К.И. Чуковский

Б. Е.И. Чарушин

В. Н.Н. Носов



У какого нашего дерева листья
живут дольше всех?

А. ель

Б. дуб

В. вяз



Кого не побеждал Геракл?

А. гидру

Б. льва

В. единорога

Воспаление легких лечит.....

А. пульмонолог

Б. отоларинголог

В. офтальмолог



Игрок №3

Лексическое значение
фразеологизма
«Закадычный друг»

А. четвероногий

Б. любимый

В. верный

Кто из мультипликационных богатырей был женат на Аленушке?

А. Илья Муромец

Б. Добрыня Никитич

В. Алеша Попович



Радиус окружности 50 см, чему
равен её диаметр?

А. 100

см

Б. 25

см

В. 100

см²



«Экология» в переводе с греческого...

А. - наука о жизни

Б. - наука о доме

В. - наука о душе



Сколько звуков [ш] в стихотворении:

*Пешком шагали мышки
По узенькой дорожке
От деревушки Пешки
До деревушки Ложки.*

А. 6

Б.

В. 9




Чей это портрет?

А. М.Ю. Лермонтов

Б. Л.Н. Толстой

В. С.А.

Есенин



Каких звезд не бывает?

А. красные карлики

Б. желтые великаны

В. белые лилипуты



Он бывает черным, зелёным,
пестрым, белоспинным?

А. уж

Б. дятел

В. жук - навозник



У кого из писателей отчество Николаевич?

А. Борис Заходер

Б. Эдуард Успенский

В. Сергей
Михалков



Какого фонтана нет в Петергофе?

А. «Горка»

Б. «Солнце»

В. «Водопад»



Игрок №4

Какая сказка учит здоровому образу жизни?

А. «Кошкин дом»

Б. «Муха –
Цокотуха»


В. «Мойдодыр»



Совка Агриппы – это...

А.
бабочка

Б.



В. птица

Закончите фразеологизм: «Купить в мешке»

А. кота

Б. мышь

В. нос

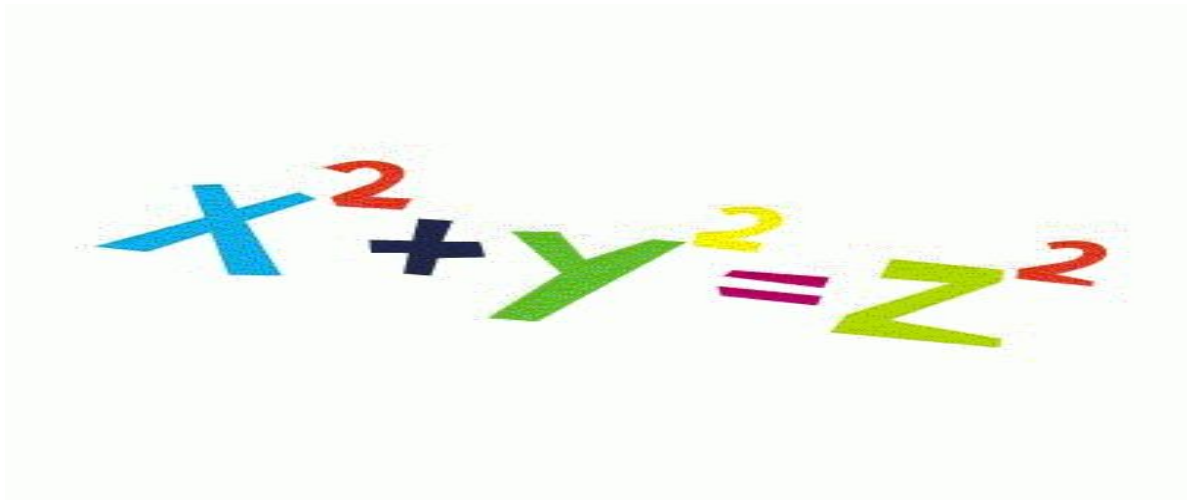


Чему равно значение X в
выражении: $5:X=5$

A. 1

Б. 0

В. 5



Что это?

А. мох

Б. водоросль

В. лишайник




Кто контролирует численность
растительноядных животных?

А.
растения

Б. человек

В. хищники



Чей это портрет?


А. В.Ю.

Драгунский

Б. Э.Н.

Успенский

В. П.П. Носов



Два одинаковых квадрата с площадями 25 см^2 поставили рядом и получили прямоугольник. Чему равна его длина?

А. 50 см

Б. 150 см

В. 10 см

Кто из этих людей не учитель?

А. филолог

Б. орнитолог

В. дефектолог



В каком городе находится этот собор?


А. Москва

Б. Санкт -

Петербург

В. Великий

Новгород





Вы
ошиблись....

