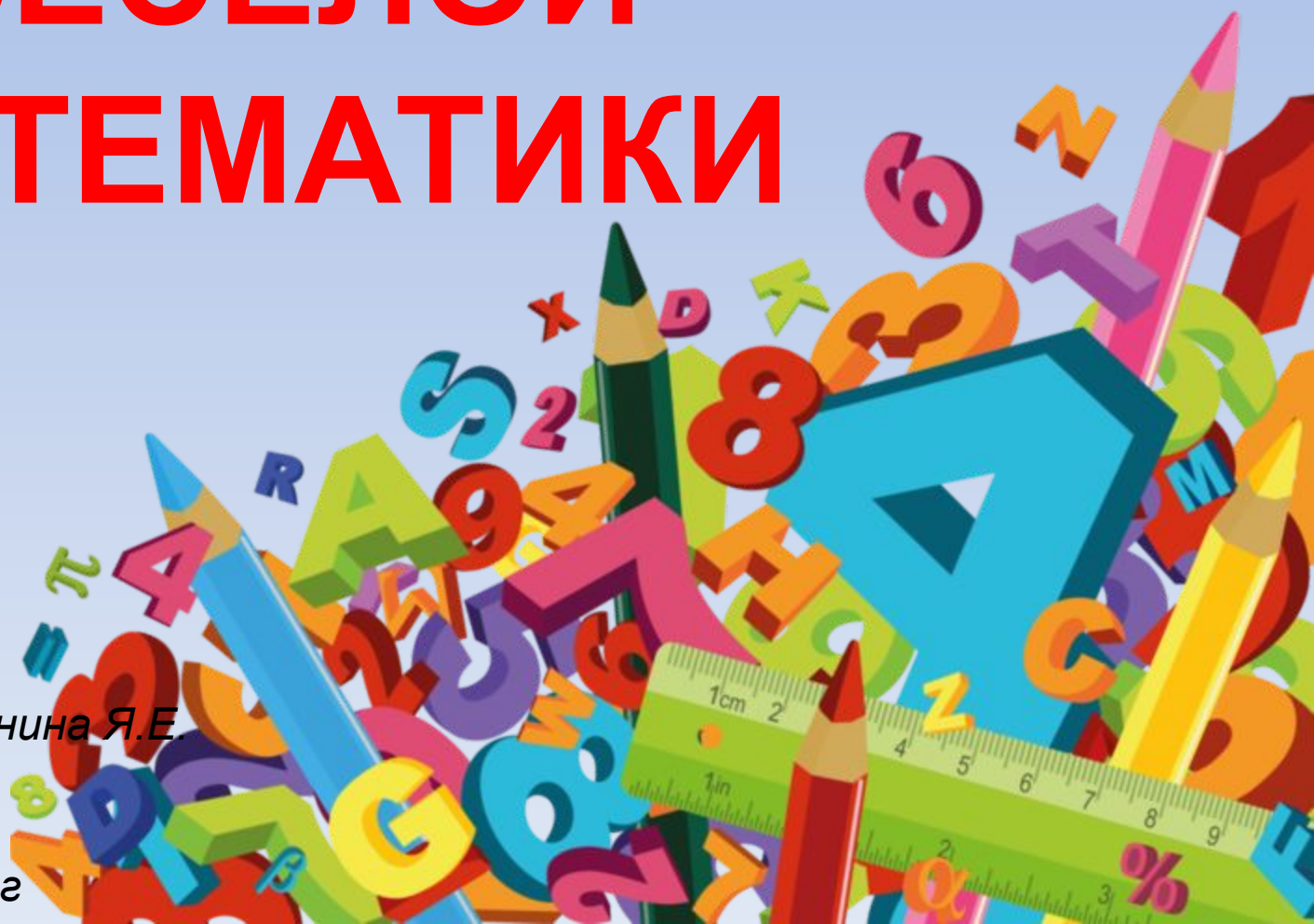


ЧАС ВЕСЕЛОЙ МАТЕМАТИКИ

Разработала : Ратунина Я.Е.
воспитатель ГПД
ГБОУ школы № 120
г. Санкт - Петербург



Он, конечно, самый главный
Озорник-шалун забавный.
Он в огромной синей шляпе
Неумеха и растяпа.



Этот - мастер рисовать
Красками и кистью.
Может он нарисовать
И портрет и листья.

Эта девочка-цветочек
Носит юбку белую.
Любит в поле ветерочек
И клубнику спелую.



Эти двое малышей
Механики отличные.
Все могут сделать и быстрее
И лучше заграничного.

Этот парень – астроном,
Всё про звезды знает.
Телескоп стоит на доме -
Солнце изучает.



Этот умный коротышка
Прочитал уже все книжки
Он и вправду много знает
И девчат не обижает

Помоги Незнайке угадать цифры



Ноль подставил спинку брату,
Тот взобрался не спеша –
Стали новой цифрой братцы,
Не найти нам в ней конца.
Повернуть ее ты можешь,
Головой поставив вниз.
Цифра будет все такой же.
Ну, подумай, разберись!





Отгадайте - ка, ребята,
Что за цифра – акробатка?
Если на голову встанет,
Ровно на 3 меньше станет.

9

Вид ее – как запятая,
Хвост крючком, и не секрет:
Любит всех она лентяев,
А лентяи ее – нет.



2


Эта цифра – как замочек:
Сверху крюк,
Внизу кружочек.



Вот так цифра –
кочерга,
У нее одна нога!

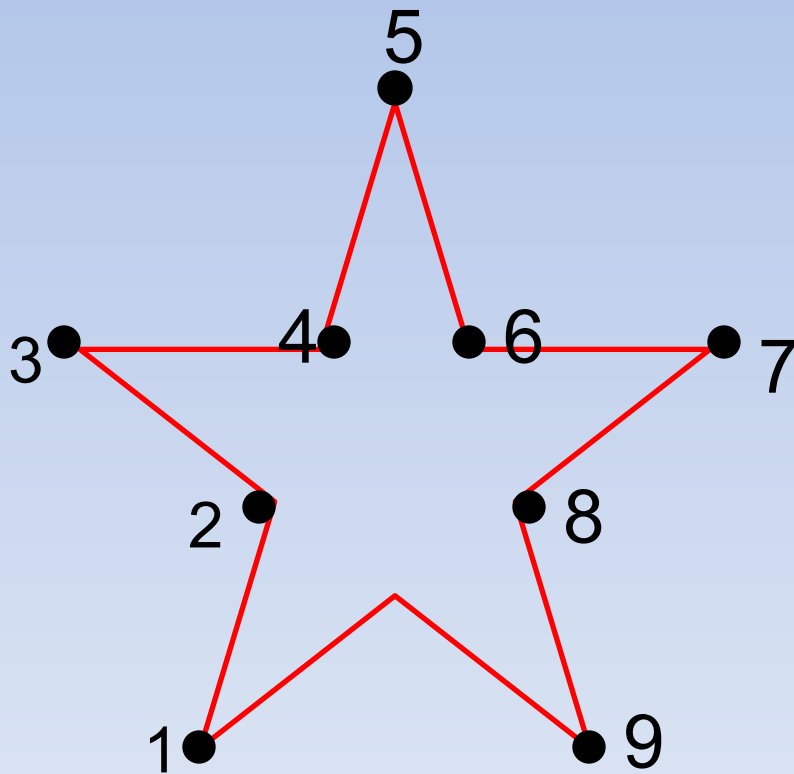


Я двойку в 20 превращу,
Из троек и четверок
Смогу я, если захочу,
Составить 30, 40.




ЗАГАДКИ ТЮБИКА

Соедините точки в нужном порядке и получите изображение предмета.



Рассмотрите рисунок и назовите геометрические фигуры, которые были использованы для него.



Задачи от Ромашки



Дружно муравьи живут
И без дела не снуют.
Два несут травинку,
Два несут былинку,
Три несут иголки,
Сколько их под елкой?

Ежик по грибы пошел,
10 рыжиков нашел.
8 положил в корзинку,
Остальные же - на спинку.
Сколько рыжиков несешь
На своих иголках еж?

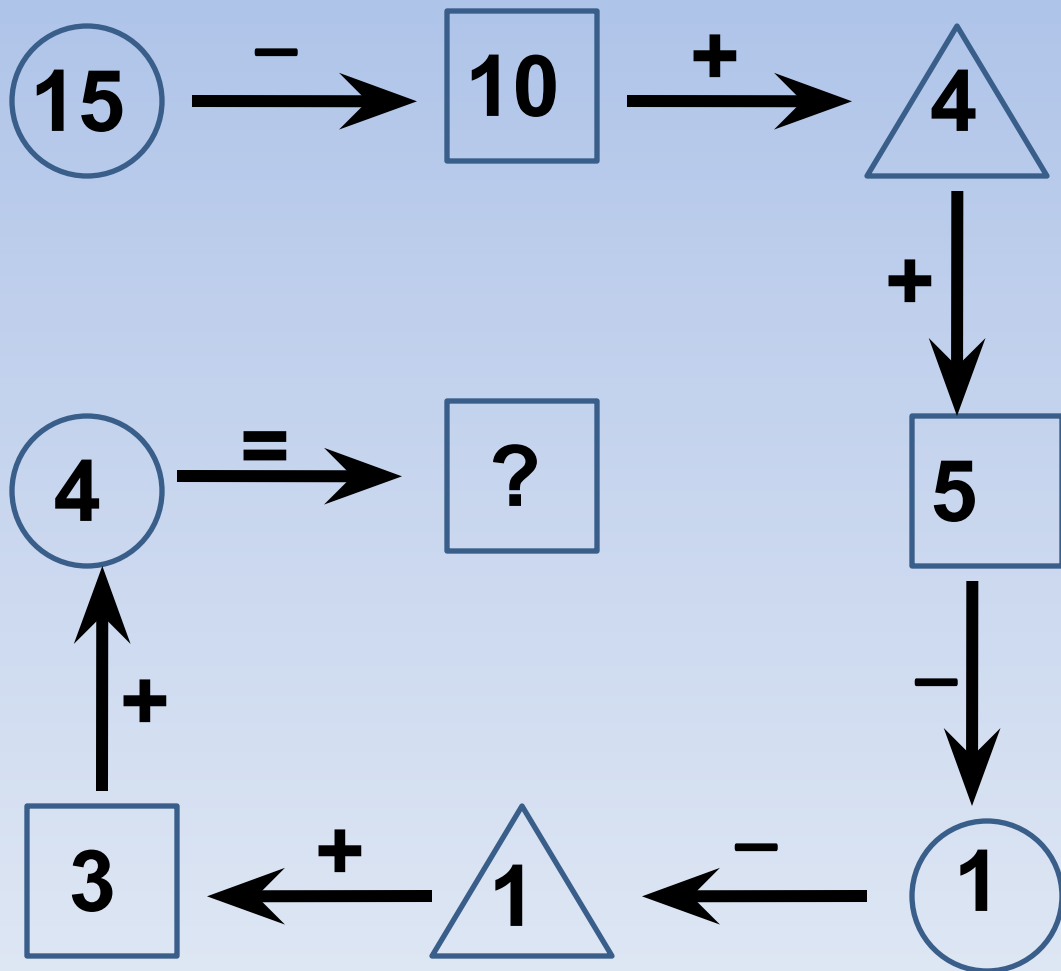


Три гуся летят над нами.
Три других за облаками,
Два спустились на ручей.
Сколько было всех гусей?

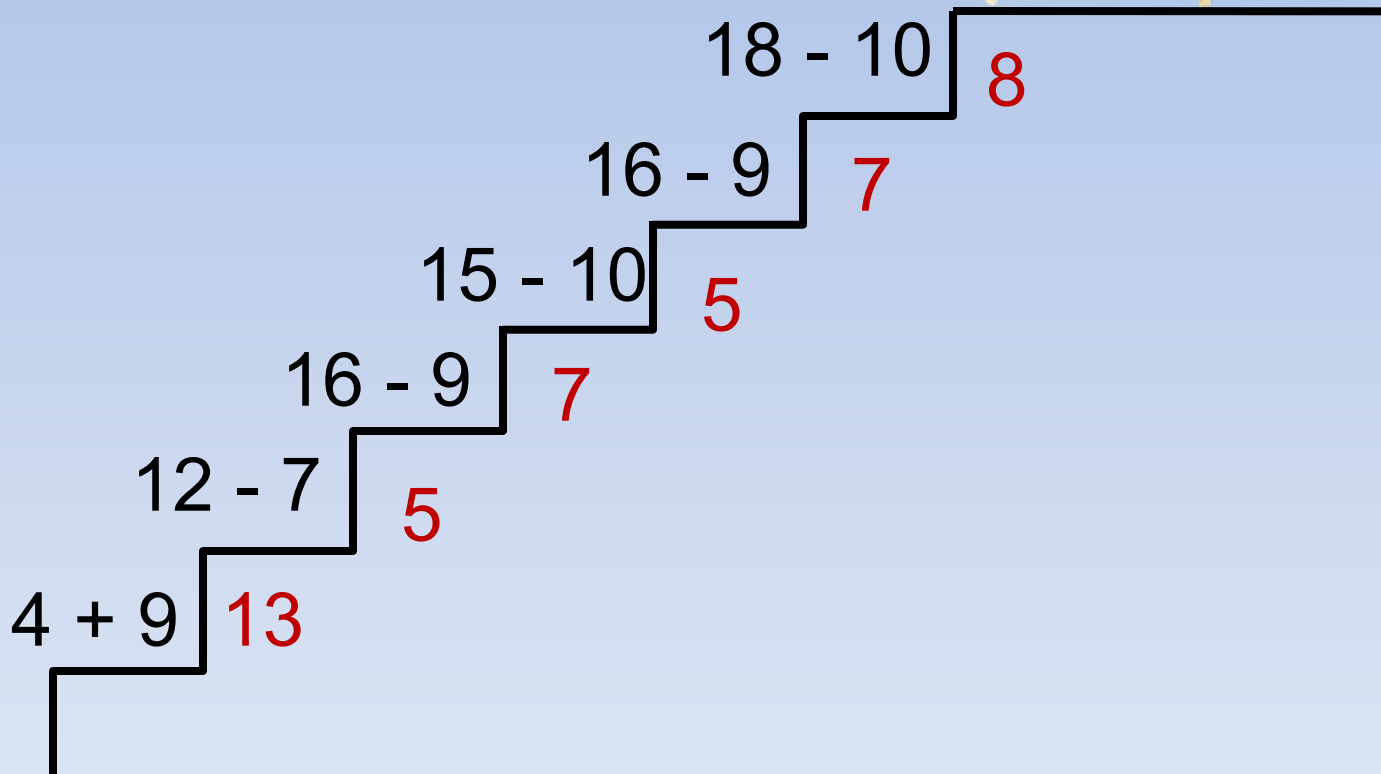


Две мышки проникли в квартиру,
Решили попробовать сыру.
Тут следом явились подружки -
Три сереньких мышки-норушки.
Кот спал в это время на крыше.
Про этот не ведая пир.
А ну, сосчитай, сколько мышек
Съели оставленный сыр?

Помогите Винтику и Шпунтику выполнить вычисления



Лесенка астронома Стекляшкина



Волшебные квадраты

Знайки

1	3	3
5	0	2
1	4	2



5	2	2
0	3	6
4	4	1





ШИФРОГРАММА



16	9	5	11	3	8	1	7	2	12	15	4	10	13	6	14
!	м	т	л	б	ы	р	в	е	о	ы	я	о	д	а	ц



Ребята,
вы
молодцы!



Использованные ресурсы:

http://img1.liveinternet.ru/images/attach/b/4/103/207/103207515_041.png

<http://funforkids.ru/pictures/neznaika/neznaika10.png>

<http://funforkids.ru/pictures/neznaika/neznaika05.png>

http://f1.live4fun.ru/pictures/img_7926719_17_2.jpg

<http://funforkids.ru/pictures/neznaika/neznaika01.png>

<http://funforkids.ru/pictures/neznaika/neznaika34.png>

<http://funforkids.ru/pictures/neznaika/neznaika09.png>

<http://bookcube.ru/uploads/taginator/Aug-2013/setka-zanyatij-vo-vtoroj-mladshej-gruppe-po.jpg>

<http://artbull.ru/content/neznaika-i-ego-druzya-zagadki>