


**Игра - Вертушка
«Путешествие по школьным
предметам»
Подготовила Минаева В.Н.**

Думай, смекай,
отгадывай





Игра вертушка «путешествие по школьным предметам» - это игра-путешествие по станциям, на которых необходимо выполнить определённые задания за определенное время и получить баллы.

Победителем игры считается команда, набравшая наибольшее количество баллов.





Правила работы:

1. Работаем в группах. Начинаем и заканчиваем работу по сигналу.
2. На каждой станции группа получает задание, они могут состоять из нескольких блоков.
3. Полученные задания группа выполняет командой или распределяет задания между членами группы.
4. Важно успеть выполнить все задания правильно за отведенное время.
5. За скорость вы можете заработать дополнительные баллы.
6. Учитывается слаженность работы в группе и дисциплина.

1 станция

«РЕБУСЛАНДИЯ»



Ми



О=У






2 станция «Шифровальная»

Расшифруй изречение Г. Галилея:

▲■◆▲▲■◆●▲■-▲◆● Я◆■▲,
■■ ▲●◆●●●▲ ■■◆●◆■■
▲■●■■ ◆●●●●●■.



Ключ:

	△	○	□	◇
→	М	И	Г	С
→	К	Р	Н	Т
→	Е	О	А	П
→	Э	Д	Ы	З



3.станция «Литературная»



4.станция «Эрудит»



Эрудит

5.станция «Математическая»



6.станция «Логическая»



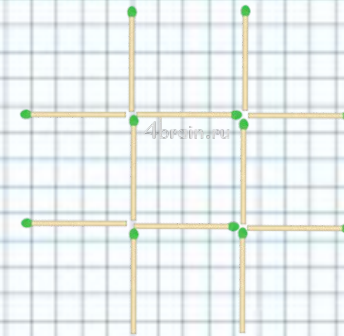
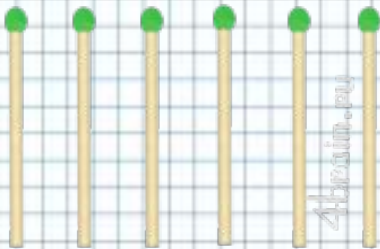
$$\text{3 pairs of red sneakers} + \text{3 pairs of red sneakers} + \text{3 pairs of red sneakers} = 30$$

$$\text{1 pair of red sneakers} + \text{2 cats} + \text{2 cats} = 20$$

$$\text{1 cat} + \text{2 whistles} + \text{2 whistles} = 13$$

$$\text{1 pair of red sneakers} + \text{1 cat} \times \text{1 whistle} = ?$$

7. станция нестандартно мыслящих



**Задание. Необходимо
разместить
6 спичек так, чтобы каждая
спичка
соприкасалась
с остальными пятью**

**Условие. Необходимо
переложить 3 спички
так, чтобы получить
ровно 3 квадрата.**






Поехали!





8.станция «Шуточная»

1. Что у Бориса впереди, а у Глеба сзади?
3. Когда человек бывает в комнате без головы?
4. Чем оканчиваются день и ночь?
5. Какие часы показывают точное время только два раза в сутки?
6. Что легче: килограмм ваты или килограмм железа?
7. По чему, когда хочешь спать, идешь на кровать?
8. Что надо сделать, чтобы четыре парня остались в одном сапоге?
8. Ворона сидит, а собака на хвосте сидит. Может ли это быть?
9. Когда черной кошке легче всего пробраться в дом?
10. В каком месяце болтливая Машенька говорит меньше всего?
11. Растут две березы. На каждой березе по четыре шишки. Сколько всего шишек?
12. Что случится с голубым шарфом, если его положить в воду на пять минут?
13. Как написать слово "мышеловка" пятью буквами?
14. Когда коня покупают, какой он бывает?



***Всем спасибо за работу
и сотрудничество!***

До новых встреч!