

МОЯ МАЛАЯ РОДИНА

КАК ВЫ ДУМАЕТЕ, ЧТО ТАКОЕ МАЛАЯ РОДИНА?

КРАЙ

ОБЛАСТЬ

РЕСПУБЛИКА

ГОРОД

СЕЛО

ДЕРЕВНЯ

РЕСПУБЛИКА КОМИ

- Основана 22 августа 1921 года. Занимает почти весь северо-восток европейской части России.
- На севере граничит с Ненецким автономным округом, на западе – с Архангельской областью, на юге и востоке – с Кировской, Пермской и Тюменской областями.
- На ее территории, превышающей 400 000 км могли бы одновременно разместиться такие государства, как Голландия, Бельгия, Дания, Люксембург и Швейцария.



СХЕМАТИЧНАЯ КАРТА РЕСПУБЛИКИ КОМИ

Задание

«Города республики Коми»

Каждый город зашифрован под своей буквой.

Вам необходимо, пользуясь схематичной картой республики Коми, разгадать все города и определить город **С**.

- Город **X** – столица нашей республики.
- Город **У** лежит за полярным кругом.
- Город **В** – второй от города **X** и пятый от города **У**.
- Города **A** и **B** находятся на самом маленьком расстоянии друг от друга.
- Город **N** соседствует с городом **У**, но лежит южнее.
- Если ехать в город **У** из города **A**, то первой остановкой будет город **Z**.
- Город **M** находится на таком же расстоянии к юго-западу от города **B**, как и город **N** к югу от города **У**.
- Если от города **M** проехать 5 городов к северу, вернуться на 4 города, а затем снова проехать 3 города, вы окажетесь в городе **C**. Назовите город **C**!

Проверим...

Столица нашей республики –
Сыктывкар.

Сыктывкар – город X.

За полярным кругом лежит город
Воркута.

Воркута – город У.

Ухта – второй город от Сыктывкара и
пятый город от Воркуты.

Ухта – город В.

Города Ухта и Сосногорск находятся
на самом маленьком расстоянии.

Сосногорск – город А.

Инта находится южнее Воркуты и
соседствует с ней.

Инта – город N.

Если ехать из Сосногорска в Воркуту,
то первой остановкой будет Печора.

Печора – город Z.

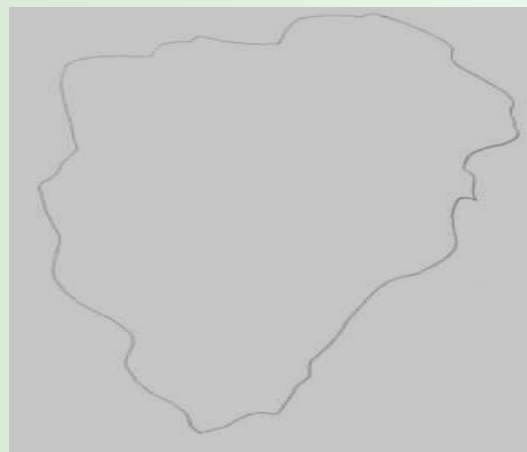
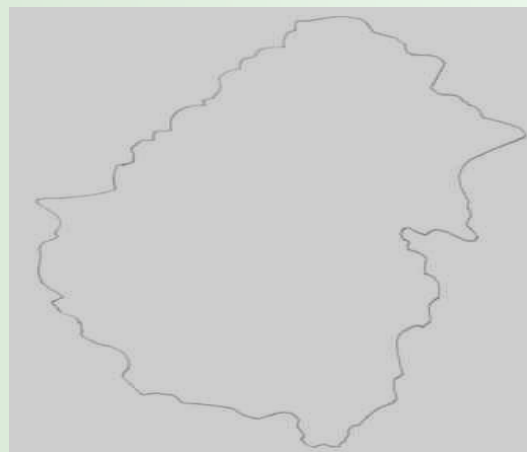
Город Микунь находится на таком же расстоянии к юго-западу от Ухты, как и Инта к югу от Воркуты.

Микунь – город М.

Если от Микуни проехать 5 городов к северу, вернуться на 4 города, а затем снова проехать 3 города к северу, вы окажетесь в Усинске.

Усинск – город С.

Определите, какой из вариантов соответствует очертаниям Республики Коми



Следующее задание:
составьте административную
карту республики Коми из 14
частей

Задание «Город»

Определите, какие здания,
сооружения и
достопримечательности обозначены
на карте города Инты

Выберите правильный ответ

Какой площади нет в
нашем городе?

- а) Ленина
- б) Комсомольская
- в) Лермонтова
- г) Кирова



Какой улицы нет в
нашем городе?

а) Мира

б) Дедушкина

в) Куратова

г) Кирова



Какая шахта в нашем городе
продолжает работать?

- А) Глубокая
- Б) Капитальная
- В) Интинская
- Г) Восточная

Какой город находится не в
Республике Коми?

А) Усинск

Б) Великий Устюг

В) Ухта

Г) Печора

Какие цвета присутствуют на флаге Республики Коми?

- а) синий-зеленый-белый
- б) белый-красный-черный
- в) синий-желтый-зеленый
- г) белый-зеленый-желтый

Какой школы нет в нашем городе?

А) 4

Б) 2

В) 9

Г) 8

На каком
автобусе мы
сможем доехать
до вокзала?

а) 3

б) 1

в) 5

г) 101



На какой улице
находится наша
школа?

- а) Чайковского
- б) Мира
- в) Полярная
- г) Социалистическая



Какое животное не
встречается в
Республике Коми?

- а) медведь
- б) свинья
- в) гепард
- г) волк



Как фамилия главы

Республики Коми?

- а) Гейзур
- б) Гайзер
- в) Гейзер
- г) Гайзур

Сколько домов на улице
Северная?

а) 16

б) 15

в) 9

г) 1

Как называется
достопримечательность,
которая видна из окон
нашей школы?

- а) Пизанская башня
- б) Водонапорная башня
- в) Водяная башня
- г) Маяк



В каком году образована наша республика?

а) 1916 г.

б) 1922 г.

в) 1921 г.

г) 1918 г.

Когда мы отмечаем день рождения Республики Коми?

а) 13 сентября

б) 7 октября

в) 22 августа

г) 30 июня

Какой автомобильный код у
Республики Коми?

а) 16

б) 39

в) 11

г) 60

Когда Инта
получила статус
города?

- а) 7 ноября 1955 г.
- б) 4 октября 1954 г.
- в) 2 сентября 1953 г.
- г) 9 декабря 1952 г.




Как называется
река,
протекающая под
окнами нашей
школы?

а) Уса

б) Инта

в) Косью

г) Вычегда



Сколько километров разделяют
Инту и столицу России?

- а) 1500 км
- б) 2000 км
- в) 1000 км
- г) 3000 км

Какая улица была образована раньше других?

- а) Мира
- б) Куратова
- в) Кирова
- г) Бабушкина

Как раньше называлась улица
Мира?

- а) улица Жданова
- б) улица Свободы
- в) улица Широкая
- г) улица Главная

**Проверим правильность
ваших ответов**

**Любите и
берегите свою
МАЛУЮ
РОДИНУ!**