



Викторина по

ДДД

Какой из этих дорожных знаков относится к разрешающим?

1




2



3




4





Что обозначает
этот дорожный знак?

1. лестница
2. подземный переход
3. наземный переход
4. вход в подвал



Какой из этих знаков «лишний»? Почему?

1




2



3



4



1



2



3



4



Назовите знак, который запрещает движение пешеходов.



Сколько сигналов
у пешеходного светофора?



1). 3

2). 4

3). 2

4). 1



Как на проезжей части улиц и дорог обозначен пешеходный переход?

1). кружочками

2). полосками

3). квадратами

4). треугольниками.



Как нужно переходить дорогу, если нет светофора?

- 1). Нужно посмотреть налево
- 2). Нужно посмотреть направо
- 3). Нужно посмотреть сначала налево,
потом направо
- 4). Нужно посмотреть сначала направо,
потом налево



Какого дорожного знака не существует?

1



2



3



4



Что обозначает этот знак?



1. Мойка автомобилей
2. Опасно! Инопланетяне похищают автомобилистов!
3. Техническое обслуживание автомобилей
4. Внезапные осадки



Является ли тротуар частью дороги?



1. Является
2. Не является
3. Не является, если отделён от неё газоном
4. Является, если там ездят машины



Элементы дороги предназначенные для движения безрельсовых транспортных средств

1. Полоса движения

2. Проезжая часть

3. Автомагистраль

4. Обочина



Каким цветом бывает разметка на дороге?

- 1). белым и розовым
- 2). белым и жёлтым
- 3). жёлтым и чёрным
- 4). белым

