



МАГАЗИН ИГРУШЕК

# СБОРЫ В МАГАЗИН

## 1. Посчитать цепочкой

- от **1** до **10**;
- от **10** до **1**;
- от **5** до **9**;
- от **7** до **3**;
- от **4** до **10**;
- от **8** до **2**.

## 2. Назвать соседей числа

3 4 5

1 2 3

8 9 10

7 8 9

### 3. Назвать последующее число

5 6

8 9

7 8

3 4

# 4. Считалки - задачки

6



Сказал котёнок Котофей:  
Мечтаю скушать пять мышей,  
Потом ещё бы одного...  
А сколько же мышей всего?




4

Шепчет слон слонихе тихо:

-Разболелась голова.

Ты напомни мне, слониха,

Сколько будет **два и два?**





**Наступил конец считалок.  
И еще ответьте нам:  
Пролетело девять галок,  
А потом еще одна.  
Заключительный вопрос:  
Сколько ж птичек пронеслось?**

**10**

# МАГАЗИН ИГРУШЕК





Чтобы магазин открылся, нужно расставить числа по порядку.



# Покупка игрушки



# Сравнить числа

$$8 > 7$$

$$3 < 4$$

$$6 < 9$$

$$5 > 4$$

$$8 = 8$$

$$9 >$$

6

# Покупка игрушки




# Покупка игрушки



# Покупка игрушки



Из каких геометрических фигур  
состоит домик.




# Покупка игрушки





Из каких геометрических фигур  
состоит рыбка.



# Покупка игрушки



# Игра «Поезд»

Зайчик едет в первом вагоне слева.



# Игра «Поезд»

Мышка едет во втором вагоне справа.



# Игра «Поезд»

Ёжик едет во втором вагоне слева.



# Игра «Поезд»

А попугай должен ехать в третьем вагоне справа.



# Игра «Поезд»



# Покупка игрушки





Записать и решить примеры

$$2 + 1 = 3$$

$$5 - 1 = 4$$

$$9 + 1 = 10$$

$$6 - 6 = 0$$

**МОЛОДЦЫ!**