

# Самостоятельная работа № 3






1



2



3



**1. В каких странах  
расположены эти сооружения?**



1



2



3



**2. В каких странах  
стоят эти ворота?**



1



2



3



**3. В каких странах  
были найдены эти изображения?**



# 4. В каких странах можно встретить эти сооружения?

4

3

2

1




1




2



3




4



**5. Какое изображение здесь лишнее?  
Объясните свой ответ.**



1




2



3



4



**6. Какое изображение лишнее?  
Объясните свой ответ.**





1



2

**7. В чем  
принципиальное  
различие этих  
изображений?**



## **8. Продолжите следующие предложения:**

- a. «Дорога восхождения» в Древнем Египте сооружалась от ... к ... .**
- b. Ступа в Индии предназначалась для ... .**
- c. Обелиски в египетских храмах чаще всего ставили перед ... .**
- d. Конструкция из стоек и балки, помещенной на них, называется ...**
- e. Чаще всего для пещерных рисунков древние люди применяли глиняную краску, которую сегодня называют ... .**
- f. В Китае роль индийской ступы выполняет ... .**
- g. Кромлех – это ... .**



**9. Как вы  
думаете,  
почему**



**Эти сооружения мы  
относим к  
произведениям  
архитектуры?**

