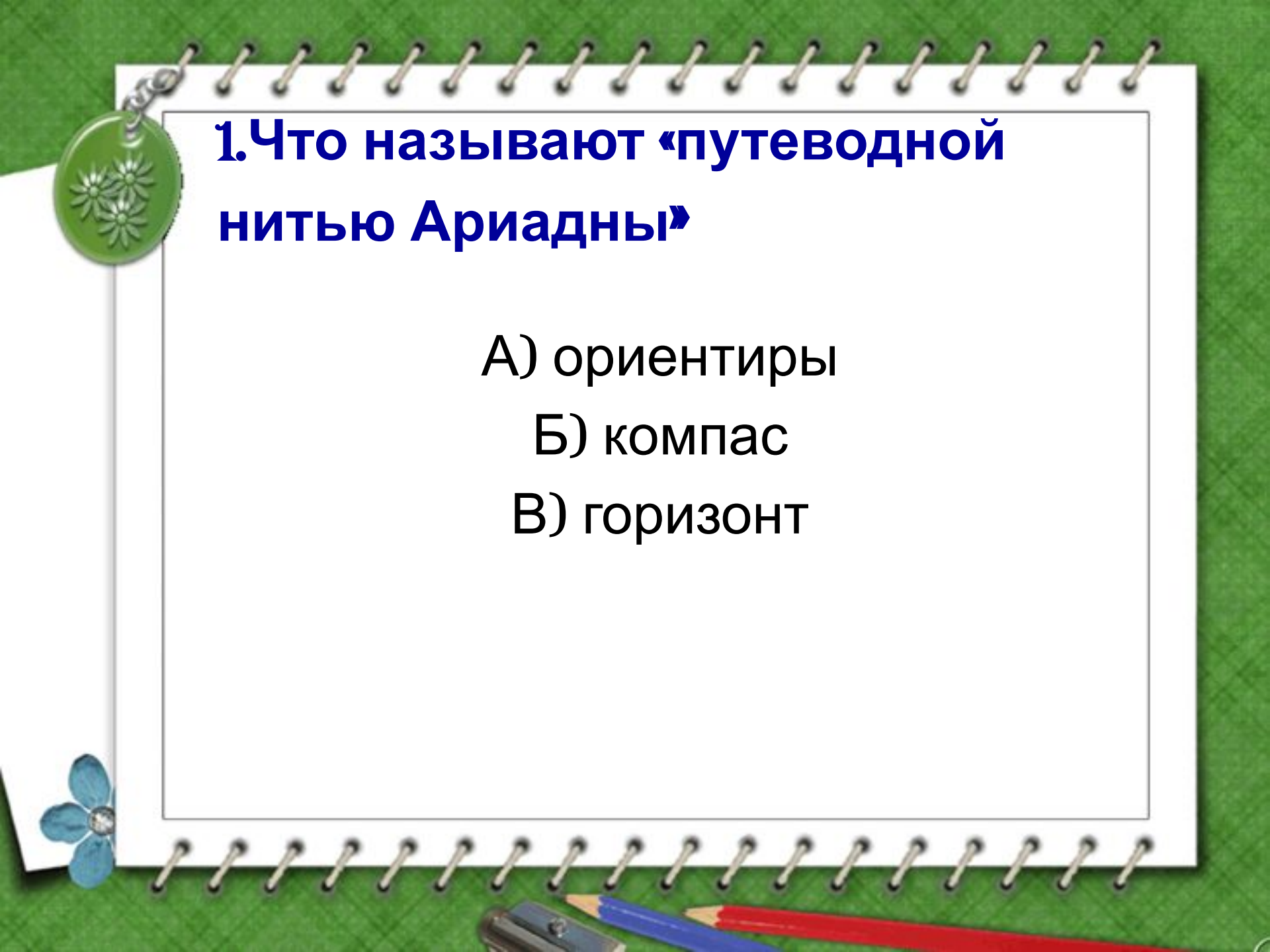




ТЕСТ

**«Как ориентироваться
на местности»**



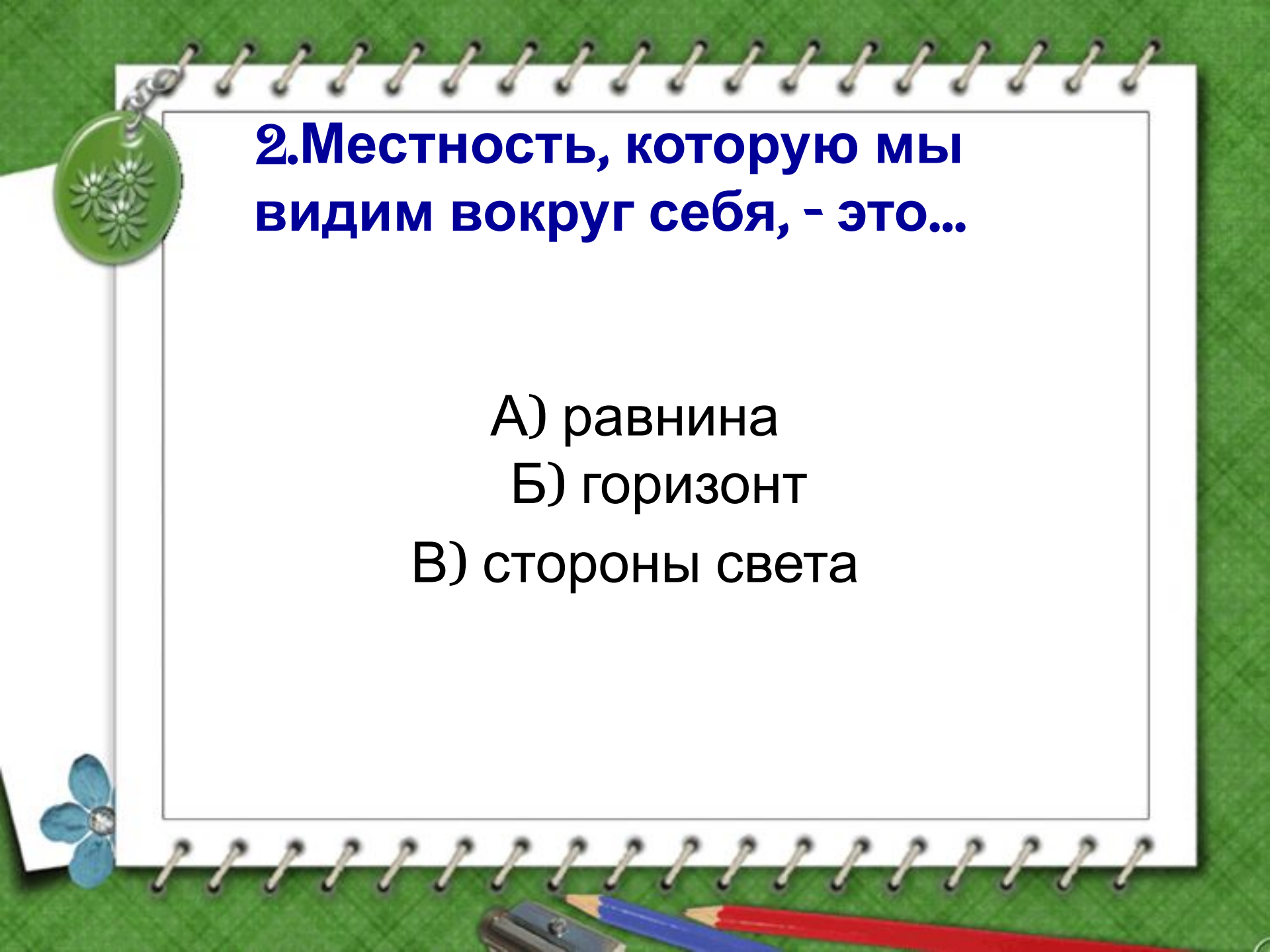
1. Что называют «путеводной нитью Ариадны»

А) ориентиры

Б) компас

В) горизонт





2. Местность, которую мы видим вокруг себя, - это..

- А) равнина
- Б) горизонт
- В) стороны света



3. Полярная звезда указывает

- А) на юг
- Б) север
- В) запад
- Г) восток



4. Солнце в полдень находится:

А) на севере

Б) юге

В) востоке

Г) западе



5. Солнце восходит

А) на западе

Б) восходе

7. Прибор для определения сторон горизонта

А) термометр


Б) барометр

В) компас

Г) флюгер



8. Первые компасы изобретены:

- А) в России
 - Б) Китае
 - В) Португалии
 - Г) Испании
- 

ОТВЕТ:

1-А 2-Б 3-Б

4-В 5-Б 6-В 7-Б