

Тестові завдання

Блок тестів I

ЗАГАЛЬНА
ГЕОГРАФІЯ

Найвища гора в Південній Америці




- А. Мак-Кінлі
- Б. Палькочоча
- В. Аконкагуа
- Г. Кіліманджаро

На якому півострові знаходиться Греція?



- А. Піренейському
- Б. Апеннінському
- В. Аравійському
- Г. Балканському

Яке із зазначених держав
повністю оточена територією іншої
країни?



- А. Андорра
- Б. Люксембург
- В. Лесото
- Г. Ліхтенштейн

Хто зробив першу мандрівку на Південний полюс?



- А. Іван Папанін.
- Б. Руаль Амундсен.
- В. Фредерік Кук.
- Г. Олександр Кузнецов.

Яка з перерахованих країн
входить в число найбільших
виробників бавовни-волокна?



- А. Португалія.
- Б. Чехія.
- В. Індія.
- Г. Чилі.

Яка з країн Південної Америки не має виходу до океану?

- А. Еквадор.
- Б. Уругвай.
- В. Парагвай.
- Г. Аргентина.



Один з найбільших в світі фінансових центрів:



- А. Сінгапур.
- Б. Куала Лумпур.
- В. Джакарта.
- Г. Маніла.

В якій з вказаних країн
використання геотермальної
енергії дозволяє вирішити
енергетичну проблему?

- А. Франція
- Б. Ісландія
- В. Ірландія
- Г. Росія
- Д. Бразилія



Столиця Венесуели




- А. Еквадор.
- Б. Ескуальє.
- В. Барбадос.
- Г. Каракас.

Яка із зазначених країн Балтії
має найбільшу кількість
населення?

- А. Литва.
- Б. Латвія.
- В. Естонія.



Вкажіть найбільший за чисельністю населення місто із зазначених?



- А. Красноярськ
- Б. Новосибірськ
- В. Омськ

Хто здійснив першу навколосвітню подорож?



- А. Джеймс Кук.
- Б. Френсіс Дрейк.
- В. Фернан Магелан.
- Г. Тадей Беллінсгаузен.

Прилад, який визначає швидкість
вітру, називається ...

- А. Курвіметром.
- Б. Барометром.
- В. Сейсмографом
- Г. Анемометром.



Яка країна найбільша за чисельністю мусульманського населення?

- А. Саудівська Аравія.
- Б. Пакистан.
- В. Індонезія.
- Г. Іран.



Столиця М'янми:



- А. Янгон
- Б. Пномпень
- В. Нейпйідо
- Г. Ханой

Яка річка витікає з озера Байкал?

А. Ангара.

Б. Лена.

В. Єнісей.

Г. Баргузин.

Д. Сулунг.



Скільки приблизно відсотків води
на землі припадає на частку
прісної води?

- А. 25%
- Б. 3%
- В. 8%
- Г. 40%




Яке з перерахованих держав не має столиці?

- А. Кокосові острови.
- Б. Маврикій.
- В. Науру.
- Г. Сент-Кітс і Невіс.



Який найвищий водоспад в світі?

- А. Ніагарський.
- Б. Вікторія.
- В. Анхель.
- Г. Ігуасу.



Яка з цих країн повністю оточена територією іншої країни?

- А. Ліхтенштейн в Європі.
- Б. Лесото в Південній Африці.
- В. Еквадор в Південній Америці.
- Г. Бангладеш в Азії




В якому місті найбільше автомобілів Rolls-Royce на душу населення?

- А. Нью Йорк
- Б. Лондон
- В. Абу Дабі
- Г. Гонконг
- Д. Токіо



Скільки річок в Саудівській Аравії?

- А. 3564 річки.
- Б. 158 річок.
- В. 5 річок.
- Г. Жодної.



На прапорі якої держави 22 рази повторена напис "Аллах Акбар"?

А. Іраку.

Б. Саудівської Аравії.

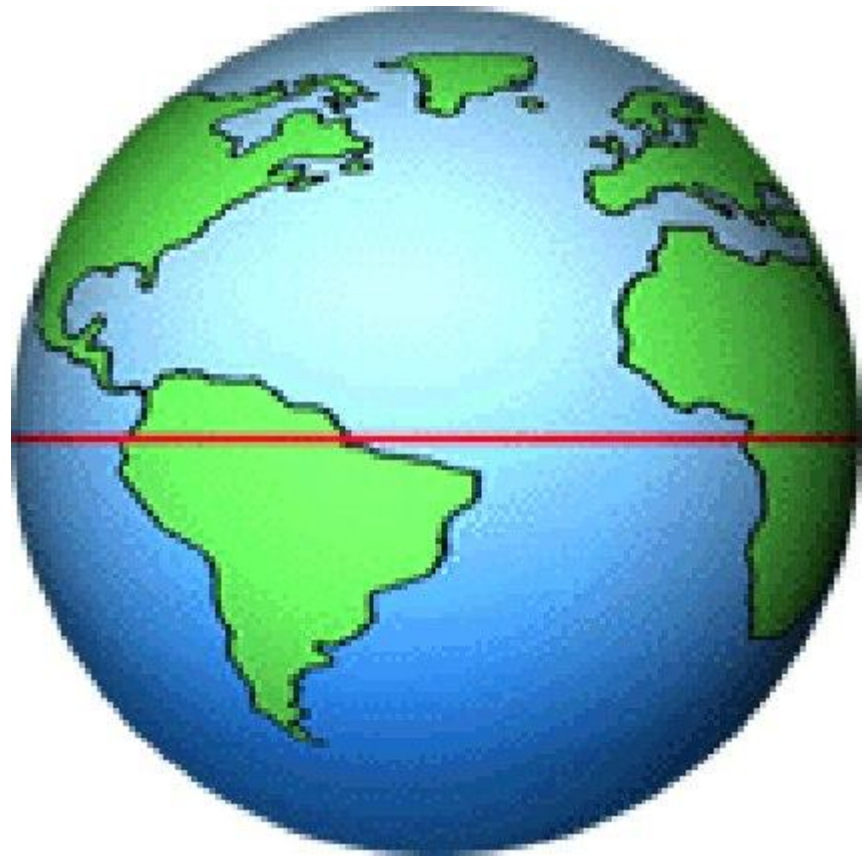
В. Ірану.

Г. Туркменістану.



Яка приблизна довжина екватора?

- А. 20 000 км
- Б. 40 000 км
- В. 200 000 км
- Г. 1 000 000 км

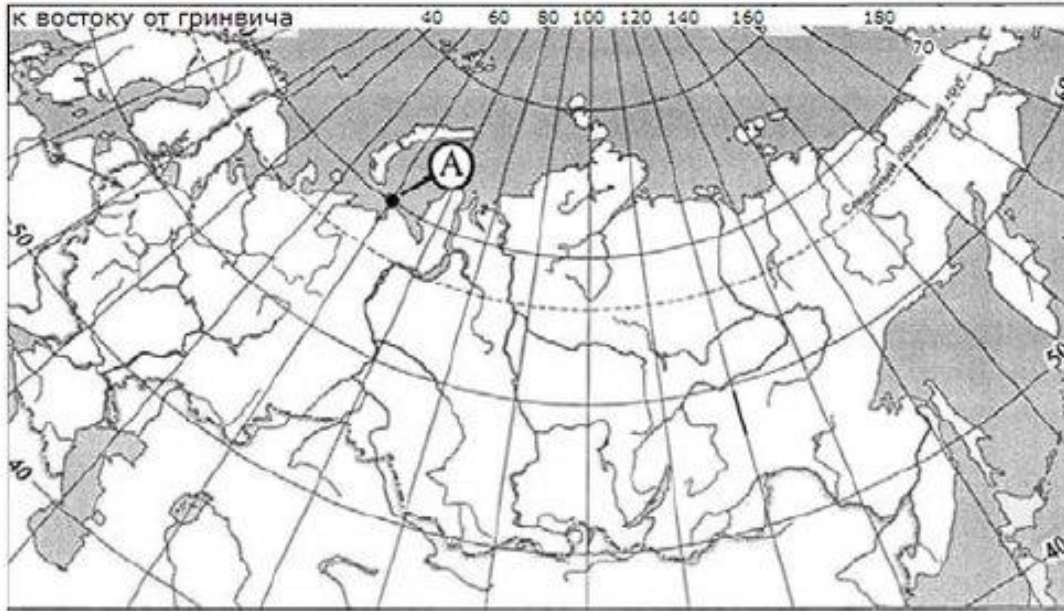


Столица Марокко:

- А. Алжир
- Б. Рабат
- В. Габоа
- Г. Масеру



Які географічні координати має точка, позначена на карті буквою А?



- А. 70° пн.ш. 60° східної довготи
- Б. 60° пн.ш. 70° східної довготи
- В. 70° пн.ш. 60° з.д.
- Г. 60° пн.ш. 70° з.д.

В якій з перерахованих країн
частка дітей у загальній
чисельності населення
найбільша?

- А. Австралія
- Б. Нігер
- В. Польща
- Г. Німеччина




В який день на всій Землі
тривалість дня дорівнює
тривалості ночі?

- А. 22 грудня
- Б. 22 червня
- В. 21 березня
- Г. 23 листопада



Яке з перерахованих держав розташоване в Азії?

- А. Албанія
- Б. Камбоджа
- В. Судан
- Г. Уругвай



Саудівська Аравія - великий постачальник на світовий ринок:

- А. кукурудзи
- Б. стали і прокату
- В. нафти і газу
- Г. пшениці



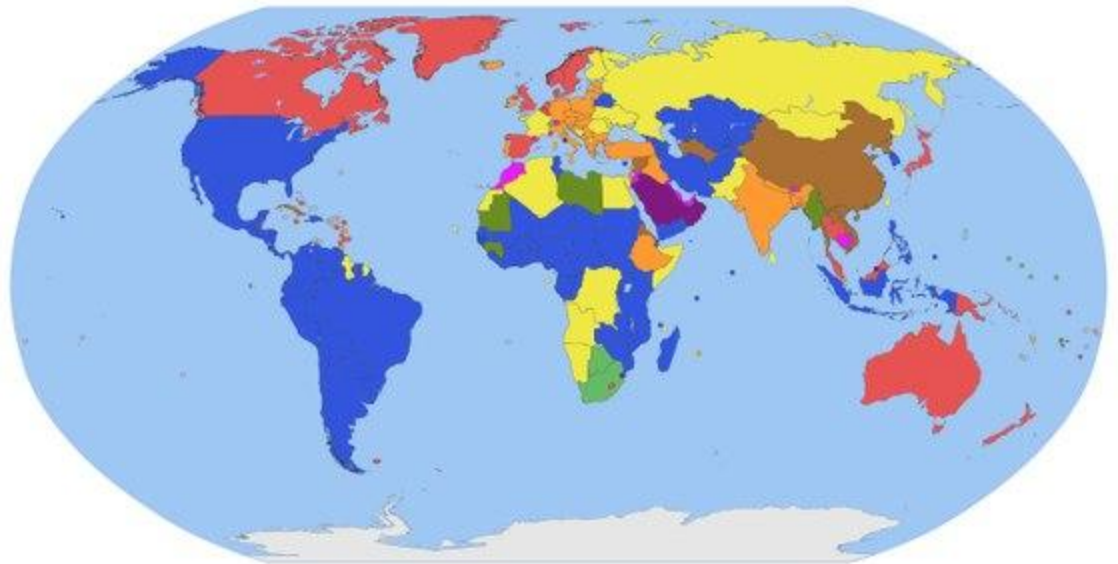
Форма правління Росії така ж, як і в:

А. Іспанії

Б. Німеччині

В. Норвегії

Г. Великобританії



Який з перерахованих народів сповідує іслам?

- А. Татари.
- Б. Калмики.
- В. Карели.
- Г. Марійці.



Який з перерахованих міст Європейського Півдня є морським портом?

- А. Краснодар.
- Б. Новоросійськ.
- В. Майкоп.
- Г. Кисловодськ.



Яка з перерахованих країн розташована в Африці?

- А. Болівія
- Б. Монако
- В. Бангладеш
- Г. Судан



Для якої природної зони характерні чорноземні ґрунти?

- А. степів
- Б. тайги
- В. змішаних лісів
- Г. широколистяних лісів




На якому з перелічених островів є діючий вулкан?

- А. Тасманія
- Б. Шрі-Ланка
- В. Мадагаскар
- Г. Ісландія



Столиця Норвегії?

- А. Стокгольм.
- Б. Берн.
- В. Копенгаген.
- Г. Осло.
- Д. Цюрих.



Яка з перерахованих гірських систем Євразії має найбільшу абсолютну висоту?

- А. Памір.
- Б. Альпи.
- В. Алтай.
- Г. Саяни.



Найбільша частина запасів прісних вод на Землі міститься в:

- А. Льодовиках.
- Б. Річках.
- В. Озерах.
- Г. Болотах.



Основний компонент повітря?

А. Азот.

Б. Кисень.

В. Вуглекислий газ.

Г. Водень.



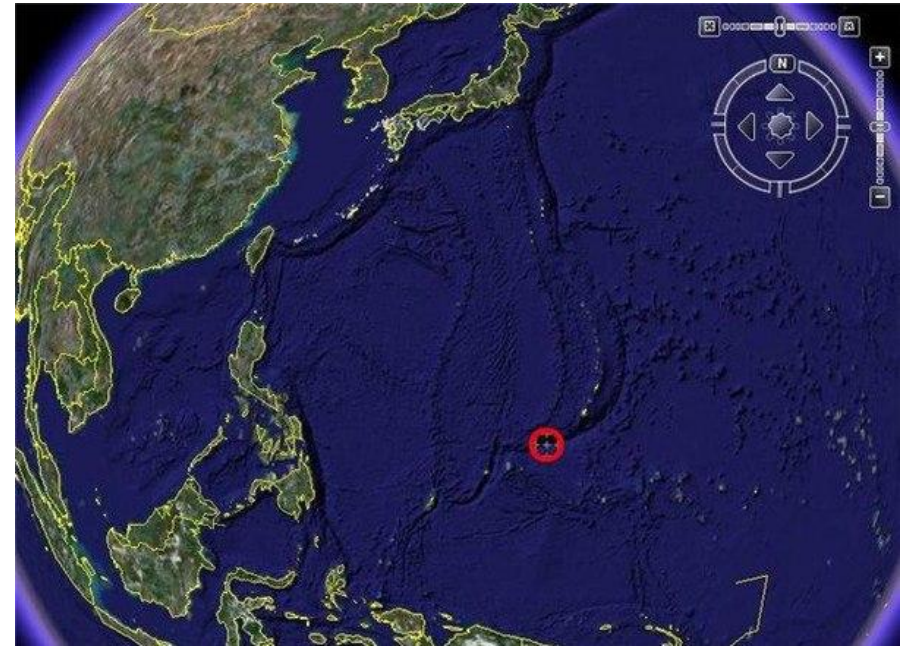
На якому континенті знаходиться гора Косцюшко?

- А. Північна Америка.
- Б. Південна Америка.
- В. Африка.
- Г. Євразія.
- Д. Австралія.
- Є. Антарктида.




Глибина Маріанської западини?

- А. Близько 7000 метрів.
- Б. Близько 11000 метрів.
- В. Близько 22000 метрів.
- Г. Близько 101000 метрів.



Столиця Боснії та Герцеговини?

- А. Белград.
- Б. Тирана.
- В. Сараєво.
- Г. Софія.



БЛОК ТЕСТІВ II

НЕВИЗНАНІ
КРАЇНИ СВІТУ ТА
ЗАЛЕЖНІ
ТЕРИТОРІЇ

Чий це адміністративний центр Алофі?

- А. Сінт-Мартен
- Б. Кайманові острови
- В. Ніуе
- Г. Монтсеррат
- Д. Шпіцберген

Яка територія зображена на карті?

- А. Мелілья
- Б. Ніуе
- В. Реюньйон
- Г. Бонайре
- Д. Сен-Бартелемі



Чий це прапор?

- А. Французька Полінезія
- Б. Кокосові острови
- В. Бонайре
- Г. Аландські острови
- Д. Гваделупа



Чий це герб?

- А. Британські Віргінські острови
- Б. Кайманові острови
- В. Саба
- Г. острів Норфолк
- Д. Канарські острови



Чий це герб?

- А. Гваделупа
- Б. Гуам
- В. Французька Полінезія
- Г. Острови Піткерн
- Д. Шпіцберген



Чий це прапор?

- А. Кайманові острови
- Б. Шпіцберген
- В. Мадейра
- Г. Монтсеррат
- Д. Кука острови



Яка країна зображена на карті?

- А. Турецька Республіка
Північного Кіпру
- Б. Пунтленд
- В. Луганська Народна
Республіка
- Г. Азанія
- Д. Авдалленд



Чий це адміністративний центр СЕНТ-Дені?

А. Гренландія

Б. Уолліс і Футуна

В. Віргінські острови США

Г. Бермудські острови

Д. Реюньйон

Чий це прапор?

- А. Кайманові острови
- Б. Британські Віргінські острови
- В. Токелау
- Г. Кокосові острови
- Д. Сен-Мартен



Чий це прапор?



- А. Луганська Народна Республіка
- Б. Химан і Хеб
- В. Арабська Демократична Республіка Сахари
- Г. Джубаленд
- Д. Сіленд

Чий це прапор?

- А. Мелілья
- Б. Острови Піткерн
- В. Нова Каледонія
- Г. Аруба
- Д. Віргінські острови США



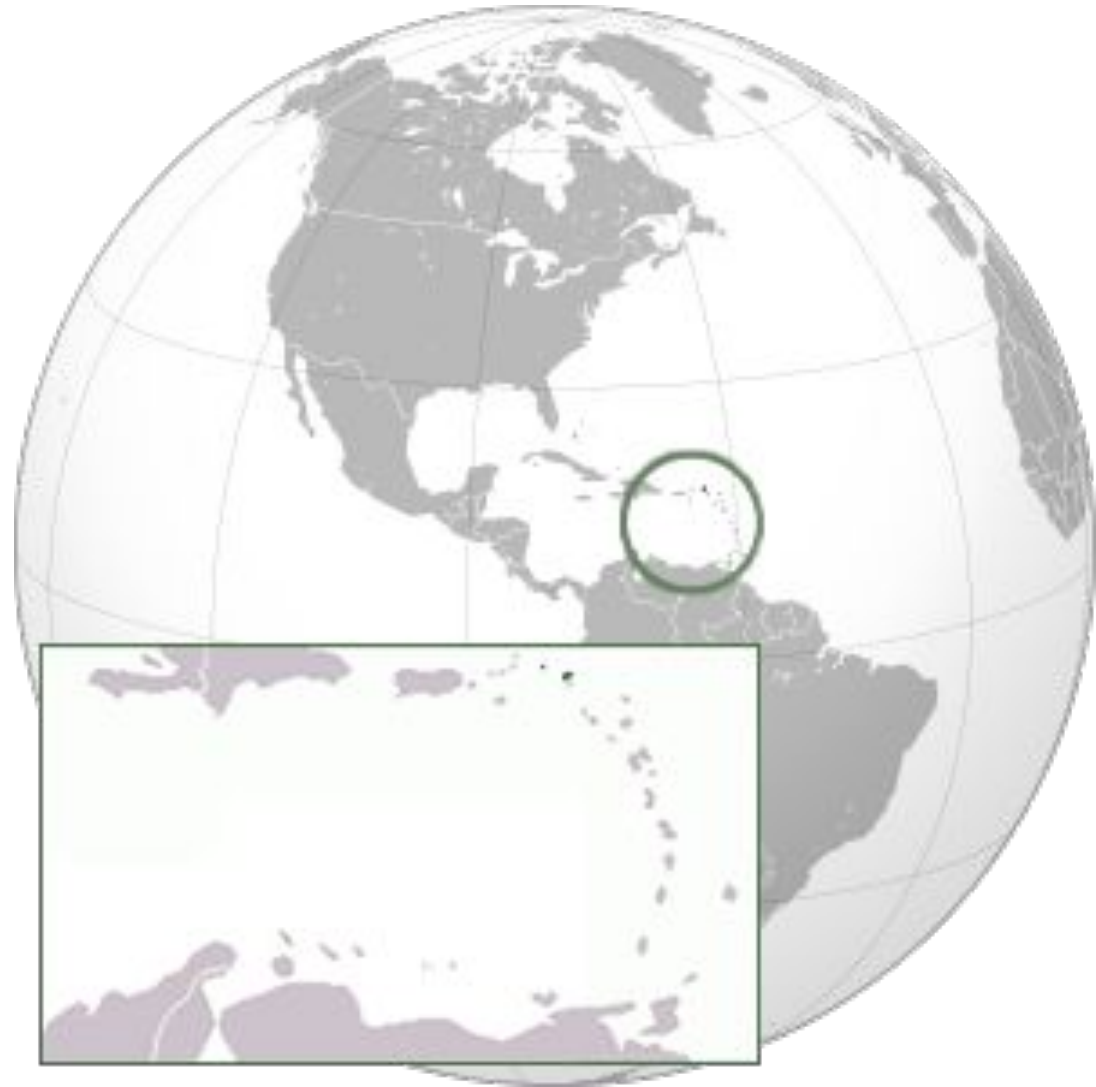
Яка територія зображена на карті?

- А. Майотта
- Б. Гвіана
- В. Теркс і Кайкос
- Г. Сен-Мартен
- Д. Бонайре




Яка територія зображена на карті?

- А. Північні Маріанські острови
- Б. Віргінські острови США
- В. Американське Самоа
- Г. Токелау
- Д. Ангілья




Чий це герб?

- А. Північні Маріанські острови
- Б. Віргінські острови США
- В. Монтсеррат
- Г. Сінт-Естатіус
- Д. Саба




Чий це герб?

- А. Химан і Хеб
- Б. Луганська Народна Республіка
- В. Мальтійський орден
- Г. Держава Ва
- Д. Пунтленд



Чий це герб?

- А. Північні Маріанські острови
- Б. Реюньйон
- В. Бонайре
- Г. острів Мен
- Д. Фарерські острови



Чий це адміністративний центр СЕНТ-Гелієр?

- А. Сен-Мартен
- Б. Сінт-Естатіус
- В. Джерсі
- Г. Уолліс і Футуна
- Д. Голанські висоти

Чий це прапор?

- А. Французькі Південні та Антарктичні території
- Б. Аландські острови
- В. Кайманові острови
- Г. Гваделупа
- Д. Британські Віргінські острови



Яка територія зображена на карті?



- А. Французька Полінезія
- Б. Британські Віргінські острови
- В. Фарерські острови
- Г. Майотта
- Д. Сінт-Естатіус

Чий це прапор?

- А. Авдалленд
- Б. Вазиристан
- В. Галмудуг
- Г. Азавад
- Д. Азад Джамму і Кашмір



Чий це герб?

- А. Мальтійський орден
- Б. Держава Шан
- В. Пунтленд
- Г. Турецька Республіка Північного Кіпру
- Д. Авдалленд



Чий це адміністративний центр Хагатна?

- А. Шпіцберген
- Б. острів Норфолк
- В. Фарерські острови
- Г. Антарктида
- Д. Гуам

Чий це герб?

- А. Ніуе
- Б. Фолклендські острови
- В. острів Норфолк
- Г. Сінт-Мартен
- Д. Уолліс і Футуна



Чий це прапор?

- А. Реюньйон
- Б. Сент-Мартен
- В. Французькі Південні та Антарктичні території
- Г. Сен-Бартелемі
- Д. Бермудські острови



Чий це герб?

- А. Сент-Бартелемі
- Б. Саба
- В. Гваделупа
- Г. Гонконг
- Д. Кайманові острови



Чий це прапор?

- А. Британські Віргінські острови
- Б. Гаваї
- В. Реюньйон
- Г. Сінт-Естатіус
- Д. Гонконг



Чий це адміністративний центр Торсхавн?

- А. Шпіцберген
- Б. Острови Святої Єлени, Вознесіння і
Трістан-да-Кунья
- В. Фарерські острови
- Г. острів Різдва
- Д. Північні Маріанські острови

Чий це герб?

- А. Французька Полінезія
- Б. Гернсі
- В. Теркс і Кайкос
- Г. Гренландія
- Д. Мадейра



Яка територія зображена на карті?

- А. Мартініка
- Б. Острови Святої Єлени, Вознесіння і Трістан-да-Кунья
- В. острів Різдва
- Г. Голанські висоти
- Д. Антарктида



Чия це столиця МАЛЬТІЙСЬКИЙ ПАЛАЦ?

- А. Нагірно-Карабахська Республіка
- Б. Республіка Косово
- В. Сомаліленд
- Г. Донецька Народна Республіка
- Д. Мальтійський орден

Чий це прапор?

- А. Сінт-Мартен
- Б. Американське Самоа
- В. Джерсі
- Г. Азорські острови
- Д. Гонконг



Яка територія зображена на карті?



- А. Острови Святої Єлени, Вознесіння і Трістан-да-Кунья
- Б. Шпіцберген
- В. Гібралтар
- Г. Пуерто-Ріко
- Д. Реюньйон

Чия це «столиця» ЛУГАНСЬК?

- А. Донецька Народна Республіка
- Б. Джубаленд
- В. Арабська Демократична Республіка
Сахари
- Г. Луганська Народна Республіка
- Д. Сомаліленд

Чий це прапор?

- А. Острови Норфолк
- Б. Британська територія в Індійському океані
- В. Гвіана
- Г. Саба
- Д. Фарерські острови



Чий це прапор?

- А. Токелау
- Б. Кокосові острови
- В. Майотта
- Г. Аруба
- Д. Макао



Чий це прапор?

- А. Північні Маріанські острови
- Б. Нова Каледонія
- В. Сен-Мартен
- Г. Теркс і Кайкос
- Д. Аландські острови



Чий це адміністративний центр БАС-ТУР?

- А. Мадейра
- Б. Гваделупа
- В. Уолліс і Футуна
- Г. Віргінські острови США
- Д. Макао

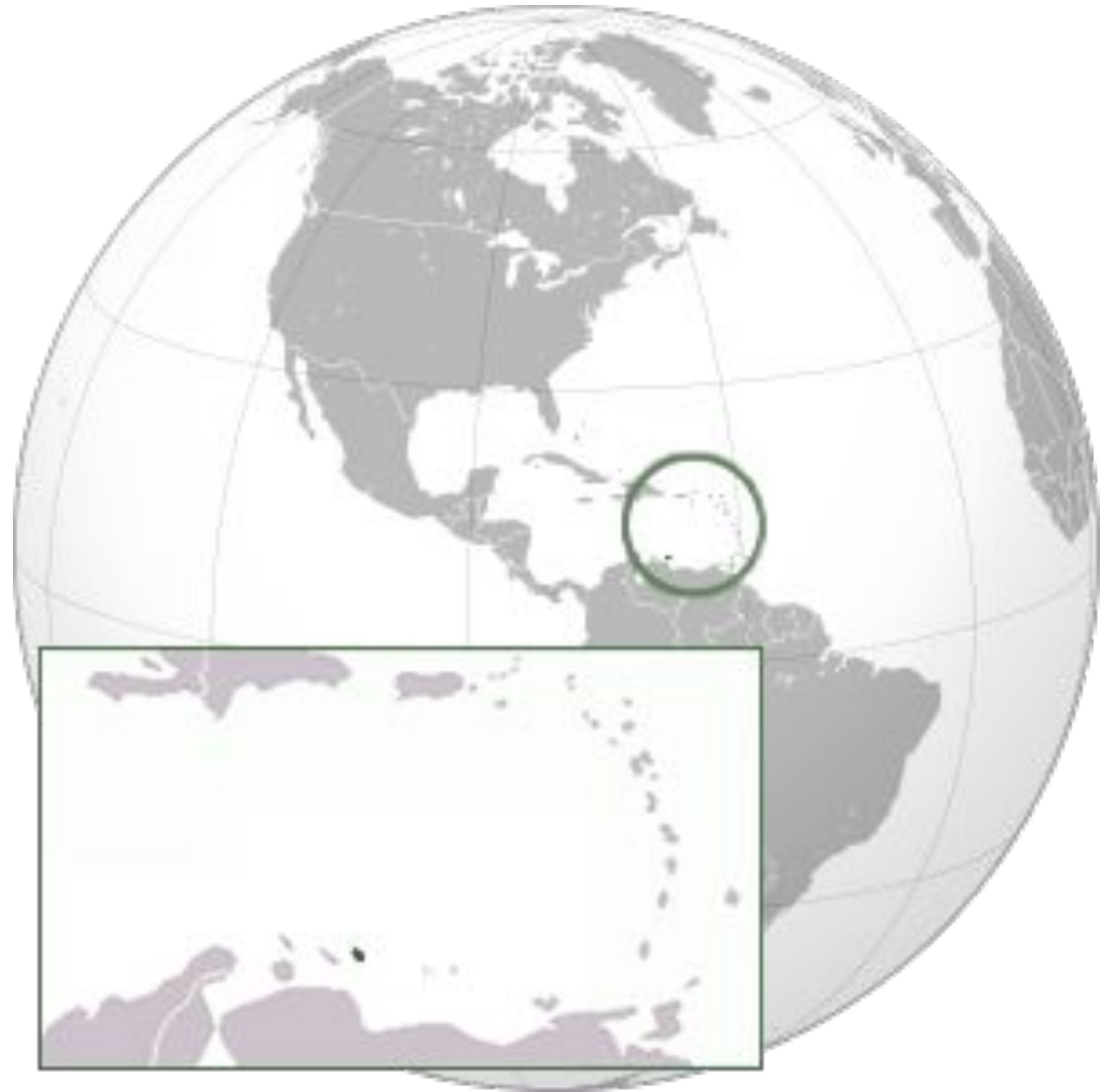
Яка територія зображена на карті?

- А. Фолклендські острови
- Б. Сен-Бартелемі
- В. Ніуе
- Г. Північні Маріанські острови
- Д. Бонайре



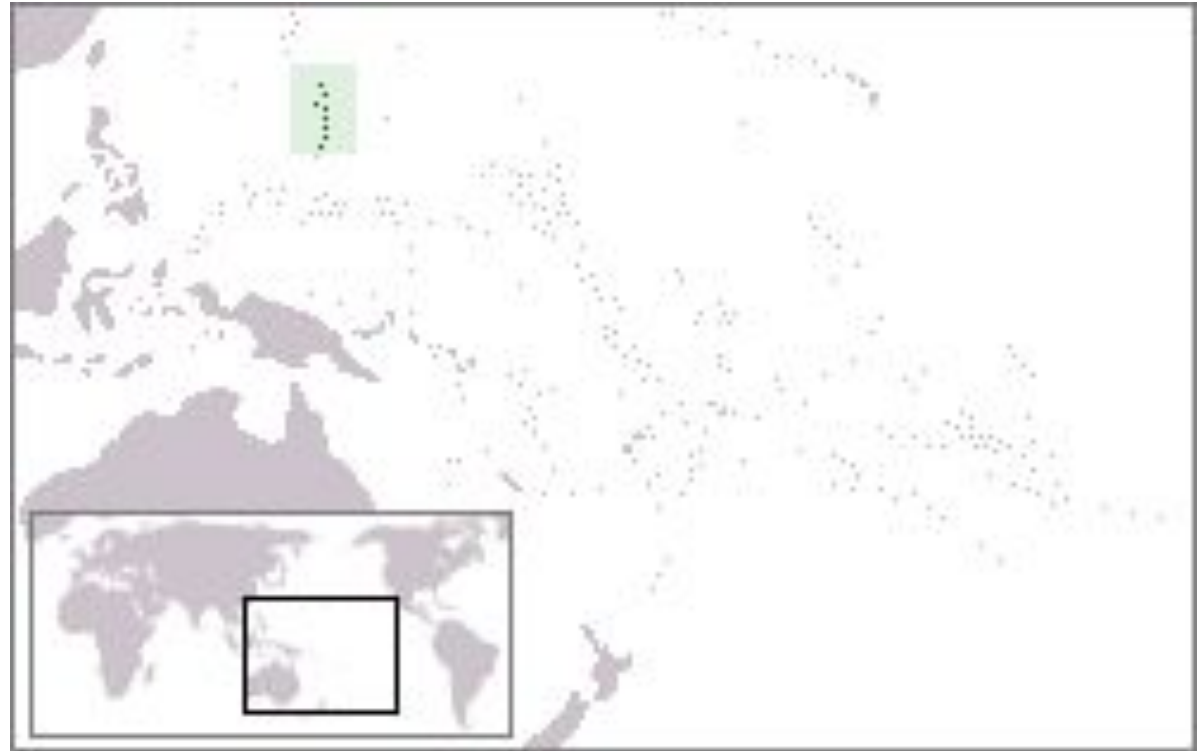
Яка територія зображена на карті?

- А. Аландські острови
- Б. Кайманові острови
- В. Гренландія
- Г. Бонайре
- Д. Острови Піткерн



Яка територія зображена на карті?

- А. Північні Маріанські острови
- Б. Сен-П'єр і Мікелон
- В. Острови Піткерн
- Г. острів Норфолк
- Д. Саба



Яка територія зображена на карті?



- А. острів Різдва
- Б. Азорські острови
- В. Гернсі
- Г. Голанські висоти
- Д. острів Мен

Чий це прапор?

- А. Англії
- Б. Мадейра
- В. Нова Каледонія
- Г. Сеута
- Д. Гаваї



Чий це герб?

- А. Нагірно-Карабахська Республіка
- Б. Республіка Косово
- В. Сіленд
- Г. держава Ва
- Д. Химан і Хеб



Чий це адміністративний центр Кайєна?

А. Гвіана

Б. Мелілья

В. Віргінські острови США

Г. Сен-П'єр і Мікелон

Д. Американське Самоа

Яка країна зображена на карті?

- А. Турецька
Республіка
Північного
Кіпру
- Б. Вазиристан
- В. Китайська
Республіка
- Г. Химан і Хеб
- Д. Арабська
Демократична
Республіка
Сахари




Яка країна зображена на карті?

- А. Китайська Республіка
- Б. Химан і Хеб
- В. Держава Шан
- Г. Арабська Демократична Республіка Сахари
- Д. Сіленд



Чий це герб?

- А. Французькі Південні та Антарктичні території
- Б. острів Різдва
- В. Гернсі
- Г. Кайманові острови
- Д. острів Норфолк



Чий це герб?

- А. острів Норфолк
- Б. Сен-Мартен
- В. Кюрасао
- Г. Французькі Південні та Антарктичні території
- Д. Південна Георгія та Південні Сандвічеві острови



Чий це герб?

- А. Химан і Хеб
- Б. Сіленд
- В. Арабська
Демократична
Республіка Сахари
- Г. Азавад
- Д. Джубаленд



Чий це адміністративний центр ГОНКОНГ?

- А. Британські Віргінські острови
- Б. Кука острови
- В. Французькі Південні та Антарктичні території
- Г. Гібралтар
- Д. Гонконг

Чий це герб?

- А. Джерсі
- Б. Гаваї
- В. Острови Піткерн
- Г. Бермудські острови
- Д. Французькі Південні та Антарктичні території



Яка територія зображена на карті?

- А. Яка Південна
Георгія та
Південні
Сандвічеві
острови
- Б. Теркс і Кайкос
- В. Острови Святої
Єлени,
Вознесіння і
Трістан-да-Кунья
- Г. Сен-П'єр і
Мікелон
- Д. Американське
Самоа




Чий це герб?

- А. Сеута
- Б. Кокосові острови
- В. Сінт-Естатіус
- Г. Гаваї
- Д. Фарерські острови



Чий це герб?

- А. Кюрасао
- Б. Гібралтар
- В. Гваделупа
- Г. Теркс і Кайкос
- Д. Гвіана



Чий це прапор?

- А. Сінт-Мартен
- Б. Фолклендські острови
- В. Сен-Бартелемі
- Г. Французька Полінезія
- Д. Гренландія

