

тестирование

1 класс

Введите фамилию и имя

Всего заданий

25

Начать тестирование

Как назвать ОБЩИМ СЛОВОМ? Окунь, карась - ...

- 1 плавают
- 2 вода
- 3 жарить
- 4 рыба
- 5 рыбачить



Как назвать одним словом? Метла, лопата - ...

- 1 дворник
- 2 совок
- 3 деревянные
- 4 инструменты
- 5 двор



Как назвать одним словом? Шкаф, диван - ...

- 1 квартира
- 2 мебель
- 3 палас
- 4 деревянная
- 5 большие



Как назвать одним словом? Слон, муравей - ...

- 1 живые существа
- 2 жираф
- 3 насекомые
- 4 серые
- 5 быстро бегают



Как назвать одним словом? Дерево, цветок - ...

- 1 зеленые
- 2 гладиолус
- 3 береза
- 4 цветы
- 5 растения



Выбери лишнее слово.

1 тюльпан

2 лилия

3 фасоль

4 ромашка

5 фиалка



Выбери лишнее слово.

- 1 река
- 2 озеро
- 3 море
- 4 МОСТ
- 5 пруд



Выбери лишнее слово.

1 курица

2 петух

3 орёл

4 гусь

5 индюк



Выбери лишнее слово.

1 Саша

2 Витя

3 Стасик

4 Петров

5 Коля



Выбери лишнее слово.

 1

стол

 2

ковёр

 3

кресло

 4

кровать

 5

табуретка



Продолжи предложение. У дерева всегда есть...

1 листья

2 цветы

3 плоды

4 корень

5 тень



Продолжи предложение. В году...

- 1 24 месяца
- 2 3 месяца
- 3 12 месяцев
- 4 4 месяца
- 5 7 месяцев



Продолжи предложение. Месяц зимы ...

1 сентябрь

2 октябрь

3 февраль

4 ноябрь

5 март



Продолжи предложение. Время года ...

- 1 август
- 2 осень
- 3 суббота
- 4 каникулы
- 5 утро




Продолжи предложение. Время суток ...

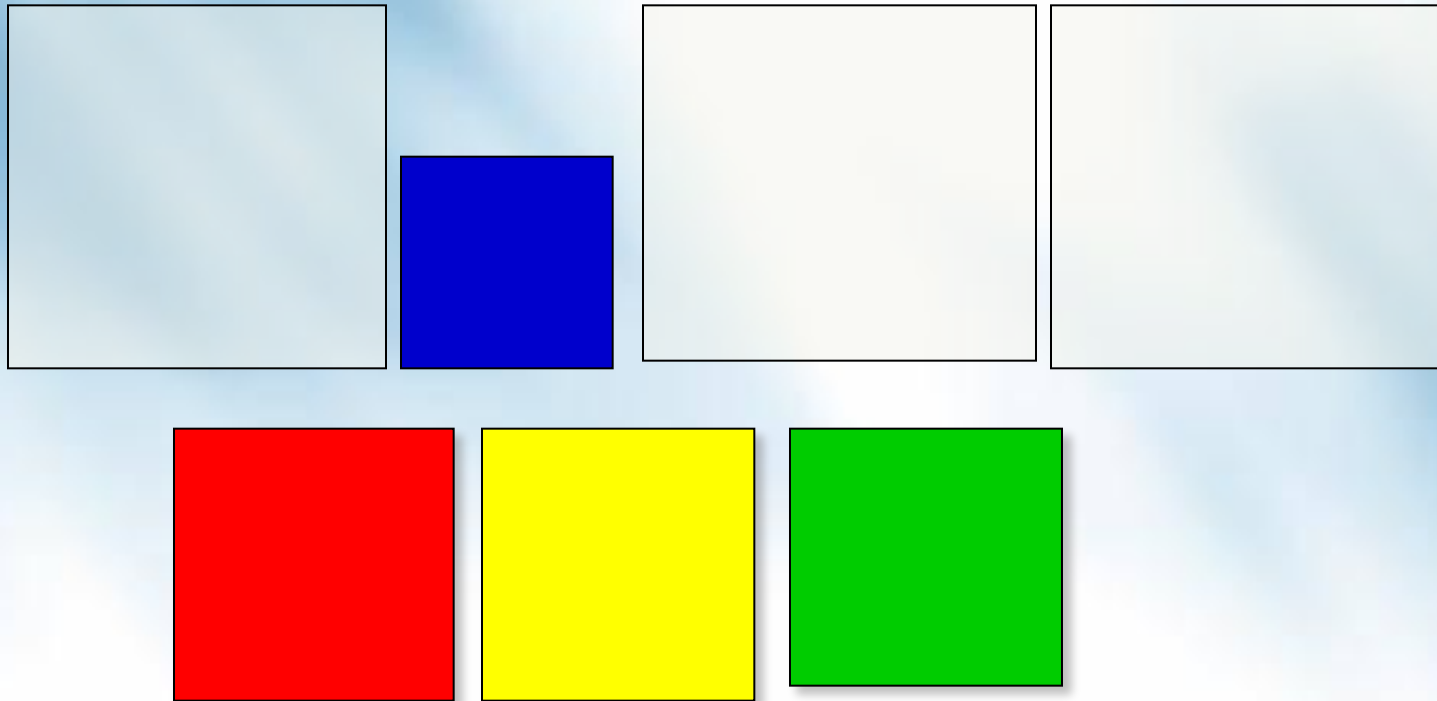
- 1 год
- 2 месяц
- 3 неделя
- 4 день
- 5 понедельник









Поставь маленькие квадраты так, чтобы большой красный квадрат был между синим и желтым, а желтый рядом с зеленым.



Поставь большие квадраты так, чтобы маленький синий квадрат был между желтым и зеленым, а красный был рядом с желтым.



Знак «+» поставьте справа от знака «-», но слева от знака «=»



Что здесь лишнее?

- 1 яблоко
- 2 арбуз
- 3 сыр
- 4 банан
- 5 вишня



Сколько здесь конфет?

- 1 5
- 2 6
- 3 7
- 4 8
- 5 9



Какой гномик не хочет быть похожим на братьев?



1

1



2

2



3

3



4

4



5

все похожи



Найди вторую половину скорлупы.

 1

1

 2

2

 3


3

 4

4

 5

нет такой



Какой ёжик не похож на остальных?



1

1



2

2



3

3



4

все одинаковые



5

нет одинаковых



1

2

3



Какая рыбка отличается от остальных?

 1

1

 2

2

 3

3

 4

4

 5

все одинаковые



1

2

3

4



Найди попугая, который отличается от других?



1

1



2

2



3

3



4

4



5

все одинаковые

1

2



3

4



Результаты тестирования

Оценка

Правильных ответов

Набранных баллов

Ошибки в выборе
ответов на задания:

Всего заданий бал.

Снова

Выход

Затрачено времени