



# **Урбанизация. Тренажёр и проверочный тест.**

**Жидовкина Галина Петровна  
учитель географии и экономики МБОУ "СОШ №3"  
г. Дальнереченск Приморского края**



**Дорогой друг!**

**Данный тренажер поможет тебе закрепить знания по теме «Урбанизация» и лучше подготовиться к экзамену по географии.**

**Желаю удачи!**

**[Перейти к тренажёру](#)**

**[Перейти к тесту](#)**

# Инструкция по работе с учебным тренажёром

1. Каждое задание имеет 4 варианта ответа. Ты должен выбрать один правильный.
2. Если ты выбрал правильный ответ, появится «плюс».
3. Если ты выбрал неверный ответ, появится «минус».
4. Переход к следующему заданию осуществляется по кнопке внизу.

**Желаем удачи!**



1. В каком из перечисленных городов численность населения наибольшая?



**Ярославль**



**Смоленск**



**Челябинск**



**Владивосток**



**2. Какой из перечисленных городов является наибольшим по численности населения?**

**Нижний Новгород** 

**Великий Новгород** 

**Архангельск** 

**Астрахань** 



**3.Административный центр какой из перечисленных областей является наибольшим по численности населения?**

**Архангельская** 

**Омская** 

**Тамбовская** 

**Магаданская** 



**4. Административный центр какой из перечисленных областей является городом-миллионером?**



**Тверская область**



**Калининградская область**



**Тюменская область**






**Свердловская область**









**5. Регион РФ с наименьшей долей городского населения:**

- Свердловская область** 
- Московская область** 
- Республика Ингушетия** 
- Ханты - Мансийский АО** 





6. Укажите пару, в которой только города-миллионеры:

- Иркутск и Хабаровск 
- Пермь и Челябинск 
- Воронеж и Санкт-Петербург 
- Екатеринбург и Чита 



**7. Укажите регион с наибольшей долей городского населения:**



**Краснодарский край**



**Мурманская область**



**Республика Дагестан**



**Воронежская область**



**8. Найдите ошибку в перечне городов-миллионеров:**



**Самара**



**Казань**



**Ульяновск**



**Екатеринбург**



9. Какой из перечисленных городов является наиболее крупным по численности населения?



**Волгоград**



**Воркута**



**Киров**



**Братск**



## 10. В каком из высказываний содержится информация об урбанизации?



**В конце XX века численность иностранных рабочих, ежегодно прибывающих в Западную Европу, заметно уменьшился.**



**Продолжительность жизни женщин в среднем на 5-8 лет больше, чем у мужчин, поэтому в старших возрастах женщины преобладают.**



**Численность населения увеличивается в тех странах и регионах, где высок естественный прирост населения.**



**В развитых странах городской образ жизни является доминирующим, причём он распространился и в сельской местности.**



## **Как ты оцениваешь свою работу на тренажёре?**

**Знания отличные! Перехожу к тесту!**

**Было много ошибок, необходимо поработать с  
правилом.**





# Инструкция по работе с тестом

1. Проверочный тест состоит из 10 заданий. Каждое задание имеет 4 варианта ответа, один из которых - правильный.
2. Прежде чем нажимать переключатель хорошо подумай, потому что, ответив, ты перейдёшь к следующему вопросу и не сможешь внести изменения в свой ответ.
3. Чтобы узнать свой результат, нажми на кнопку «Результат». Ты увидишь общее число верных ответов, отметку за тест и таблицу результатов по каждому вопросу.
4. Ты можешь просмотреть свои ошибки, нажав на соответствующую кнопку. Переход от слайда к слайду в режиме просмотра ошибок важно производить по кнопкам в нижнем правом углу слайда.
5. Если хочешь повторить тест, то обнули результат (кнопка «Сброс результатов») и нажми на кнопку «Повторить тест».





1. Укажите город с численностью менее 1 млн. чел.



**Смоленск**



**Казань**



**Уфа**



**Новосибирск**



## 2. В каком из высказываний содержится информация об урбанизации:



**В 1999 году на постоянное место жительства в Россию въехали 2,7 млн.человек, а выехали 2,5 млн.человек.**



**Численность и плотность населения увеличивается в тех странах и регионах, где высок естественный прирост населения.**



**Средняя плотность сельского населения России составляет примерно 2,2 человека на 1км<sup>2</sup>**



**На Северо-Западе России в городах проживает более 80% населения региона.**



### 3. Укажите самый южный город-миллионер.



**Нижний Новгород**



**Самара**



**Ростов – на - Дону**



**Казань**



4. Административный центр какой из перечисленных областей имеет наибольшую численность населения?



**Тульская**



**Ростовская**



**Смоленская**



**Иркутская**



**5. Крупнейший по численности населения город на реке Енисей:**



**Кызыл**



**Абакан**



**Красноярск**



**Омск**



**6. Укажите самый западный город-миллионер:**



**Нижний Новгород**



**Москва**



**Омск**



**Екатеринбург**



7. Укажите самый восточный город-миллионер:



**Челябинск**



**Самара**



**Новосибирск**



**Омск**





8. Укажите самый северный город-миллионер:



**Нижний Новгород**



**Санкт-Петербург**



**Ростов – на- Дону**



**Екатеринбург**



9.Какая пара городов являются наибольшими по численности населения?

Челябинск и Уфа 





Хабаровск и Владивосток 

Смоленск и Рязань 

Самара и Тамбов 



**10. В каком из утверждений содержится информация об урбанизации:**

- В Канаде 2/3 населения живёт в южной 150-километровой зоне, протянувшейся вдоль границы с США. 
- Численность и плотность населения увеличиваются в тех странах и регионах, где наиболее высок естественный прирост населения. 
- Предгорья Северного Кавказа - один из наиболее густозаселённых районов России. 
- В начале XX века в мире насчитывалось 360 больших городов. а к началу XXI их число достигло 4 тыс. 



# Подведём итоги

Верных ответов

Отметка

<b>1</b>	<b>2</b>	<b>3</b>	<b>4</b>	<b>5</b>	<b>6</b>	<b>7</b>	<b>8</b>	<b>9</b>	<b>10</b>
<b><u>В</u></b>	<b><u>В</u></b>	<b><u>В</u></b>	<b><u>В</u></b>	<b><u>В</u></b>	<b><u>В</u></b>	<b><u>В</u></b>	<b><u>В</u></b>	<b><u>В</u></b>	<b><u>В</u></b>

**Просмотр ошибок**