


Урок № 4 Вертикаль

к УМК «Шахматы в школе» Е.А. Прудниковой. Первый год обучения


ПОДГОТОВИЛА ПЕДАГОГ ДОПОЛНИТЕЛЬНОГО ОБРАЗОВАНИЯ МБОУ
«БАРГУЗИНСКАЯ СОШ» УХИНОВА С.Б




КАК НАЗЫВАЕТСЯ ОБОЗНАЧЕННАЯ СТРЕЛКОЙ
ЛИНИЯ?
КАК ОБОЗНАЧАЮТСЯ НА ДОСКЕ ГОРИЗОНТАЛИ?



НАЙДИ ОШИБКУ




ПОВТОРЕНИЕ ИЗУЧЕННОГО



ВЕРТИКАЛЬ - ЭТО 8 ПОЛЕЙ,
РАСПОЛОЖЕННЫХ СВЕРХУ ВНИЗ

СКОЛЬКО ВЕРТИКАЛЕЙ?

ВЕРТИКАЛИ ОБОЗНАЧАЮТСЯ
ЛАТИНСКИМИ БУКВАМИ




| | | | | | | | | |
|--------------------------|-----------|-----------|-----------|-----------|-----------|-----------|-----------|-----------|
| ПЕЧАТНЫЕ БУКВЫ | Aa | Bb | Cc | Dd | Ee | Ff | Gg | Hh |
| РУКОПИС- НЫЕ БУКВЫ | <i>Aa</i> | <i>Bb</i> | <i>Cc</i> | <i>Dd</i> | <i>Ee</i> | <i>Ff</i> | <i>Gg</i> | <i>Hh</i> |



ПОКАЖИ ОСТАЛЬНЫЕ ВЕРТИКАЛИ

Вертикаль g



РАСКРАСЬ ПРОСТЫМ КАРАНДАШОМ ДВЕ ВЕРТИКАЛИ

Возьми простой карандаш и правильно, но по-разному, раскрась две вертикали.





ИНТЕРЕСНЫЕ ФАКТЫ

- Во все времена шахматы считались атрибутом знатности, поэтому обычно располагались на самых видных местах в доме, а игровая доска и фигуры изготавливались из различных дорогостоящих материалов.





Всем СПАСИБО.
ДО СВИДАНИЯ.

