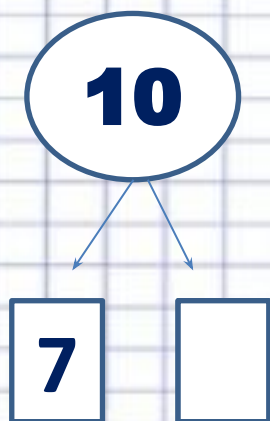
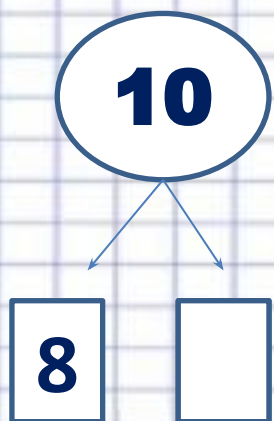




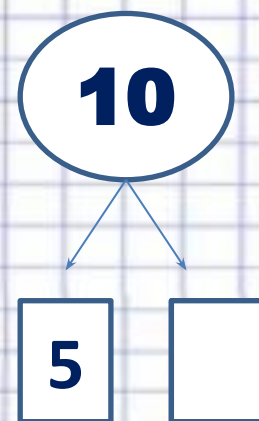

УСТНЫЙ счет.



1. СОСТАВ ЧИСЛА



10.





2. КРУГОВЫЕ ПРИМЕРЫ.



$$8-2$$

$$6+1$$

$$4+1$$

$$7-3$$

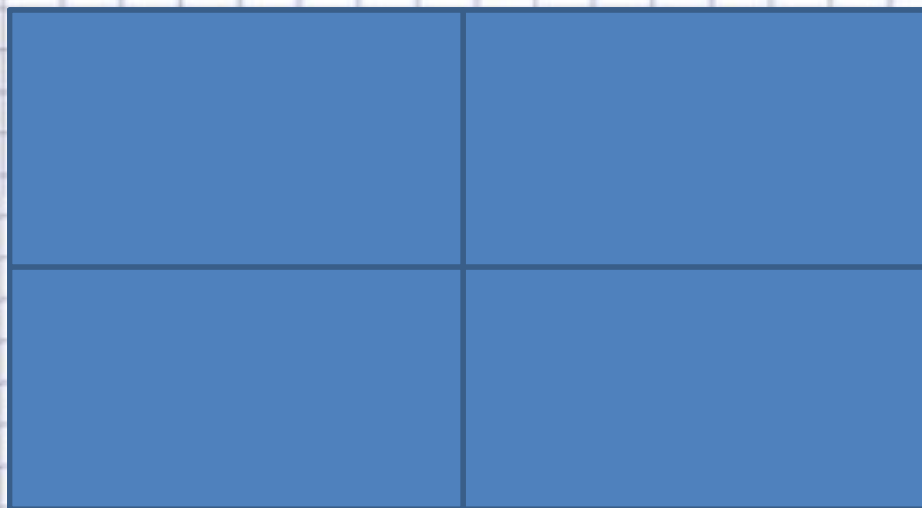
$$3+3$$

$$6+2$$

$$5-2$$



**3. СОСЧИТАЙ СКОЛЬКО
ПРЯМОУГОЛЬНИКОВ.**



9



4. ВСТАВЬ ПРОПУЩЕННЫЕ ЧИСЛА И ЗНАКИ (РАБОТА С ВЕРАМИ)

$$4 \bigcirc 1 = 5$$

$$10 - \square = 1$$

$$9 \bigcirc 1 = 8$$

$$6 \bigcirc \square = 8$$

$$7 - \square = 6$$

$$8 \bigcirc \square = 5$$