


# Математическая викторина «В гостях у мудрой совы»

Источник  
и





# ***Меню викторины***

- конкурс «Разминка»
- конкурс «Острый глаз»
- конкурс «Логический»
- конкурс «Отгадай ребус»
- конкурс «Математические бусы»
- конкурс «Сказочный»




# Разминка

● Около столовой, где стояли лыжники, пришедшие из похода, лежало 20 лыж, а в снег было воткнуто 26 палочек. Сколько лыжников ходило в поход?



10 лыжников

● Десять ребят привели в школу собачку, утку, кошку и мышку. Сколько глаз у животных, наконец, вытянули на репку?



12 глаз

● Бабушка вязала своим внукам варежки и варфры. Всего она связала своим внукам 6 варежек. Сколько внуков у бабушки?



3 внука

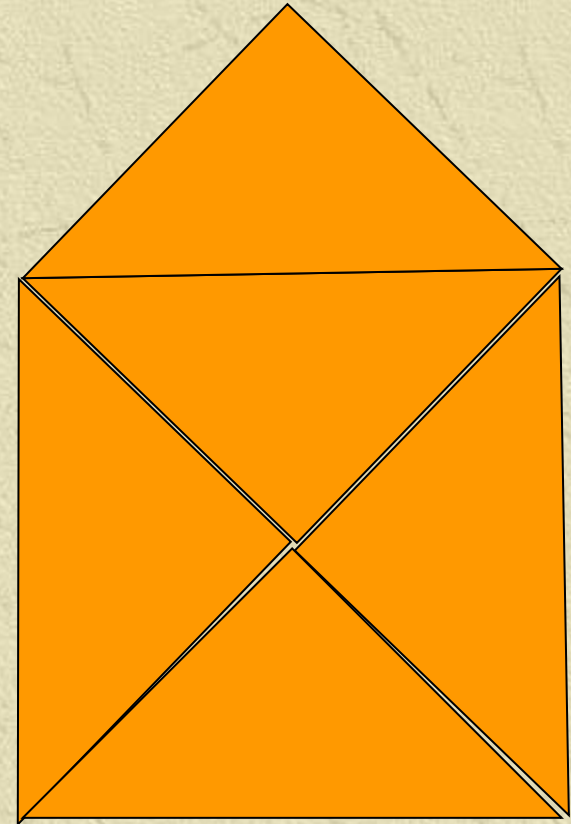


# Острый глаз




Сколько  
треугольников  
нарисовано?

9 треугольников





# Логический




Кто старше?

Три брата - Ваня, Саша, Коля - учились в разных классах. Ваня был не старше Коли, а Саша – не старше Вани. Назовите имена старшего, среднего и младшего братьев.

Коля

Ваня

Саша






# Отгадай ребус



ЧИ



,

Число

О



~~Ж~~

Один

Д

„



Два



# Математические бусы



Из разных цифр я сделал бусы,  
А в тех кружках, где чисел нет,  
Расставьте минусы и плюсы,  
Чтоб данный получить ответ.

$$44 \circ 15 \circ 13 \circ 7 = 23$$

$$86 \circ 45 \circ 34 \circ 3 = 78$$



# Сказочный

• Сколько к  
у многодетн



Семеро

• у



было

Сорок

• С  
стар  
Пуш  
рыб



л старик со  
в сказке Д.О.  
о рыбаке  
Тридцать  
три