

**Викторина по**

**ПДД**



	a	b	c	d	e
1	<u>x</u>	<u>x</u>	<u>x</u>	<u>x</u>	<u>x</u>
2	<u>x</u>	<u>x</u>	<u>x</u>	<u>x</u>	<u>x</u>
3	<u>x</u>	<u>x</u>	<u>x</u>	<u>x</u>	<u>x</u>
4	<u>x</u>	<u>x</u>	<u>x</u>	<u>x</u>	<u>x</u>
5	<u>x</u>	<u>x</u>	<u>x</u>	<u>x</u>	<u>x</u>



# Что означает этот знак?



1. Такого дорожного знака не существует
2. Указывает место, где запрещено движение пешеходов
3. Предупреждает водителей о приближении к пешеходному переходу



С какой стороны наибольшая вероятность появления пересекающего дорогу автомобиля, если перед перекрестком установлен такой знак?



1. Справа
2. Слева
3. С любой стороны



Какое значение для водителя велосипеда или мопеда имеет этот знак с табличкой?



1. Запрещено движение днем
2. Запрещено движение с зажженной фарой
3. Запрещено движение по субботним, воскресным и праздничным дням



Какое значение для водителя велосипеда или мопеда имеет этот знак с табличкой?



1. Въезд запрещен
2. Запрещено движение налево и направо
3. Движение запрещено



Какой из этих знаков обозначает место, где можно переходить дорогу?



1. Знак № 1
2. Знак № 2
3. Оба знака




Имеет ли право водитель  
велосипеда проехать под этот  
знак?



1. Не имеет права
2. Имеет право



Под какой из знаков водитель мопеда не имеет права проезжать?



1. Знак «А»
2. Знак «Б»
3. Оба знака



Какой из этих знаков предупреждает о приближении к железнодорожному переезду без шлагбаума?



1. Знак № 1

2. Знак № 2



Имеет ли право водитель мопеда проезжать на этот знак?



1. Не имеет права
2. Имеет право



# Что означает этот знак?

1. Пешеходный переход
2. «Движение пешеходов запрещено»
3. «Пешеходная дорожка»





Разрешено ли водителю мопеда  
выезжать на дорогу,  
обозначенную этим знаком?

1. Не разрешено
2. Разрешено





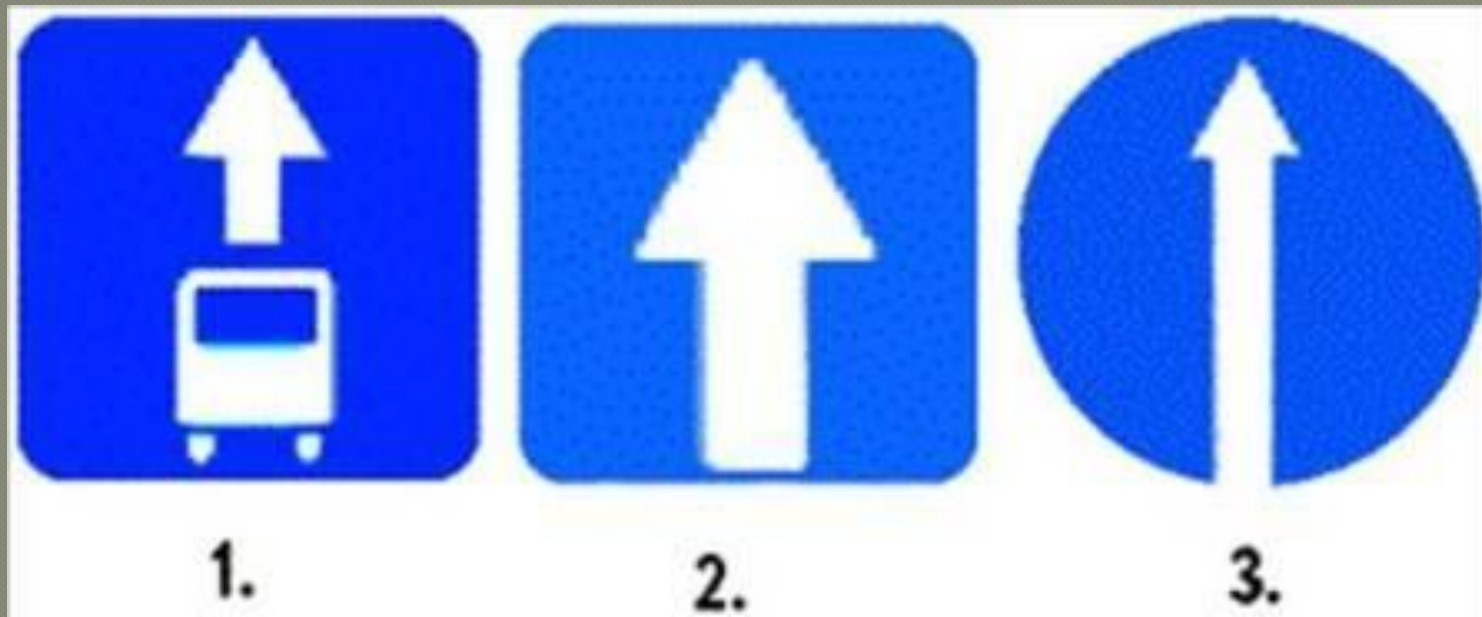
Какими буквами обозначены знаки, запрещающие движение на велосипедах?



1. Знак «А»
2. Знаки «А» и «В»
3. Знаки «Б» и «В»
4. Знаки «А», «Б» и «В»



Какой знак обозначает дорогу с односторонним движением?



1. На всех рисунках

2. На рис. 2

3. На рис. 1 и 2

4. Только на рис. 3



Какой знак называется «Пешеходная дорожка»?



1. Знак № 1

2. Знак № 2

3. Знак № 3

4. Знак № 4



# Этот дорожный знак обозначает:



1. Полосу для движения маршрутных транспортных средств
2. Место остановки автобуса и (или) троллейбуса
3. Дорогу, предназначенную только для движения автобусов



# ЭТОТ ЗНАК:



1. Разрешает объезд препятствия слева
2. Обозначает выезд на дорогу с односторонним движением
3. Разрешает движение только налево



Какой знак относится к группе запрещающих?



1. Знаки «А» и «Б»
2. Знак «Б»
3. Все




# Этот дорожный знак информирует:



1. Об участке дороги, на котором возможен выброс гравия, щебня и т.п. из-под колес транспортных средств
2. Об участке дороги, где возможно разбрызгивание грязи



Какие знаки предупреждают о приближении к опасному повороту дороги?



1. Знаки 2 и 5
2. Знаки 2 и 3
3. Знаки 2, 3 и 5
4. Знаки 1 и 4
5. Знак 2



# Данный знак обозначает:



1. Движение велосипедисту направо запрещено
2. Движение велосипедисту запрещено, кроме поворота направо
3. Движение на велосипедах запрещено



Какой знак применяется для обозначения жилой зоны?



1. Только 3

3. Только 2

2. Только 1

4. Только 2 и 3



# Как поступить велосипедисту, если перед перекрестком установлен этот знак?



1. Если нет машин, проехать перекресток без остановки
2. При проезде перекрестка быть особенно внимательным
3. Остановиться у стоп-линии, а если ее нет - перед краем пересекаемой проезжей части, и уступить дорогу транспортным средствам, движущимся по пересекаемой дороге



Может ли здесь водитель  
поставить мотоцикл на стоянку?



1. Да
2. Нет



**Ура!**

**Вы –**

**счастливики!!!**