


# Занятие №22

# Считай, смекай, отгадывай -3

Автор презентации  
Коровина Ирина Николаевна  
учитель начальных классов  
МБОУ «СОШ №9»  
г.Сафоново Смоленской области

**ВЫХО**



Д

# ЗАДАНИЕ Магический квадрат

№1

Вставь в клеточки числа 4, 6, 7, 9, 10, 11, 12 так, чтобы в каждой строке, в каждом столбце и по диагоналям сумма чисел была равна 24.

11	4	9
6	8	10
7	12	5

КЛЮ

24

11	6	7
4	8	12
9	10	5

ВЫХО

Д



# ЗАДАНИЕ

№2

Запиши число 88,  
используя цифру 4 четыре раза.

ОТВЕ

Т:

$$44 + 44 = 88$$

ВЫХО

Д



# ЗАДАНИЕ

Чтобы посадить 8 детей, в комнате не хватает двух стульев. Сколько стульев в комнате?

Отметь правильный ответ.

4

6

10

$$8 - 2 = 6 \text{ (ст.)}$$



# ЗАДАНИЕ

ВЫХО

Д

№1  
Периметр прямоугольника равен 40 см.

Его длину увеличили на 2 см,  
а ширину уменьшили на 1 см.

Чему стал равен периметр  
прямоугольника.

РЕШЕН  
ИЕ

$40 + 2 \cdot 2 - 1 \cdot 2 = 42$  (см) – периметр нового  
прямоугольника.

ОТВЕ

Т:

периметр прямоугольника стал 42 см.





# ЗАДАНИЕ

ВЫХО


Д

№5  
Масса одного петуха и одной курицы равна 5 кг, а масса трёх петухов и двух куриц – 13 кг. Найди массу петуха и массу курицы.

## РЕШЕН

ИЕ

- 1)  $5 \cdot 2 = 10$  (кг) – масса двух петухов и двух куриц.
- 2)  $13 - 10 = 3$  (кг) – масса одного петуха
- 3)  $5 - 3 = 2$  (кг) – масса одной курицы



## ОТВЕ

Т:

масса петуха – 3 кг, масса курицы – 2 кг.



# ЗАДАНИЕ

ВЫХО


№26  
В трёх банках находится варенье. На первой банке написано «Яблоки», на второй – «Вишня», а на третьей – «Яблоки или груши». Что где находится, если все записи на банках неверные?



«Яблоки»  
»

«Вишня»  
»

«Груши»  
»



# ЗАДАНИЕ

ВЫХО

№7

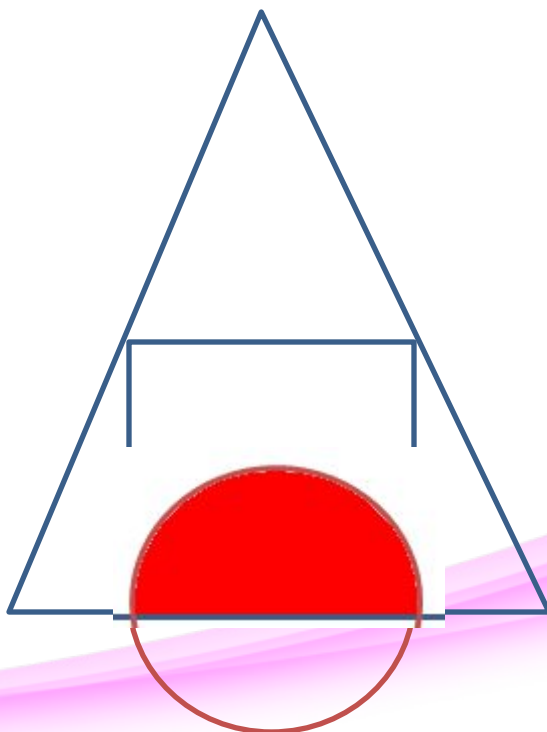
Нарисуй (или построй с помощью циркуля) на рисунке окружность так, чтобы общей областью квадрата и треугольника была половина круга. Закрась эту область.

Д

РЕШЕНИЕ

ОТВЕ

Т:





## Использованные ресурсы:

Фон для рамки [http://www.scenicreflections.com/files/PINK\\_FLOWER\\_PATTERNS\\_Wallpaper\\_ojaq9.jpg](http://www.scenicreflections.com/files/PINK_FLOWER_PATTERNS_Wallpaper_ojaq9.jpg)

Линия <http://s4.pic4you.ru/y2014/06-20/24687/4456516-thumb.png>

Стулья <http://www.pcarlo.ru/gallery>

Курица и петух <http://birdsfarm.ru/page/35>

Банка <http://forum.myjane.ru/viewtopic.php?t=2214&start=15&postdays=0&postorder=asc&highlight>

Автор шаблона Фокина Лидия Петровна **Сайт** <http://linda6035.ucoz.ru/>

Межуева Ю.В. Математика 2 класс. Подготовка к конкурсам и олимпиадам. – Саратов: Лицей, 2014г. /Работа 3/