

ПРЕЗЕНТАЦИЯ ПО МАТЕМАТИКЕ



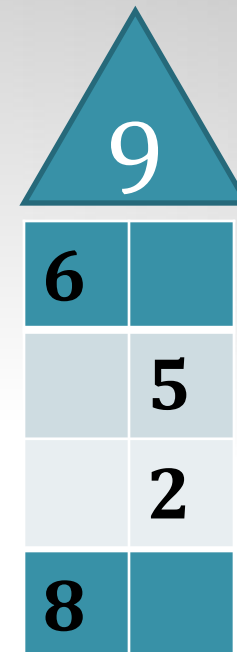

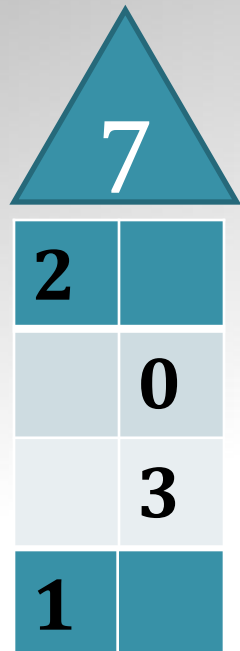
1 КЛАСС

Фиалковская Н.В.
учитель начальных
классов
МОУ «ООШ №81»
г.Саратова

РЕШЕНИЕ ТЕКСТОВЫХ ЗАДАЧ

УСНЫЙ СЧЁТ

«ЗАСЕЛЯЕМ ДОМИКИ»



ИГРА «ПРОДОЛЖАЙ – НЕ ЗЕВАЙ»

1, 4, ..., ...;

10, ..., ..., ...;

9, ..., ..., ... ;

0, ..., ...,

ПРОВЕРЬТЕ

1, 4, 7, 10;

10, 7, 4, 1;

9, 6, 3, 0 ;

0, 3, 6, 9 .

ИГРА «НАЗОВИ СОСЕДЕЙ»



ИГРА «УГАДАЙ ЧИСЛО»

$4 + ? = 7$

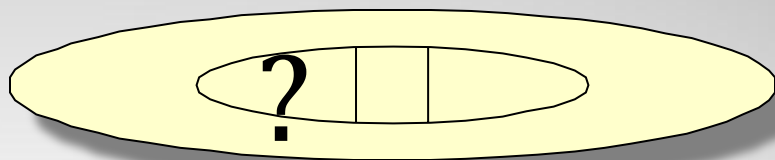

$9 - ? = 7$

$5 + ? = 8$


$? - 3 = 6$

$10 - ? = 8$

СОСТАВЬ ЗАДАЧУ ПО РИСУНКУ




РАБОТА НАД НОВОЙ ТЕМОЙ



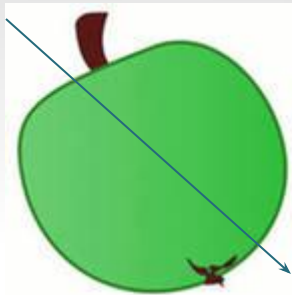
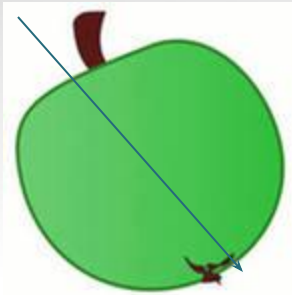




?

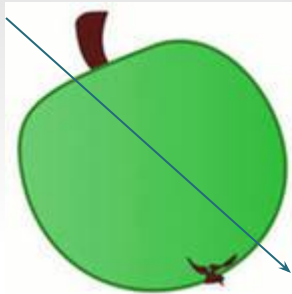
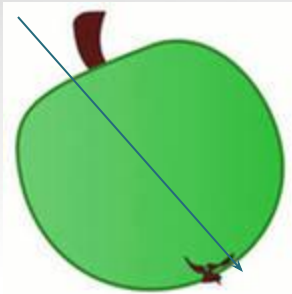




РАБОТА НАД НОВОЙ ТЕМОЙ



?

$$6 + 2 + 1 = 9$$





$$6 - 1 - 1 = 4$$

РЕШИТЕ ЗАДАЧУ

СВЯЗАЛА



ОТДАЛА -



ОСТАЛОСЬ -?

РЕШИТЕ ЗАДАЧУ

С яблоками -



С капустой -?, столько же

Сколько всего -?

САМОСТОЯТЕЛЬНАЯ РАБОТА

РЕШИТЕ ЗАДАЧУ

СНАЧАЛА



ПОТОМ - ЕЩЁ



СКОЛЬКО СТАЛО - ?

РЕШИТЕ ПРИМЕРЫ

$8 + 2$

$6 + 3$

$7 + 1$

$9 - 1$

$7 - 2$

$9 - 3$