

Площадь фигуры

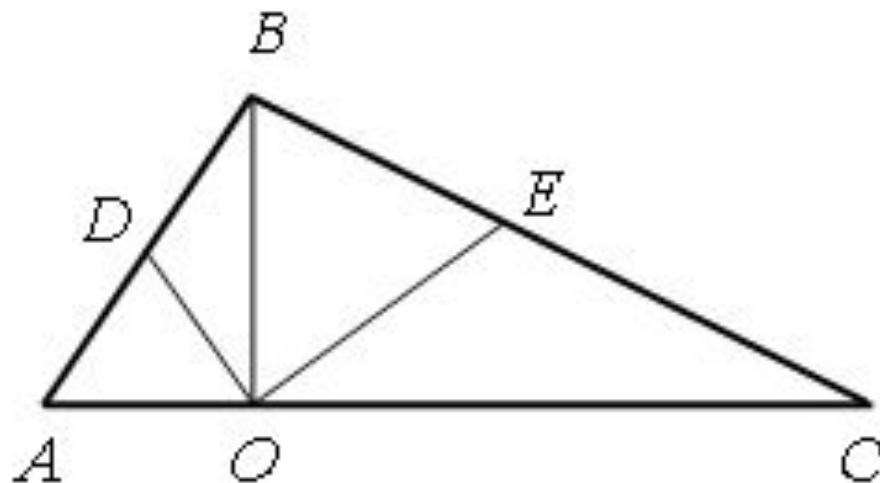


2 класс



Устный счет

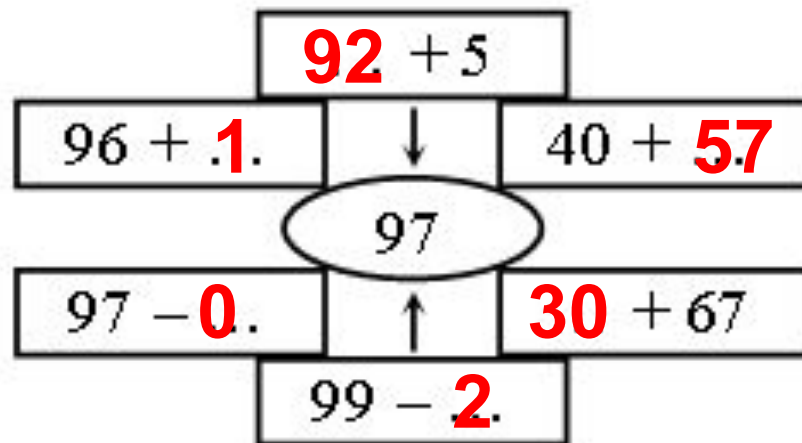
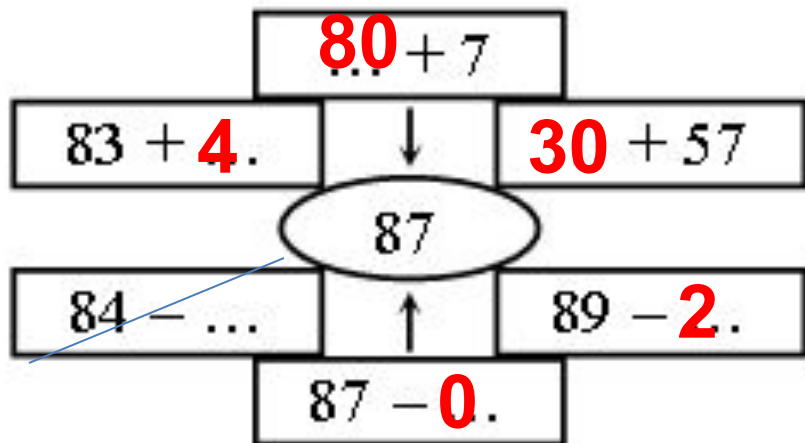
- Сколько треугольников вы видите на картинке?



ADO
ABO
ABC
BCO
BEO
BDO
ECO



Вставьте пропущенные числа



Задачи.

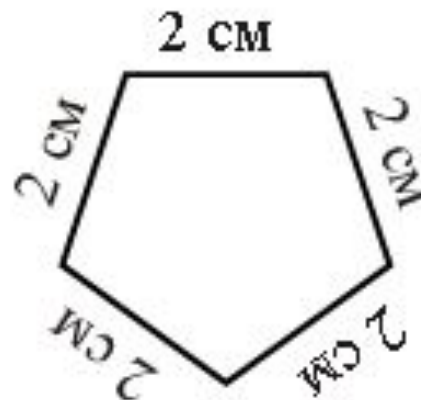
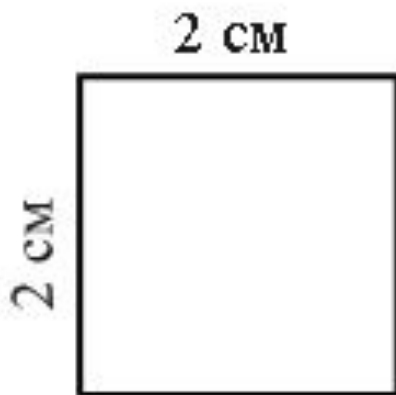
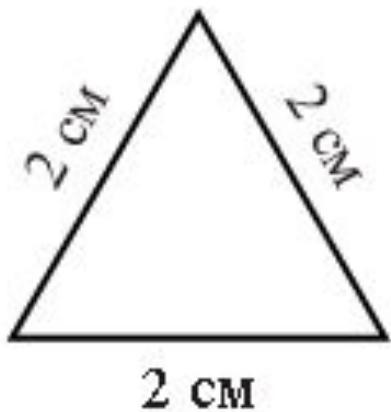
а) В столовом сервизе 12 глубоких и столько же мелких тарелок. Сколько тарелок в этом сервизе?

б) Уже прошло 30 минут урока. Через 5 минут прозвонит звонок. Сколько минут продолжается урок в нашей школе?



Сообщение темы урока.

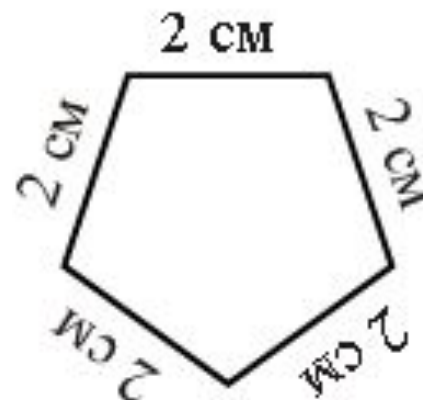
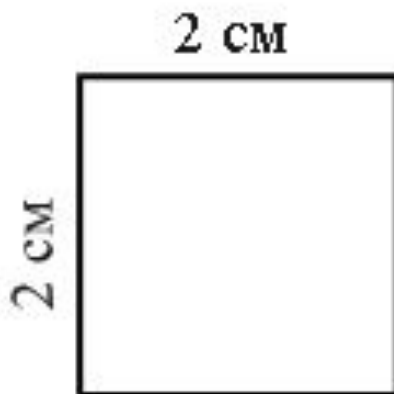
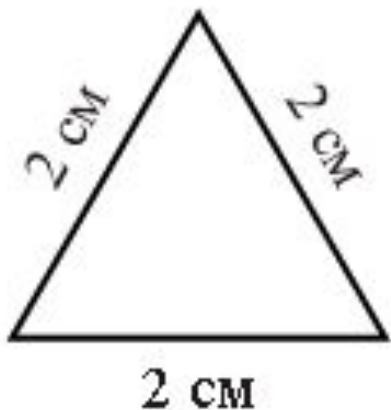
– Как называются данные на доске фигуры?



Что их объединяет?

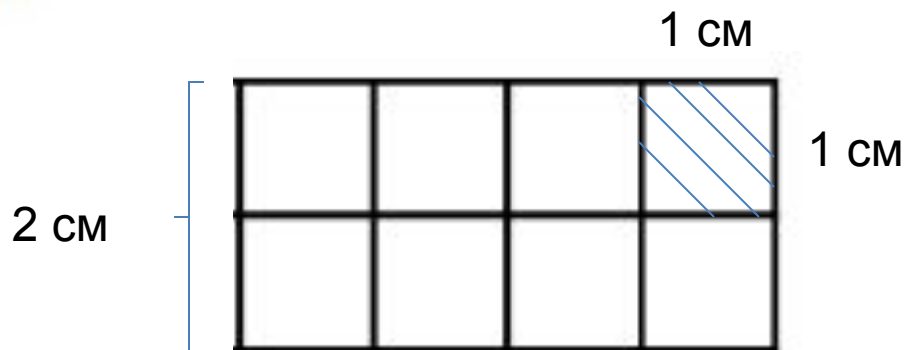
– Как найти периметр каждого многоугольника? (используй умножение)





- Как найти **площадь** этих фигур?
- Какие трудности у вас возникли?
- Сегодня на уроке мы узнаем, что называют **площадью** фигуры.





Квадратный сантиметр – 1 см^2

$$S = a \times b$$

$$S = 2 \times 4$$

$$S = 8 \text{ см}^2$$



Задание 1 на стр. 27





Задание 3 на стр. 28

Задание 6 на стр. 29

Гостиная – 26 кв.м

Спальная комната – 14 кв.м

Детская комната – 18 кв.м

Кухня – 12 кв.м

