

# БЕЗОПАСНОЕ КОЛЕСО



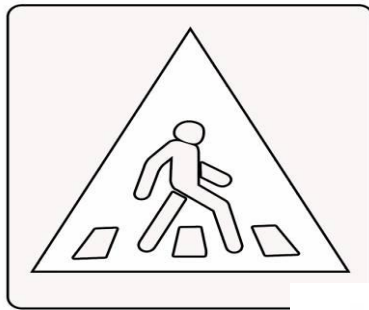
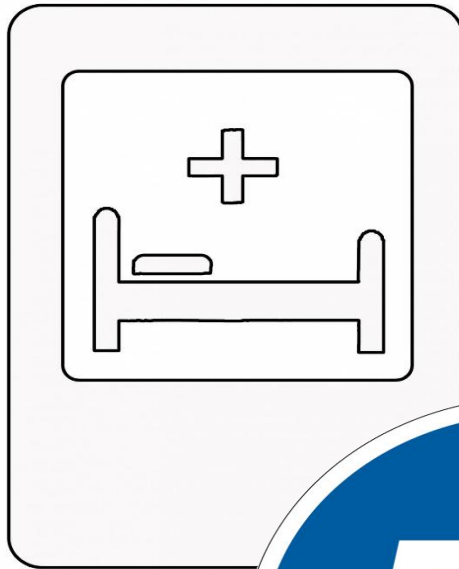
# ЗАДАНИЕ №1 РАЗМИНКА

Загадки. (Транспорт, дорожные знаки)




# ЗАДАНИЕ №1

Раскрась знаки.




Dorsystem.ru






# ЗАДАНИЕ №3


## БЛИЦОПРОС




Под какой цифрой правильно расположены  
сигналы светофора?



**1**



**2**



**3**

Какой цифрой обозначен знак  
“Пешеходный переход”?



**1**

**2**

**3**



Какой из этих знаков запрещает движение на велосипеде?



**1**



**2**



**3**

**10**

**лет**

**1**

**12**

**лет**

**2**

**14**

**лет**

**3**

***Со скольких лет можно ехать на велосипеде по проезжей части?***





**1**

**На каком рисунке дети  
нарушают правила поведения  
на дороге и почему?**

**2**



*Кто идет правильно: бабушка или внук?*

**1**

**бабушка**

**2**

**внук**





**налево, направо**

**направо, налево**

**1**

*Переходя дорогу, куда нужно  
посмотреть сначала, куда потом*

**2**

?







Загорелся зеленый сигнал для пешеходов.  
Можно ли сразу начинать переходить проезжую  
часть?



# Чем опасен выход на дорогу из-за стоящего автомобиля?





Как перейти дорогу выйдя из автобуса?



# Кто и что регулирует движение пешеходов и водителей?



Какой сигнал регулировщика соответствует зелёному сигналу светофора для всех участников движения?

Сигналы регулировщика



1



2



3



4



Какой сигнал регулировщика соответствует  
красному сигналу светофора для всех  
участников движения?

Сигналы регулировщика



1



2



3



4

# ЗАДАНИЕ №4

СОБЕРИ ЗНАК (Нужно собрать и правильно назвать знак дорожного движения)



# Задание №5

МЕДИЦИНСКАЯ ПОМОЩЬ.





# ЗАДАНИЕ №6 НЕСУЩЕСТВУЮЩИЙ ЗНАК. (10 баллов)

Нарисовать знак и сделать его презентацию по следующим

1. Как называется

2. Почему нужен такой знак

3. Где его можно установить.



ПОДВЕДЕНИЕ ИТОГОВ.

МОЛОДЦЫ!  
БЕЗОПАСНОЙ

