



# Мы и наше здоровье

Окружающий мир. 3 класс

Тест 4

## Вопрос № 1


# Что изучает анатомия человека?

- **А** Работу органов организма человека
- **В** Строение тела человека
- **С** Строение тела животных

## Вопрос № 2

Какой орган чувств  
отсутствует у человека?

- А Обоняние
- В Осязание
- С Эхолокация
- D Зрение



### Вопрос № 3

Как называется самый большой орган организма человека?


- Ⓐ Сердце
- Ⓑ Лёгкие
- Ⓒ Желудок
- Ⓓ Кожа




## Вопрос № 4

На какой фотографии девочка сидит правильно?


А



В



С



## Вопрос № 5

Какая последовательность правильно отражает строение пищеварительной системы?

- А ротовая полость – желудок – толстая кишка
- В ротовая полость – глотка – пищевод – желудок – тонкая кишка – толстая кишка
- С глотка – пищевод – тонкая кишка – толстая кишка

## Вопрос № 6

Какой орган нашего тела иногда называют «вечным двигателем»?

- (A) Желудок
- (B) Печень
- (C) Сердце
- (D) Позвоночник

## Вопрос № 7

Какой орган НЕ относится к органам дыхания?

- А Носовая полость
- В Трахея
- С Лёгкие
- D Сердце



## Вопрос № 8

# Какие болезни называются инфекционными?

- **А** Болезни, которые возникают при отравлении некачественными продуктами питания.
- **В** Особая чувствительность к некоторым веществам.
- **С** Болезни сердца.
- **Д** Болезни, которые возникают при заражении человека болезнетворными бактериями или вирусами

## Вопрос № 9

Каким видом отдыха нельзя  
чересчур увлекаться?

- A Чтение книг
- B Компьютерные игры
- C Плавание
- D Теннис

## Вопрос № 10

Ниже перечислены условия здорового питания. Какое условие к ним не относится?

- Ⓐ Однообразное
- Ⓑ Богатое овощами и фруктами
- Ⓒ Регулярное
- Ⓓ Без спешки

## Литература:

Плешаков А. А. Окружающий мир. 3 класс: Учеб. для общеобразоват. учреждений. В 2 ч. Ч. 1 / А. А. Плешаков. – 9-е изд. – М.: Просвещение, 2010

## Иллюстрации:

[http://www.stroiniashka.ru/statii/eshe\\_str/poh/40/vesna16.jpg](http://www.stroiniashka.ru/statii/eshe_str/poh/40/vesna16.jpg) - фоновый рисунок

