

**Зачетная работа по технологии в 5
классе по теме:
«Детали швейной машины»:**



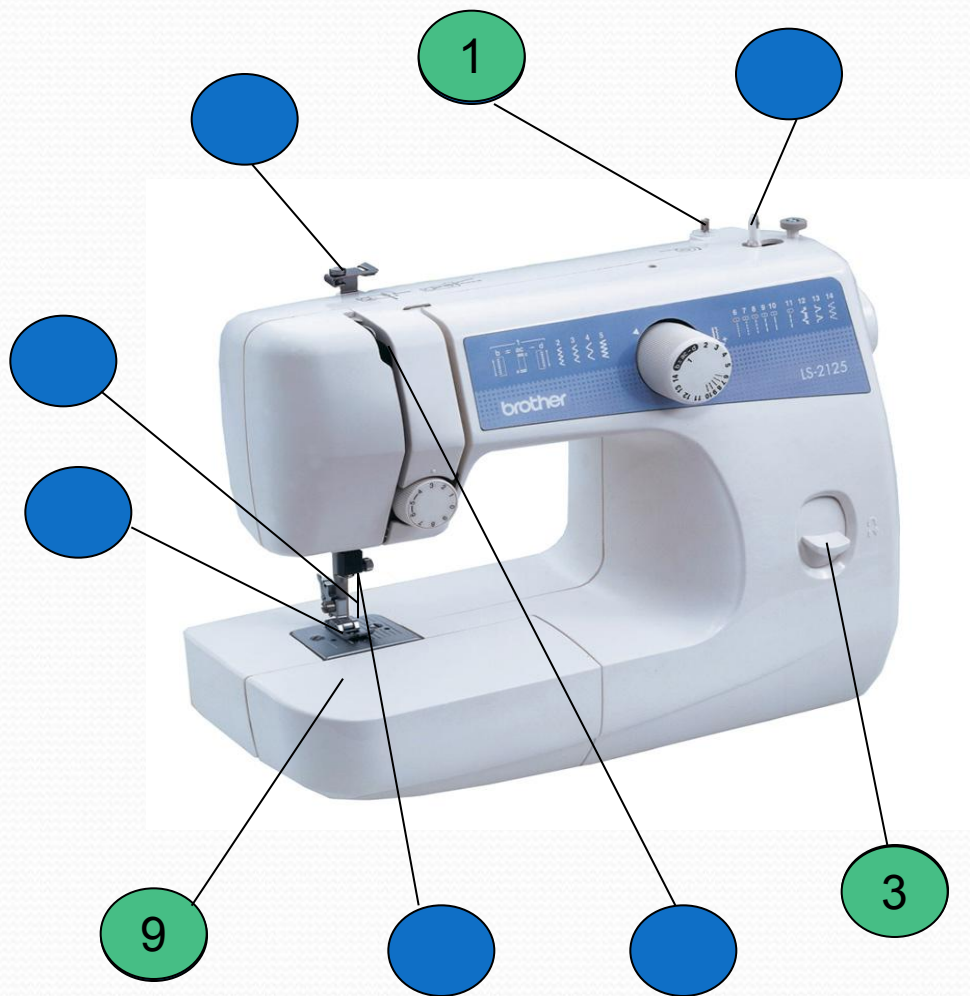
**Заместитель директора по УВР МБОУ СОШ № 23,
Учитель технологии, ВКК**

Гринько Ольга Евгеньевна

OGrink2008@yandex.ru



Соотнеси название деталей швейной машины с их изображением



- 1 стержень для катушки
- 2 моталка
- 3 рычаг обратного хода
- 4 нитенаправитель
- 5 игла
- 6 прижимная лапка
- 7 иглодержатель
- 8 нитепритягиватель
- 9 съёмная часть платформы



Соотнеси название деталей швейной машины с их изображением



- 1 регулятор строчки
- 2 маховое колесо
- 3 стойка рукава
- 4 рукав
- 5 регулятор натяжения верхней нити
- 6 нитеобрезатель
- 7 выдвижная пластина
- 8 платформа



Соотнеси название деталей швейной машины с их изображением



1

машинная игла

2

прижимная лапка

3

зубчатая рейка
двигателя ткани

4

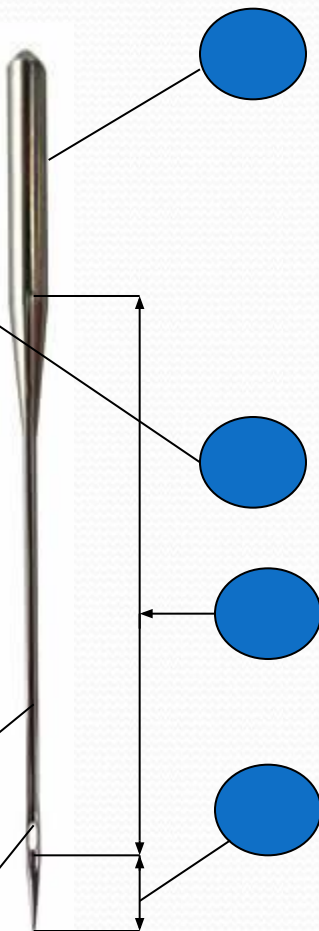
верхняя нить

5

НИЖНЯЯ НИТЬ



Соотнеси название частей швейной иглы с их изображением



1

стержень

2

колба

3

остриё

4

ушко


5

номер иглы

6

длинный желобок

Соотнеси название деталей швейной машины с их изображением



1 вертикальное челочное устройство

2 горизонтальное челочное устройство

3 челнок

4 шпулька

5 съёмная челочная пластина

