

Начинается урок






*

МБОУ СОШ №5 с. Большой Бейсуг Брюховецкий район. Учитель технологии Гуляева В.В.

Найди из перечисленных одежд рабочую одежду:

Платье
Костюм
Фартук
Рубашка



*

Тема урока

Определение размера швейных изделий




*

Неправильно!

Подумай еще!



*



*

Условное обозначение мерок

Ст

Сб

Ди



ОТ76

Напишите названия основных конструктивных линий фигуры человека.

1



2



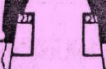

3



4



5



Проставьте обозначения мерок.

1

2

3

4



*

- Полуобхват талии

Ст

- Полуобхват бедер

Сб

- Длина изделия

Ди





*



МБОУ СОШ №5 Гуляева В.В..



Что нового вы сегодня открыли для себя?
Пригодятся ли вам полученные знания?
Оцените свою работу.

