

# Проверочная работа 8 класс, III-четверть

## Тема: «Удобрения»

1. Вставь пропущенные буквы. Ответь на вопрос что такое удобрение?

Удобрения – это различные в . . . . . а , которые обог . . . . . т почву элементами п . . . . . я и повышают ее п . . . . . е

2. Какие бывают виды удобрений ? Заполни схему.

Виды удобрений

\_\_\_\_\_

\_\_\_\_\_

3. Из чего образуются органические удобрения?



- А. \_\_\_\_\_
- Б. \_\_\_\_\_
- В. \_\_\_\_\_
- Г. \_\_\_\_\_
- Д. \_\_\_\_\_

4. Какой бывает навоз? Перечисли.

- \* .....
- \* .....
- \* .....
- \* .....

5. На какие температурные группы можно разделить навоз? Допиши слово.

Перечисли какой навоз к какой группе относится.



- 1. \_\_\_\_\_
- 2. \_\_\_\_\_

- 1. \_\_\_\_\_
- 2. \_\_\_\_\_

6. Каким бывает навоз по степени готовности для использования.

Перечисли, учитывая последовательность его видоизменений.

- 1. \_\_\_\_\_
- 2. \_\_\_\_\_
- 3. \_\_\_\_\_
- 4. \_\_\_\_\_

# Проверочная работа 8 класс, III-четверть

## Тема: «Овощные культуры»

1. Что является биологическими особенностями растения?

Вставь пропущенные буквы.

Биологическими особенностями является отношение растения к

В. . . . . , С. . . . . , Т . . . . .

2. Что является морфологическими особенностями растения?

Вставь пропущенные буквы.

Морфологическими особенностями является наука о

ф.....е и с.....ии. растения.

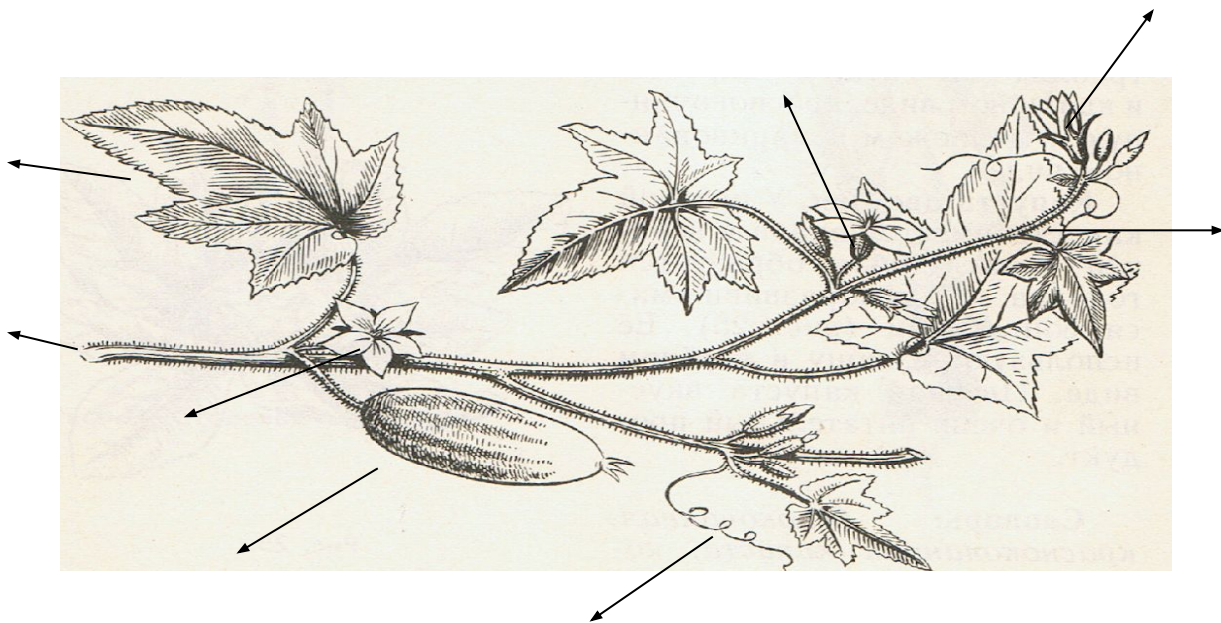
3. Выбирая из первого столбца подходящее определение для каждой культуры, заполни таблицу.

растение	капуста	томат	огурец
Культурное, декоративное, сорное			
Растет в огороде, в саду, в поле,			
Куст, дерево, кустарник, полукустарник, трава			
Однолетнее, двухлетнее, многолетнее.			
Какая часть растения съедобная: стебель, корень, ягода, зеленец, листья, кочан,			
Теплолюбивое, морозоустойчивое			
Светоллюбивое, теневыносливое			
Влаголюбивое, переносимое засушливые почвы			
Какой цвет у зрелого плода?			

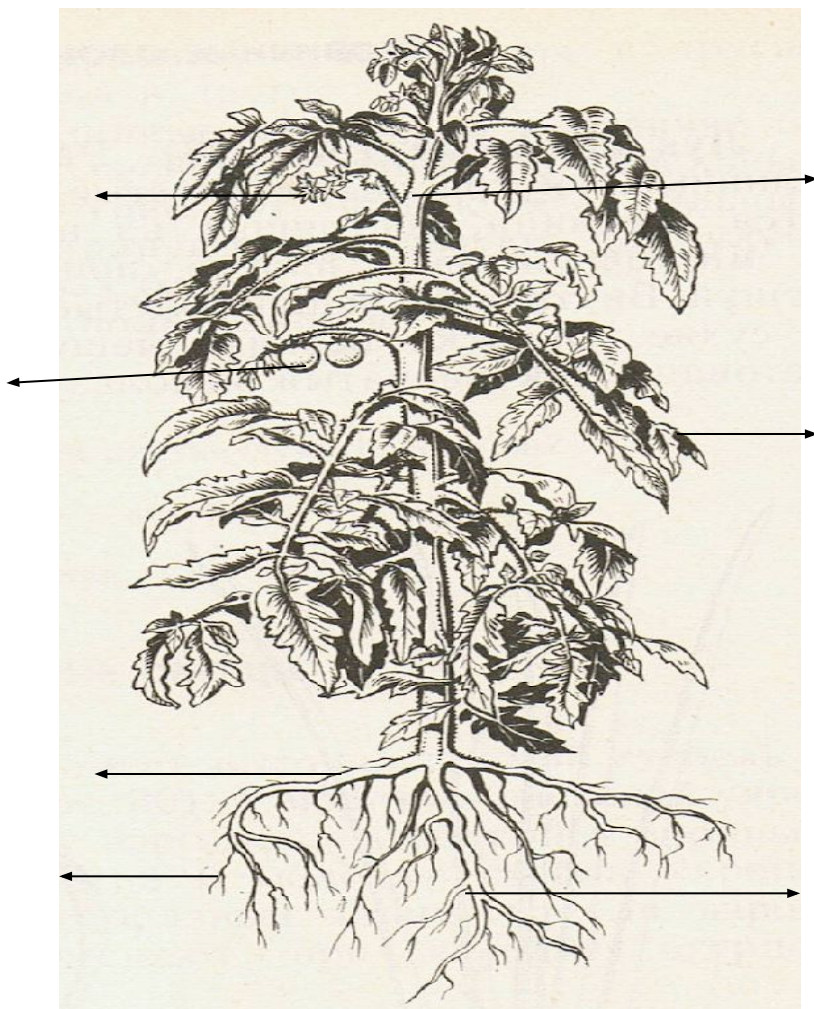
## Морфологические особенности

### ОВОЩНЫХ КУЛЬТУР.

4. Подпиши названия всех органов растения - огурца. Разукрась.



5. Подпиши названия всех органов растения - томата. Разукрась.



6. определи морфологические особенности овощных культур. Заполни таблицу.

	огурец	томат
<u>Корневая система:</u> мочковатая, <u>или</u> стержневая?		
<u>Стебель:</u> стелющийся по земле <u>или</u> высокий и ветвистый?		
<u>Листья:</u> крупные одиночные <u>или</u> сложные состоящие из отдельных листочков		
<u>Цвет цветков:</u> желтые, розовые, белые, красные?		
<u>Что является плодом этих растений:</u> ягода зеленец, корнеплод,		
<u>Эти растения:</u> однолетние <u>или</u> многолетние?		

7. Между какими органами растения образуется пазуха?

Пазуха у растений образуется между с.....м и л.....м

8. Что образуется в пазухах растения – огурца?

В пазухах растения огурца образуется:

- А) \_\_\_\_\_
- Б) \_\_\_\_\_
- В) \_\_\_\_\_

9. Какие способы опыления растений ты знаешь?

Способы  
опыления

Н.....и

В.....ю

**Проверочная работа**  
**8 класс, III-четверть**  
**Тема: «Болезни и вредители овощных культур»**

1. В результате чего у растения возникают болезни?

В результате

---

---

---

2. Какие меры человек предпринимает по борьбе с вредителями?

\*

\*

\*

---

---

---

3. Какие вредители считаются наиболее распространенными для этих овощных культур? Заполни таблицу.

<i>томат</i>	<i>огурец</i>	<i>капуста</i>	<i>Перец болгарский</i>	<i>Лук, чеснок</i>

4. Какие меры безопасности необходимо соблюдать при работе с ядохимикатами?

При работе с ядохимикатами необходимо

---

---

---

Если раствор ядохимикатов попал на кожу рук, то необходимо

---

Проверочная работа 7 класс, III-четверть,

Тема: «Растения поля и луга»

1. Какие растения растут на лугу? Вставь пропущенные буквы.

Д.....Е Т.....Ы

2. Нужны ли человеку растения луга? Почему?

---

---

3. На какие группы делятся растения поля?

Какие растения относятся к каждой группе, допиши ниже?

Группы  
полевых  
культур

1.....

2.....

3.....

4.....

1.....

2.....

3.....

4.....

1.....

2.....

3.....

4.....

1.....

2.....

3.....

4.....

4. Какие культуры называются зерновыми? Вставь пропущенные буквы.

Зерновыми культурами называют с..... растения, при выращивании которых получают з.....

5. Какие культуры называют кормовыми? Вставь пропущенные буквы.

Кормовыми культурами называют растения, которые используют на к..... ж.....

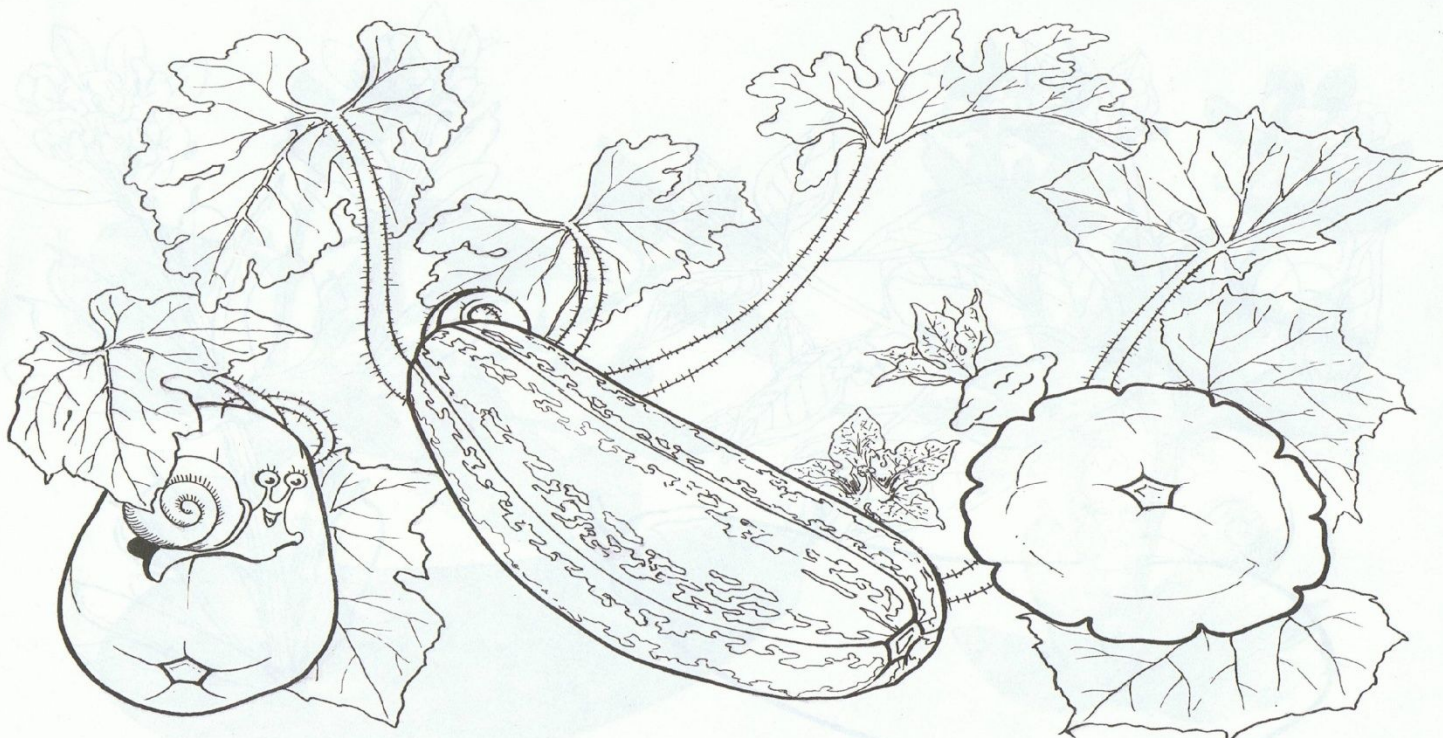
6. Для чего человек выращивает технические культуры? Вставь пропущенные буквы.

Технические культуры дают с..... для пр.....

7. Разукрась овощные культуры. Соедини стрелками название овощей и рисунков.



РЕДИС  
ЛУК  
РЕПА  
КАРТОФЕЛЬ  
МОРКОВЬ



ПАТИССОН, ЦУККИНИ, КАБАЧОК

**Проверочная работа  
7 класс, III-четверть,  
Тема: «Растения сада»**

1. Какие растения, из перечисленных, произрастают в саду? Подчеркни правильный ответ.

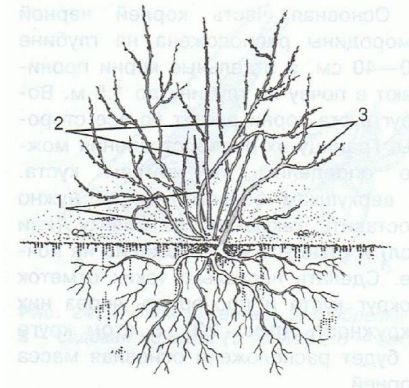
Корнеплоды, травянистые растения, кусты, кустарники, полукустарники, деревья

2. Подпиши названия основных частей растений сада.

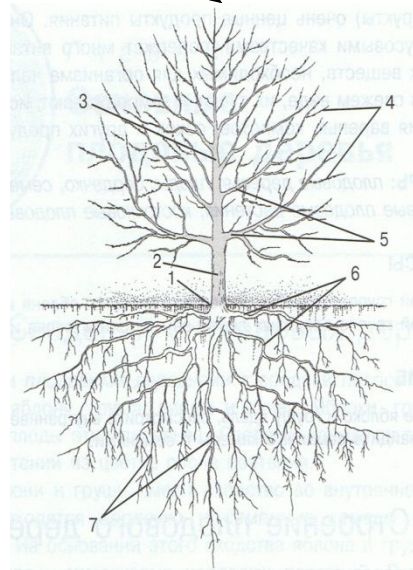
**Строение растений**

**кустарник**

**дерево**



1. \_\_\_\_\_
2. \_\_\_\_\_
3. \_\_\_\_\_



1. \_\_\_\_\_
2. \_\_\_\_\_
3. \_\_\_\_\_
4. \_\_\_\_\_
5. \_\_\_\_\_
6. \_\_\_\_\_
7. \_\_\_\_\_

3. Продолжи предложение:

Плодовый кустарник это растение имеющее:

\_\_\_\_\_

\_\_\_\_\_

Плодовое дерево это растение у которого:

\_\_\_\_\_

\_\_\_\_\_



**4. Что называется стволом?**

Стволом называется:

---

---

**5. Что такое штамп плодового дерева?**

Штамбом плодового дерева называется:

---

---

---

**6. Что такое крона плодового дерева?**

Кроной плодового дерева называется?

---

---

---

**7. Какие ветви называются скелетными?**

Скелетными называются ветви:

---

---

---

**8. Какие ветви называются обрастающими?**

Обрастающими ветвями, называют ветви которые:

---

---

---

**9. Чем отличаются летние сорта яблонь от зимних?**

---





---

---

---

---

**10. Нарисуй плоды садовых растений. Подпиши названия плодов.**



11. Какие вы знаете ягодные кустарники? Перечислите.

12. Чем отличаются друг от друга плодовые деревья?  
Перечисли эти различия вставляя пропущенные буквы.

- Отличаются формой к.....ы
- Отличаются формой л.....а
- Отличаются по группам п.....в

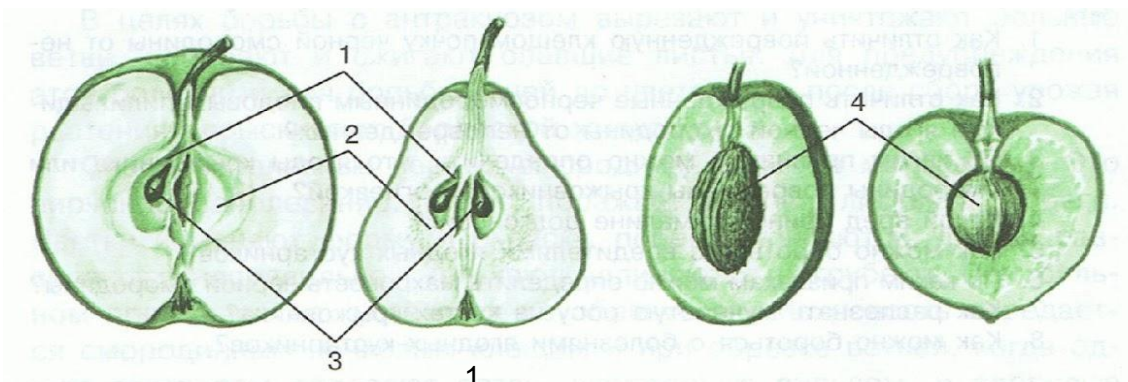
13. На какие группы делятся плоды садовых деревьев? Заполни схему.

Группы плодов садовых деревьев

С.....е

К.....е

14. Подпиши названия внутренних составных частей плодов.



- \_\_\_\_\_
- \_\_\_\_\_
- \_\_\_\_\_
- \_\_\_\_\_

15. Какие вы знаете семечковые и косточковые плоды? Заполните таблицу.

<u>косточковые</u>	<u>семечковые</u>