




ПЯТЬ МЕРЕК И ИХ ЗАПИСЬ

АКТУАЛИЗАЦИЯ ЗНАНИЙ

- - Из каких деталей состоит фартук?
- - Какие размеры надо знать, чтобы построить чертеж нагрудника? Нижней части фартука?
- - По какому месту фигуры проходит пояс и что надо измерить для определения его длины?
- - Можно ли сделать бретели одинаковой длины для всех размеров, если они шьются в виде завязок?



САНТИМЕТРОВАЯ ЛЕНТА

- Изобрел в 1810 году французский портной.
- Изготавливается лента из полотна или клеенки.
- Длина – 150 см, ширина – 1,5-2 см.
- На концах ленты имеются металлические заклепки, предохраняющие ее от износа.



Чтобы избежать неточности при измерении, нужно пользоваться одной и той же сантиметровой лентой.

Правила снятия мерок

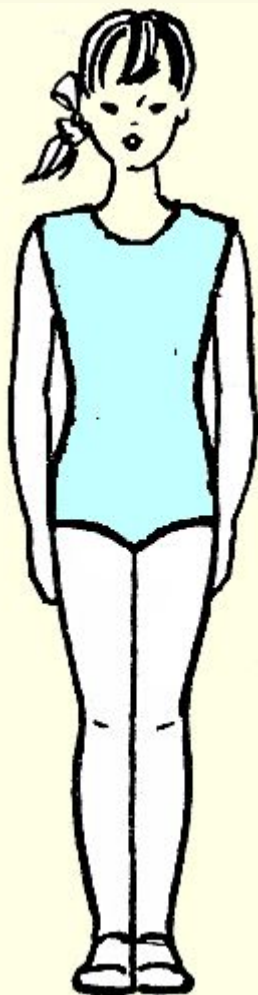
- Мерки снимают по правой стороне фигуры.
- Сначала снимают мерки обхватов, затем мерки длин.
- Стоять надо прямо без напряжения.
- Одежда должна быть легкой.
- Талию предварительно опоясать шнурком.
- При измерении сантиметровую ленту не натягивать и не ослаблять.
- Мерки длины записывают полностью, мерки ширины и обхватов в половинном размере, так как чертеж строят на половину фигуры.



СНЯТИЕ МЕРОК

название мерок	Усл. обоз.	нап р	назначение	правила снятия мерок
Длина нагрудника	Дн	<input type="checkbox"/>	определение длины нагрудника	от линии талии <input type="checkbox"/> через ·1 до желаемой длины
Длина нижней части	Днч	<input type="checkbox"/>	определение длины нижней части фартука	от линии талии <input type="checkbox"/> до желаемой длины,
Полуобхват талии	Ст	<input type="checkbox"/>	определение длины пояса	Гориз-но вокруг туловища через ·2 на полном выдохе
Полуобхват бедер	Сб	<input type="checkbox"/>	определение ширины н. части фартука	горизонтально вокруг туловища через ·3

СНЯТИЕ МЕРОК



- Чертеж строится только на половину фигуры, так как вторая половина такая же.
- Мерки обхватов записывают в половинном размере и называют «полуобхват». Условно обозначают буквой «С» (половина от буквы «О»),
- Мерки длин записывают полностью и обозначают буквой «Д».

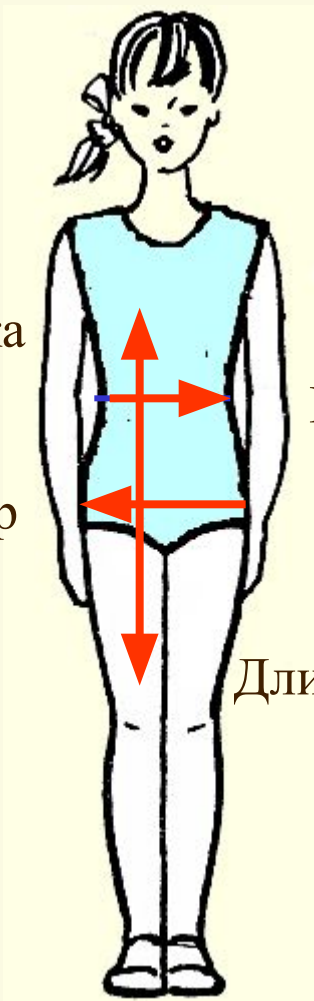
СНЯТИЕ МЕРОК

Дн Длина нагрудника

Сб Полуобхват бедер

Полуобхват талии **Ст**

Длина нижней части **Днч**



СНЯТИЕ МЕРОК

- Практическая работа:
«Снятие мерок и их запись»



Ст -

Дн -

Сб -

Днч -



Самостоятельная работа

Заполните графу таблицы, поставив буквы, соответствующие правильным ответам

Мерки	Их назначение
Ст	
Сб	
Дн	
Днч	

Варианты ответа:

А – определение длины нагрудника;

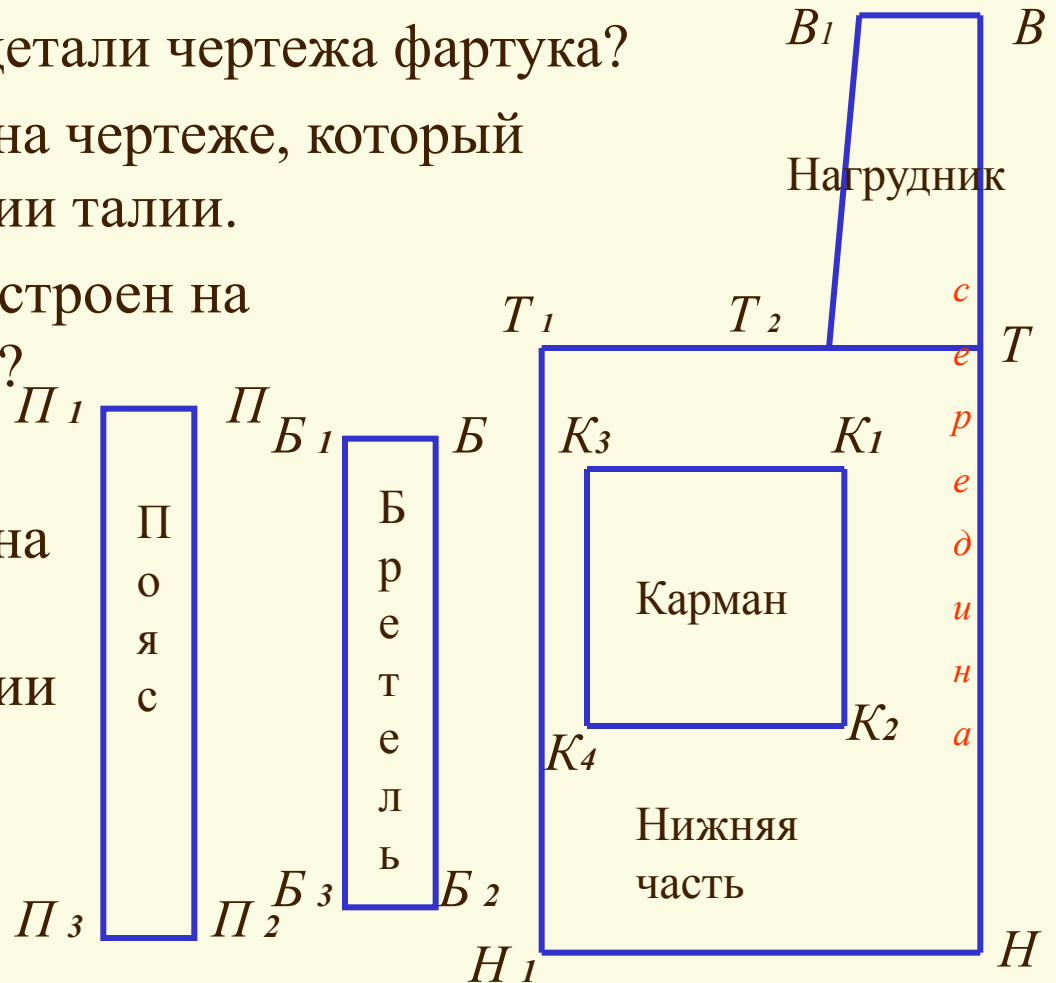
Б – определение длины пояса;

В – определение длины нижней части фартука;

Г – определение ширины нижней части фартука.

ЧТЕНИЕ ЧЕРТЕЖА

- Чем отличаются детали чертежа фартука?
- Назовите отрезок на чертеже, который соответствует линии талии.
- Почему чертеж построен на половину фигуры?
- Назовите отрезок на чертеже, который соответствует линии бока.



ИСТОЧНИКИ

- <http://school-sewing.narod.ru/kurs/bruk.htm>
- <http://masterskayaotanyutki.narod.ru/Polesno.html>