




Интеллектуальная
ГОТОВНОСТЬ К ШКОЛЬНОМУ
обучению





**Посмотрите на рисунок 15 секунд.
Постарайтесь запомнить все, что
изображено на рисунке.**



Вспомни, что изображено на рисунке.

- 1. Сколько лепестков у цветка?**
- 2. Какой предмет изображен под номером 3?**
- 3. Есть ли ручка на двери дома?**
- 4. В какую сторону едет машина?**
- 5. Есть ли в чашке вода?**



Сколько на лесной полянке ежей?



**Какой
воздушн
ый
шарик
лишний?**



Назови соседей числа

4	5	6
6	7	8
8	9	10
2	3	4



- Назови число, которое больше 4, но меньше 6. **5**
- Назови число, которое следует за числом 6. **7**
- Назови число предшествующее числу 8. **7**
- Назови число последующее числу 9. **10**
- Увеличь 7 на 2. **9**
- Уменьши 9 на 2. **7**
- Назови сумму чисел 3 и 2. **5**
- Назови число, которое больше 5 на 3. **8**
- Назови число, которое меньше 10 на 2. **8**





$$2 + 6$$

$$8 - 4$$

$$6 + 1$$

$$10 - 9$$

$$5 + 3$$

$$4 - 2$$

$$7 - 2$$

$$1 + 7$$

$$8 + 2$$



Гном на бревне сделал 3 распила



Сколько частей получилось?