



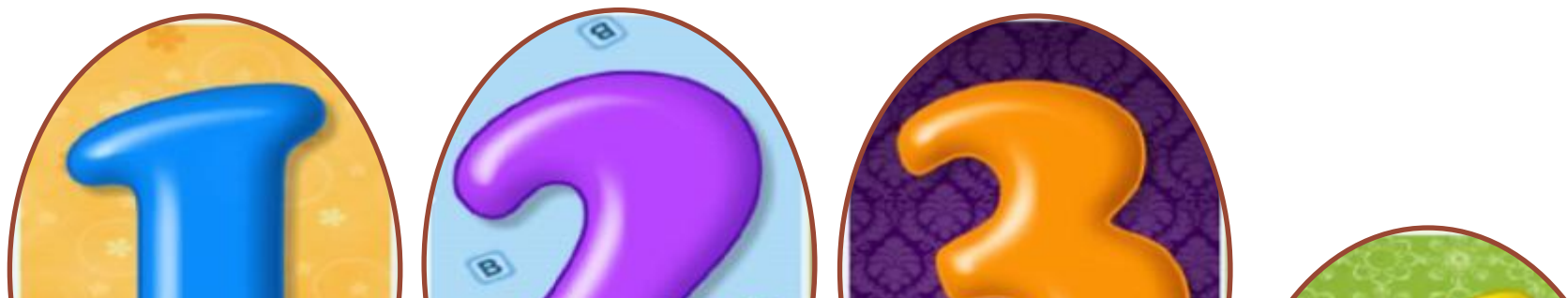
У НА ЛЕСНОЙ ПОЛЯНКЕ



Речевая зарядка

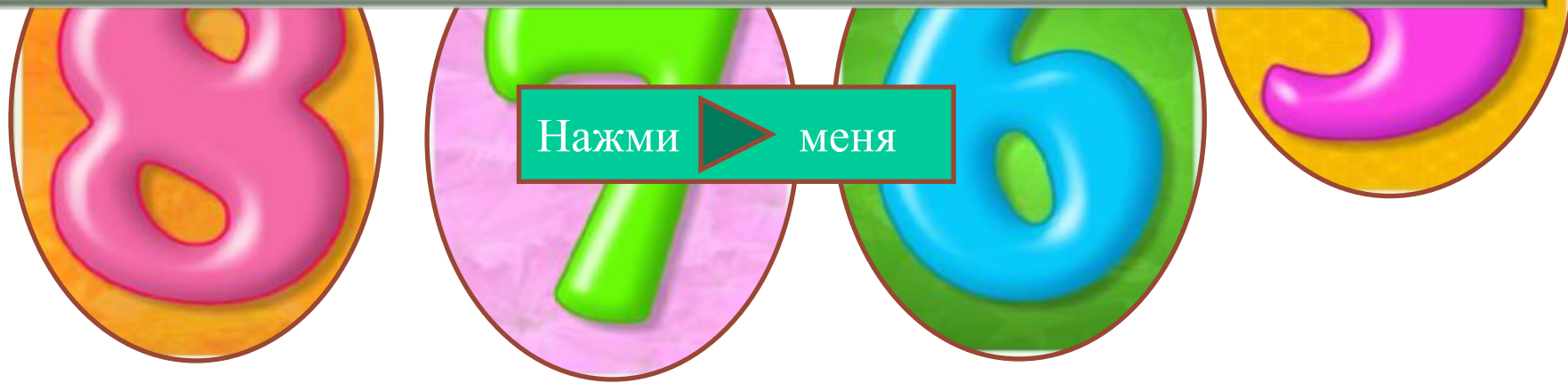
Назови
соседей числа.





Наведите указатель на цифру –
и услышите её название.

Нажмите на картинку – и
увидите, как пишется слово,
обозначающее это цифру.



Найдите слово, обозначающее эту цифру. При затруднении нажмите на цифру.

one

no



yes

four


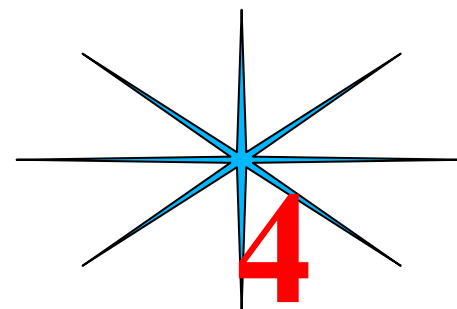

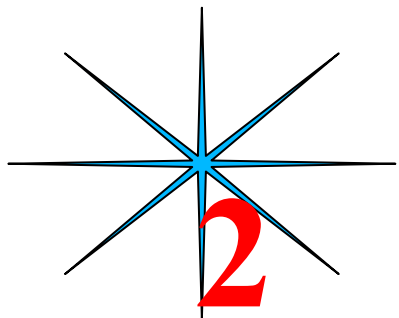
ten

no


six

no

Состав числа



8



Назовите
числа на
английском
языке

Числовой диктант

2

7

8

1

6

3

9

5

10






Задача

Учебник стр.41, задача 10



**Выбери правильный
ответ**

How old are they?

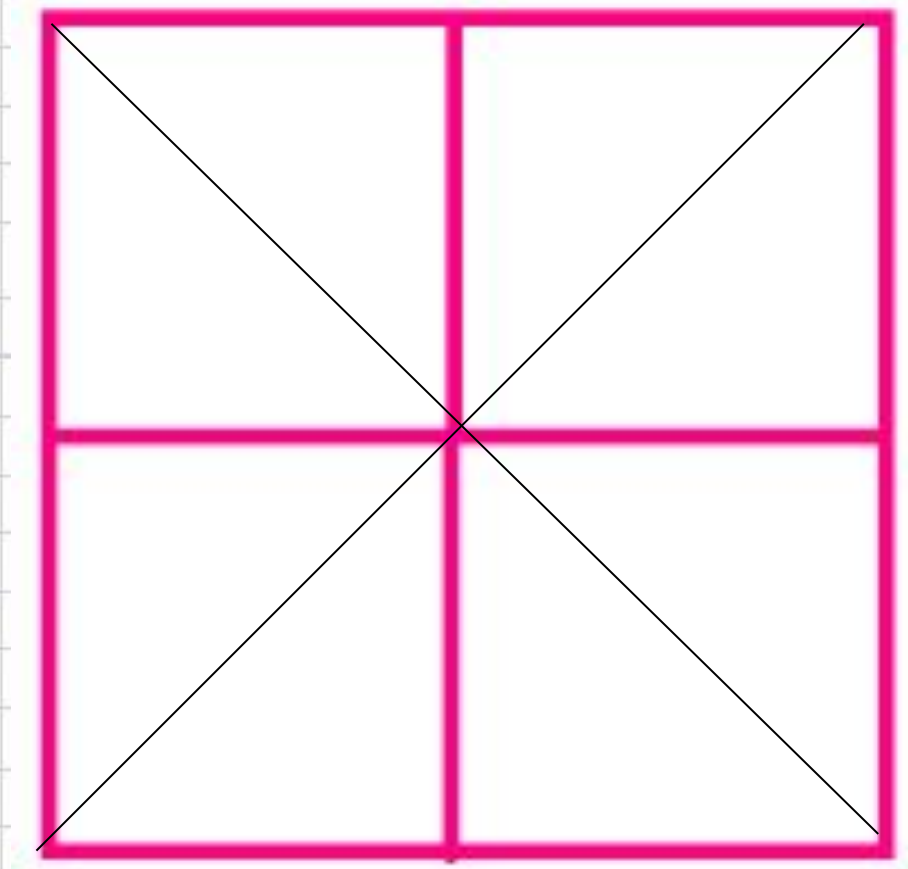
1. **Tom is ...**  **a. 6**
2. **His mother is ...**  **b. 10**
3. **His father is ...**  **c. 32**
4. **His sister is ...**  **d. 7**
5. **His brother ...**  **e. 35**



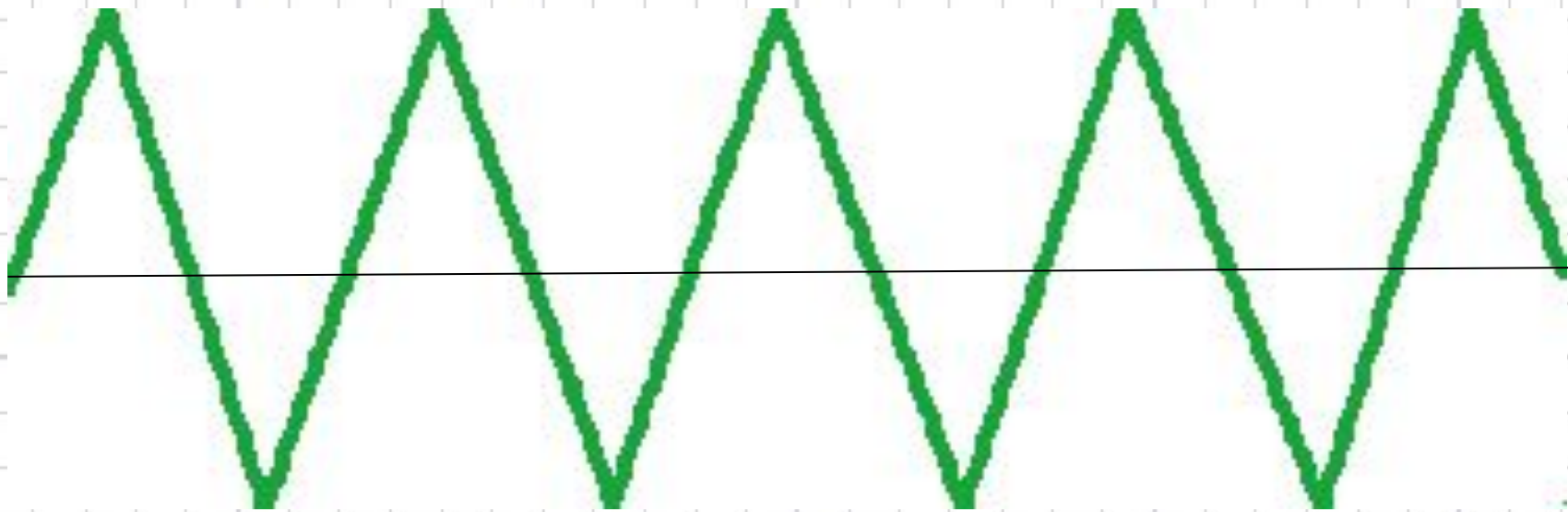
Логические задачи



Проведите две прямые
так, чтобы получилось
восемь одинаковых
треугольников



Проведите одну линию так,
чтобы получилось девять
треугольников.




Свечи.

В комнате горело 50 свечей, 20 из них задули. Сколько останется?



Ответ: останется 20 свечей, остальные сгорят, а задутые свечи не сгорят полностью.

**Сидят три барана, против
каждого барана - два барана,
много ль всех?**

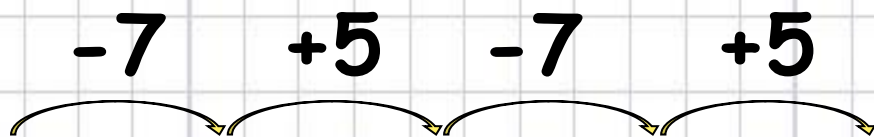


Ответ: 3 барана.



Найди закономерность и продолжи ряд

• 2, А, 4, Б, 6, В, ..., 8, Г, 10, Д



4 9 2 7

• 15, 8, 13, 6, 11, ..., .., .., ..



Какие картинки поменялись местами?



1



2



3



4



5



6



Ответ



СЛЕДУЮЩЕ

Какие картинки исчезли?



1



2



3



4



5



6



СЛЕДУЮЩЕ

Ответ

Какие картинки исчезли и появились новые?



1



2



3



4



5



6



Ответ



Какие картинки исчезли и появились новые?



1



2



3



4



5



6



Ответ





Исследовательская работа



Работа в 1 группе

Денежные единицы Англии



Работа во 2 группе

Задание:

**Провести исследование по теме:
« Старинные единицы измерения длины »**



Работа в 3 группе

Задания:

1. По – очереди задайте друг другу вопрос:
How old are you? и ответьте на него: I am ...
2. Высчитайте общий возраст своей группы.
3. Запишите решение в форме равенства:

4. Выберите представителя от группы,
который выйдет к доске, запишет ответ на
доске и назовёт ответ на английском языке.



Работа в 4 группе

Задание:

Отправиться на паровозике в путешествие по математической стране «Сложение и вычитание в пределах 100»



*Окончен урок, и выполнен план.
Спасибо, ребята, огромное вам.
За то, что упорно и дружно трудились,
И знания точно уж вам пригодились*



Домашнее задание

Придумать и нарисовать
«Веселые задачи».




До новых встреч!

GOOD BYE !!!



Спасибо за урок!



МОЛОДЦЫ!

