

Своя игра по теме «Герои Мантуровского района»



1 раунд

Власть

Национально-государственное устройство

Политические режимы

Участие граждан в политической жизни

Политические партии

A decorative floral pattern with intricate scrollwork and leaf motifs, rendered in a light beige color, positioned at the bottom of the page.


Фото Героя	<u>100</u>	<u>200</u>	<u>300</u>	<u>400</u>	<u>500</u>
Где он родился	<u>100</u>	<u>200</u>	<u>300</u>	<u>400</u>	<u>500</u>
Должность в Армии	<u>100</u>	<u>200</u>	<u>300</u>	<u>400</u>	<u>500</u>
Воинский подвиг	<u>100</u>	<u>200</u>	<u>300</u>	<u>400</u>	<u>500</u>
Техника, вооружение Героя.	<u>100</u>	<u>200</u>	<u>300</u>	<u>400</u>	<u>500</u>





100


- Назовите имя героя, изображенного на фото.
- А) Саньков И.Г.
- Б) Горбунов И.М.
- В) Черников Ф.У
- Г) Барков Н.Ф



200



- Назовите имя героя, изображенного на фото.
- А) Саньков И.Г.
- Б) Горбунов И.М.
- В) Черников Ф.У
- Г) Барков Н.Ф.



300



- Назовите имя героя, изображенного на фото.
- А) Саньков И.Г.
- Б) Горбунов И.М.
- В) Барков Н.Ф.
- Г) Бородин В.П





400



- Назовите имя героя, изображенного на фото.
- А) Саньков И.Г.
- Б) Горбунов И.М.
- В) Жилин Е.П.
- Г) Барков Н.Ф.





500

- Назовите имя героя, изображенного на фото.
- А) Саньков И.Г.
- Б) Горбунов И.М.
- В) Жилин Е.П.
- Г) Барков Н.Ф.





100

- Назови село в котором родился Горбунов Иван Михайлович:

- 1) Большие Бутырки
- 2) Стужень
- 3) Сейм
- 4) Останино



200



- Назови село в котором родился Легостаев Василий Захарович:
 - 1) Большие Бутырки
 - 2) Стужень
 - 3) Сейм
 - 4) Останино



300



- Назови село в котором родился Белоусов Павел Александрович.:

- 1) Большие Бутырки
- 2) Стужень
- 3) Сейм
- 4) Останино




400



- Назови село в котором родился Жилин Егор Павлович:

- 1) Большие Бутырки
- 2) Стужень
- 3) Пузачи
- 4) Останино






500


- Назови село в котором родился Саньков Иван Гаврилович

- 1) Большие Бутырки
- 2) Пузачи
- 3) Останино
- 4) Сейм





100

- Какую должность занимал Саньков Иван Гаврилович, в момент присвоения звания Герой Советского союза.
- А) командир огневой батареи
- Б) автоматчик, разведчик.
- В) наводчик противотанкового ружья
- Г) командир стрелкового батальона.




200

- Какую должность занимал Белоусов Павел Александрович, в момент присвоения звания Герой Советского союза.
- А) командир огневой батареи
- Б) автоматчик, разведчик.
- В) наводчик противотанкового ружья
- Г) командир стрелкового батальона.



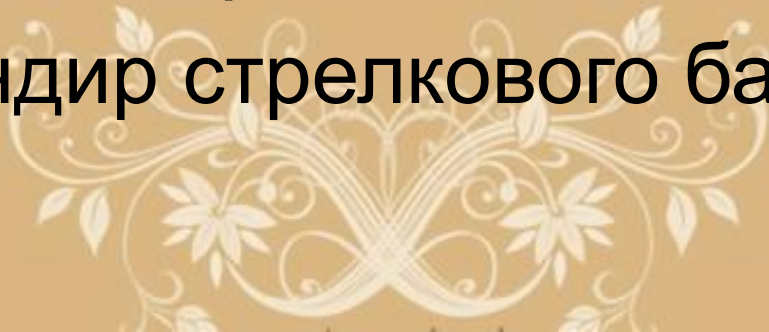
300

- Какую должность занимал Барков Николай Федорович, в момент присвоения звания Герой Советского союза.
- А) командир огневой батареи
- Б) автоматчик, разведчик.
- В) наводчик противотанкового ружья
- Г) командир стрелкового батальона.



400

- Какую должность занимал Легостаев Василий Захарович в момент присвоения звания Герой Советского Союза.
- А) командир огневой батареи
- Б) автоматчик, разведчик.
- В) наводчик противотанкового ружья
- Г) командир стрелкового батальона.




500

- Какую должность занимал Бородин Виктор Петрович, в момент присвоения звания Герой Советского союза.
- А) командир огневой батареи
- Б) заместитель командира эскадрильи.
- В) наводчик противотанкового ружья
- Г) командир стрелкового батальона.



100

- Назови имя Героя Советского союза:
- Заместитель командира эскадрильи 42-го гвардейского полка (Северо-Кавказский фронт) гвардии старший лейтенант в июле 1943 года совершил 113 боевых вылетов, в 50 воздушных боях сбил лично 14 и в составе группы 3 самолета. Звание Героя Советского союза присвоено 02.09.1943 года.




200

- Назови имя Героя Советского союза:
- Командир огневого взвода арт. батареи 1050 полка старший лейтенант при форсировании реки Одер со своими бойцами одним из первых достиг левого берега, прямой наводкой уничтожил 2 пулемёта и орудие, мешавшие переправе стрелковых подразделений. 3 февраля в бою за удержание плацдармом взвод отразил 6 контратак, подбив 4 танка. Несмотря на ранение, заменил выбывшего из строя наводчика орудия и лично поджог 2 танка. Звание Героя Советского союза присвоено 31.05.1945 году



300

- Назови имя Героя Советского союза:
- Командиру танкового взвода 56-го отдельного танкового полка 4-й танковой армии младшему лейтенанту звание Героя Советского союза присвоено 02.08.1944 года за особое мужество и героизм, проявленные в наступательных боях на Украине в 1944 г.




400

- Назови имя Героя Советского союза:
- Автоматчик 269-го стрелкового полка 136 стрелковой дивизии рядовой особенно отличился при форсировании Днепра и захвате плацдарма на его правом берегу. Погиб -10 января 1944 года. Звание Героя Советского союза присвоено 10 января 1944 года.




500

- Назови имя Героя Советского союза:
- Наводчику противотанкового ружья 99-го гв. отделения ист. противотанковой дивизии звание Героя Советского союза присвоено за героизм, проявленный в боях за плацдарм на Днепре в Кировоградской области (Украина). Пропал без вести при отражении контратаки пехоты и танков противника 7 ноября 1943 года.



100

- Назови имя Героя Советского союза мантуровца, который воевал на следующей технике:
- Танк т-34



200

- Назови имя Героя Советского союза мантуровца, который воевал на следующей технике:
- Самолет Як-1



300

- Назови имя Героя Советского союза мантуровца, который воевал на следующей технике:
- Самолет Ил-2



400

- Назови имя Героя Советского союза мантуровца, который воевал со следующим вооружением :
- Противотанковое ружье



500

- Назови имя Героя Советского союза мантуровца, который воевал со следующим вооружением :
- Артиллерийское орудие



2 раунд


Государство

Формы правления

Гражданское общество и правовое государство




Государство	<u>200</u>	<u>400</u>	<u>600</u>	<u>800</u>	<u>1000</u>
Формы правления	<u>200</u>	<u>400</u>	<u>600</u>	<u>800</u>	<u>1000</u>
Гражданское общество и правовое государство	<u>200</u>	<u>400</u>	<u>600</u>	<u>800</u>	<u>1000</u>



200

- Независимость государства во внешней политике и верховенство во внутренней политике называется:

- 1) Гражданственность
- 2) Государство
- 3) Суверенитет
- 4) Разделение властей



400

- Характерным признаком государства является:
 - 1) Единая территория
 - 2) Отсутствие аппарата принуждения
 - 3) Отсутствие налогов
 - 4) Наличие многопартийности




600

- Верны ли следующие суждения о государстве?

А) государство является основным институтом политической системы

Б) государство – продукт исторического развития человеческого общества

- 1) Верно только А
- 2) Верно только Б
- 3) Оба суждения верны
- 4) Оба суждения неверны




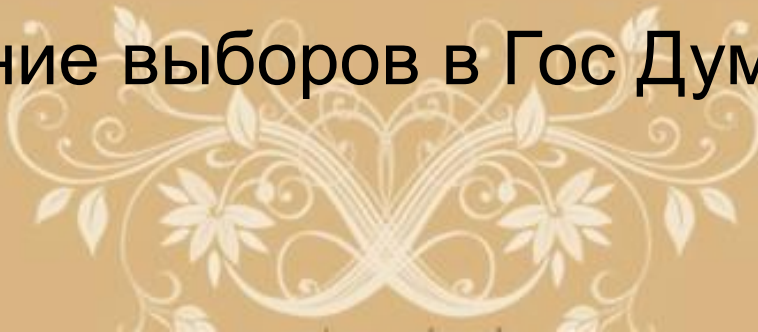
800

- Найдите в предложенном списке внутренние функции государства:
 - 1) Участие в решении глобальных проблем
 - 2) управление экономикой
 - 3) Охрана общественного порядка
 - 4) Обеспечение обороны государства
 - 5) Регулирование социальных отношений



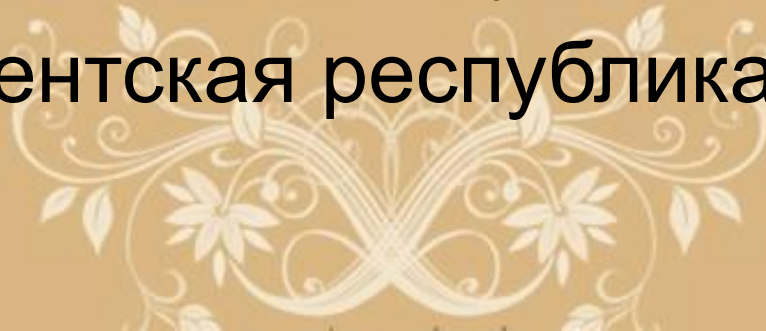
1000

- Какой из примеров характеризует проявление внешних функций государства?
 - 1) Подписание президентом указа о повышении пенсий
 - 2) Подписание соглашения о развитии торговых отношений с Францией
 - 3) Принятие всеобщим голосованием новой Конституции
 - 4) Проведение выборов в Гос Думу




200

- Форма правления, при которой власть сосредоточена в руках одного человека, осуществляющего единоличное правление, называется:
 - 1) Ограниченная монархия
 - 2) Абсолютная монархия
 - 3) Президентская республика
 - 4) Парламентская республика



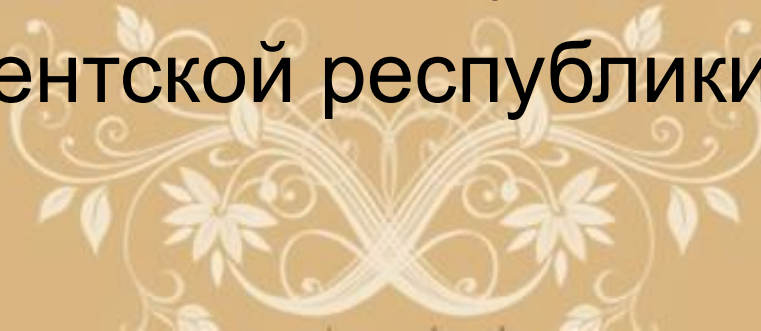
400

- Правительство РФ осуществляет власть:
 - 1) Законодательную
 - 2) Законосовещательную
 - 3) Исполнительную
 - 4) Судебную




600

- Президент является главой государства, формирует правительство, возглавляет исполнительную власть. Это черты:
 - 1) Абсолютной монархии
 - 2) Ограниченной монархии
 - 3) Президентской республики
 - 4) Парламентской республики



800

- В РФ парламент состоит из 2 палат:
 - 1) Федеральное Собрание и Государственная Дума
 - 2) Государственная Дума и Совет Федерации
 - 3) Совет Федерации и Государственный Совет
 - 4) Государственный Совет и Правительство



1000

- Особый порядок привлечения к ответственности высших должностных лиц и их отстранение от должности называется:

- 1) Иерархия
- 2) Инаугурация
- 3) Суверенитет
- 4) Импичмент



200

- Верховенство закона во всех сферах жизни общества является признаком:
 - 1) Правового государства
 - 2) Тоталитарного государства
 - 3) Только республиканского правления
 - 4) Верно все перечисленное



400

- Верны ли следующие суждения о гражданстве?

А) гражданство дает человеку определенные права, прежде всего избирательное право

Б) гражданство связано с конкретными обязанностями человека перед государством (выплата налогов, защита Отечества и т.д.)

- 1) Верно только А
- 2) Верно только Б
- 3) Верны оба суждения
- 4) Неверны оба суждения



600

- К проявлениям гражданского общества в духовной сфере относится:

- 1) Разнообразие форм собственности
- 2) Социальная защита граждан
- 3) Жесткая цензура СМИ
- 4) Свобода совести, слова



800

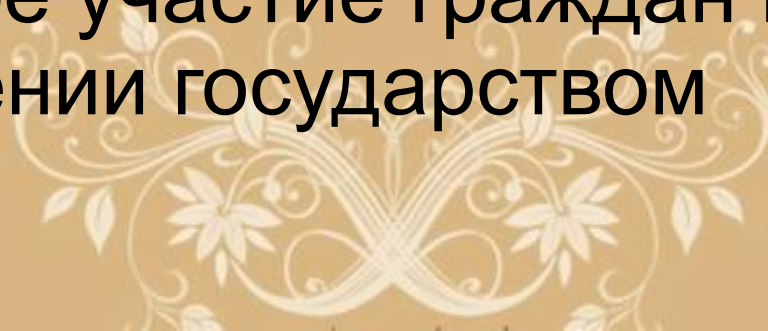
- Институтом гражданского общества является:

- 1) Правительство
- 2) Государственная дума
- 3) Политическая партия
- 4) Министерство иностранных дел



1000

- К проявлениям гражданского общества в экономической сфере относятся:
 - 1) Свобода предпринимательской деятельности
 - 2) Отсутствие конкуренции
 - 3) Разделение властей
 - 4) Активное участие граждан в управлении государством



Финал

Делайте ставки – в случае победы, ваши очки увеличатся на вашу ставку, в случае неправильного ответа – ваши очки уменьшатся на вашу ставку.



Финальный вопрос

- Как называется ведущее лицо политического процесса, осуществляющее функции объединения социальных сил, задающее направление деятельности государственным и общественным институтам, политическим движениям, во многом определяющее особенности курса на политические преобразования в стране.



Домашнее задание

- Составить портрет политического лидера современной РФ

