

1 тур

3

3

3

3

3

3

4

4

4

4

4

4

4

4

4

4

4

4

5

5

5

5

5


5

K+L=?



уақыт өтті

K=8,



Сұрақ белгісінің орнына тиісті
әріпті қойыңыз

A-C-E-G

уақыт өтті

4

3

1

0

5

0

5

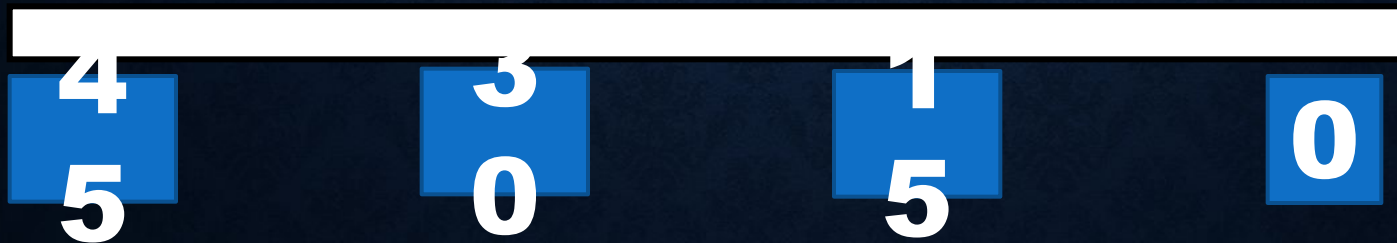


өзен

километр жүріп өтеді.

уақыт өтті

60 км



Өрнектің қайсысы қате берілген?


A) $5\frac{1}{2} = 5 + \frac{1}{2};$

B) $\frac{5}{2} > \frac{5}{3}$

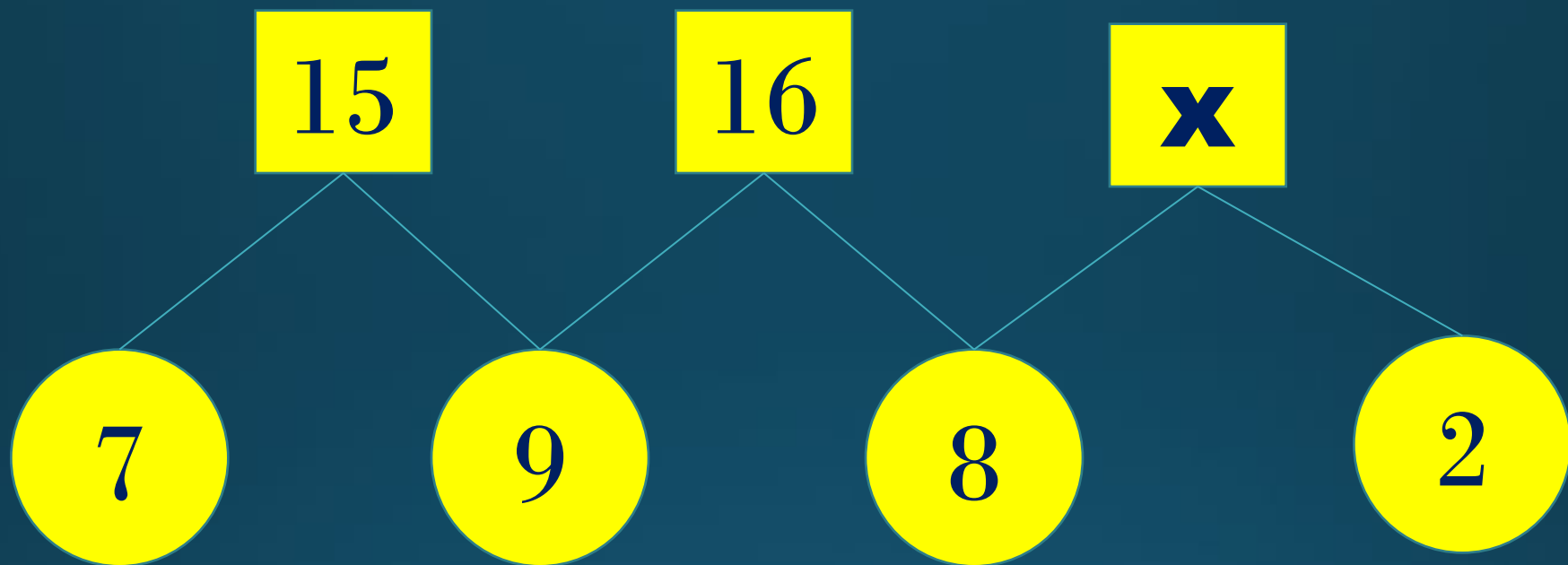
C) $5\frac{1}{3} < 5\frac{1}{2};$

D) $\frac{5}{2} = 5\frac{1}{2}$

уақыт өтті



x-ті табыңыздар.



уақыт өтті

$$x = 9$$



Сұрақ белгісінің орнына тиісті

санды қойыңыздар

8, 6, 7, 5, 6, 4, ?

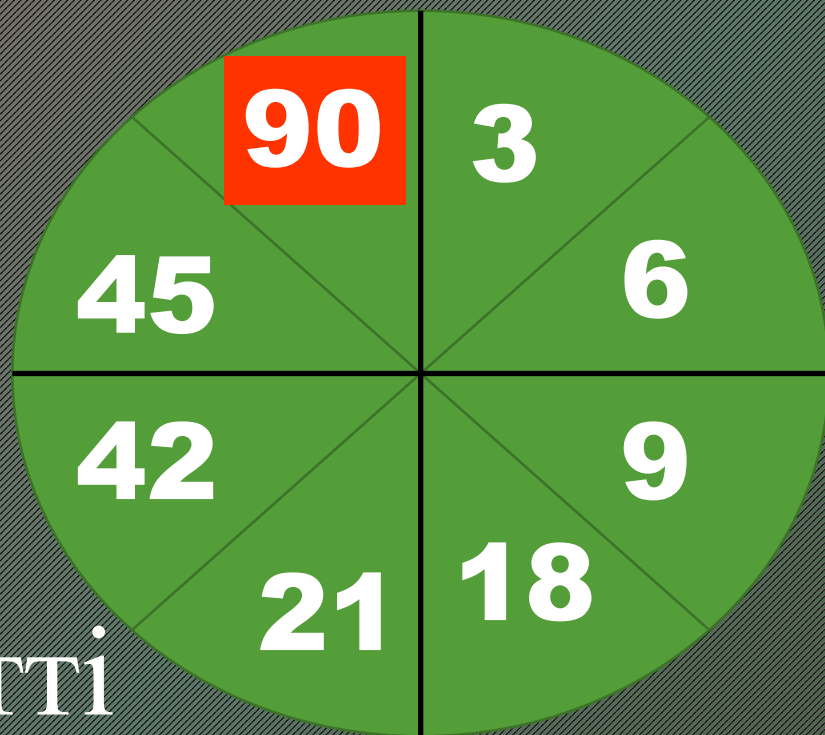
уақыт өтті

5


4	3	1	
5	0	5	0



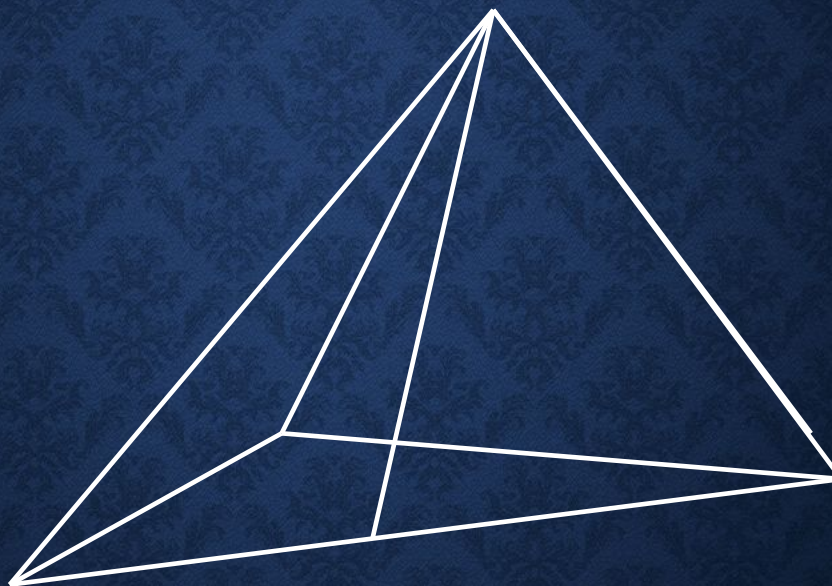
Сұрақ белгісінің орнына тиісті санды қойыңыздар.



уақыт өтті



Суретте қанша үшбұрыш бар?



уақыт өтті

7

4	3	1	0
5	0	5	0

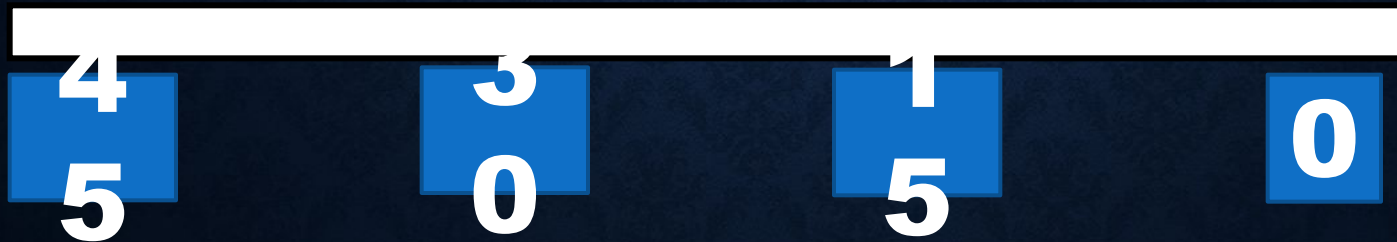


Тауардың $\frac{1}{4}$ кг-ы 30 теңге тұрады.

Тауардың $\frac{2}{3}$ кг-ы қанша тұрады?

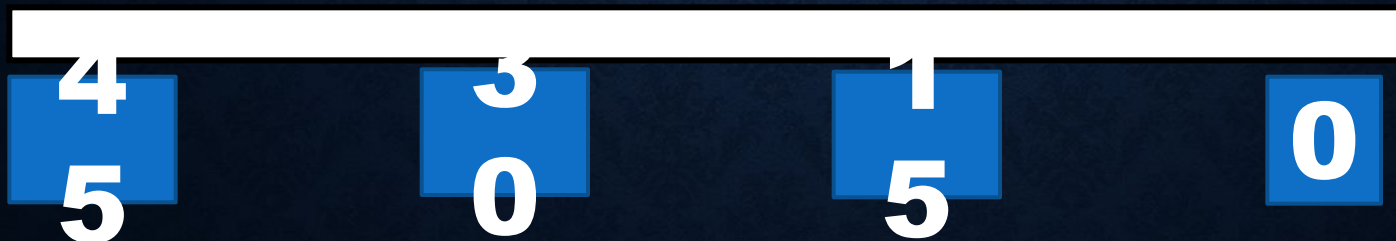
уақыт өтті

80



Егер **3** тышқан **3**
жаңғақты **3** минутта жесе,
онда **100** тышқан **100**
жаңғақты неше минутта
жейді?

уақыт өтті **3** минутта

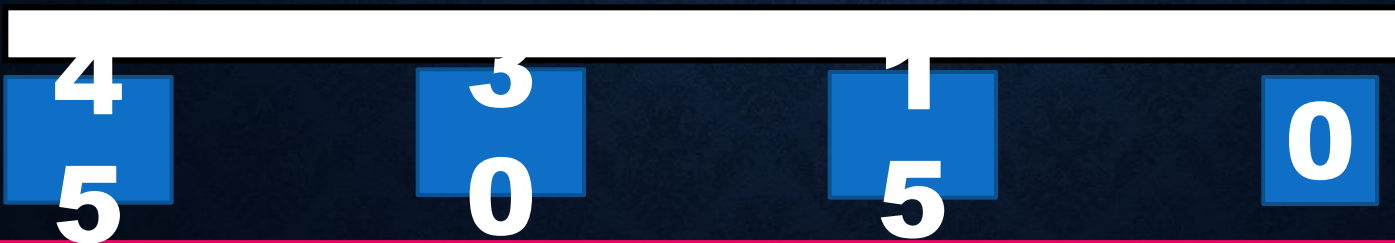


Сұрақ белгісінің орнына тиісті санды қойыңыздар



*Берілген шартқа байланысты
сұрақ белгісінің орнына сәйкес
келетін санды табыңыздар*

30, 29, 27, 26, 24, 23, 21, 20, 18




ELIM
LEKE
EKIM
ELEK
ILIK

уақыт өтті


4146 2643
1262
2126 2143

EKIM-2643



Қанат, Жанат және Марат саңырауқұлақ жинады. Қанат 15 кг, Жанат одан 3,8 кг артық, ал Марат Жанатқа қарағанда 2 есе кем саңырауқұлақ жинады. Барлығы қанша килограмм саңырауқұлақ жинаған?

уақыт өтті **43,2** КГ



Сұрақ белгісінің орнына тиісті санды қойыңыздар

2	5	7
3	6	6
4	7	5

уақыт өтті

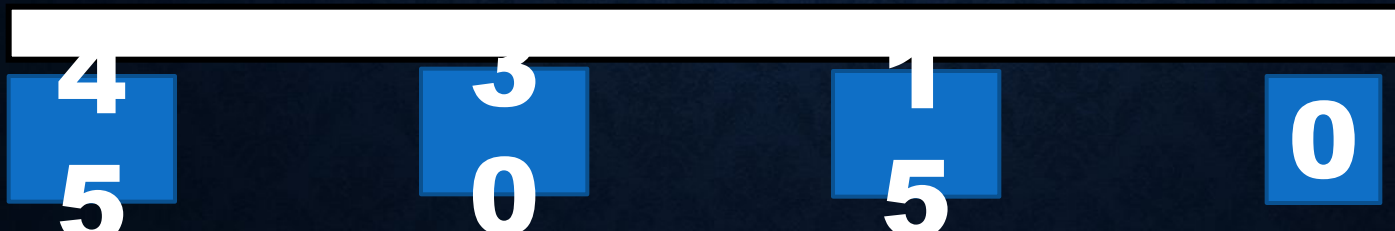
4	3	1	
5	0	5	0



2	8	A	10
7	3	11	4
12	6	5	2
4	8	4	B

уақыт өтті

$$A + B = 14$$




$$X^2 - 6X + 8 = 0$$

*ТЕҢДЕУІНІҢ ТҮБІРЛЕРІН
АЙТЫП БЕР*

$$(x_1 = 2, x_2 = 4)$$

уақыт өтті




9, 10, 12, 13, 15, 16, ?–

? белгісінің

орнындағы санды табыңыздар.


9, 10, 12, 13, 15, 16, 18
уақыт өтті



Ит түйеден 10 жыл аз, ал түйе есектен 20 жыл аз жасайды. Егер есек 50 жыл жасаса, ит пен түйе неше жыл жасайды?

*Ит 20 жыл,
түйе 30 жыл*

уақыт өтті



Ауыл мектебінде мектеп бітірушілердің саны 16, оның

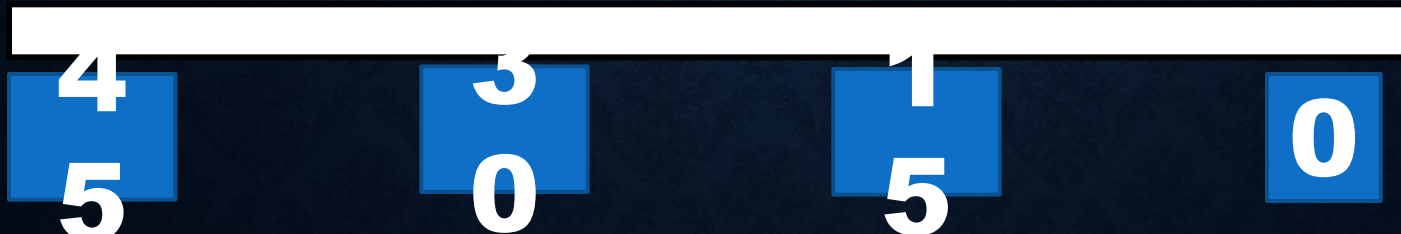
–1 қыз балалар. Мектеп бітірушілердің нешеуі

12-қыз

кыз нешеуі ұл бала?

уақыт өтті


4-ұл



1. Теңдеуді шешіңіз:
 $y^2 - 14y + 49 = 0$

уақыт өтті

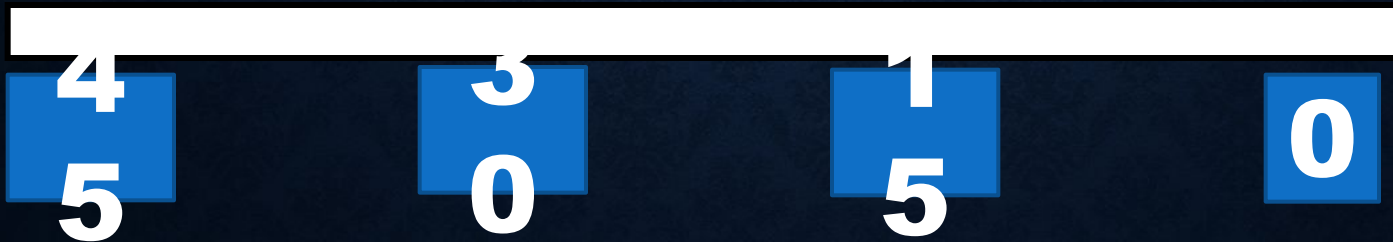
7;7



1. Теңдеуді шешіңіз:
 $x^2 - 10x + 24 = 0$

6;4


уақыт өтті



Егер сынып оқушылары 2-ден отырса, онда 3 оқушыға орын жетпей қалады. Ал егер үшеуден отырса, онда 3 парта бос қалады. Сыныпта қанша оқушы бар?

уақыт өтті

27



Арыстан бір қойды 2
сағатта, қасқыр 3 сағатта
ал ит 6 сағатта жей алады.
Олар барлығы қосылып
осы қойды қанша сағатта
жей алады?

уақыт өтті



4

3

1

0

5

0

5

