

**Прозвенел звонок и смолк.
Начинается урок.
Каждый хочет получить
Только лишь оценку «пять»**



**Сложение и
вычитание
чисел,
полученных
при измерении**



Соотнести

1) т, ц, кг, г

2) год, месяц, сутки, час, сек

3) км, м, дм, см, мм

Меры

а) **ВРЕМЕНИ**

б) **ДЛИНЫ**

в) **МАССЫ**

Проверяем

1) - в)

2) - а)

3) - б)

Какое число лишнее и почему?

5 м, 16 см, 14 кг, 27 дм

17 р, 19 к, 15 р 4 к, 35 ц

15 т, 3 ч, 8 кг, 30 ц 5 кг

4 мин, 33 с, 2 м, 15 ч

Какая запись выполнена неверно? Почему?

13 см 6 м

37 кг 18 г

18 ц 4 т

54 с 2 ч

1 м 7 дм

18 к 15 р

Вырази крупные меры в более мелких

**Самая крупная нелетающая птица –
африканский страус**

**Его рост 2м 60см =см. Сколько
это см?**

**Его масса 1ц 35 кг = ...кг. Сколько
это кг?**

**Масса яйца страуса 1кг 620 г = ...г.
Сколько это г?**

Подумай

По массе одно страусиное яйцо равно 18 куриным яйцам. Одно куриное яйцо весит 90 г. Чтобы сварить страусиное яйцо всмятку, потребуется 40 минут. Сколько времени потребуется, чтобы сварить 12 яиц?



Вырази мелкие меры в более крупных

Высота самой высокой горы в мире *Джомолунгмы*


8848 м = ...км...м над уровнем моря,

высшая точка России – гора *Эльбрус*.

Её высота 5642 м = ...км...м

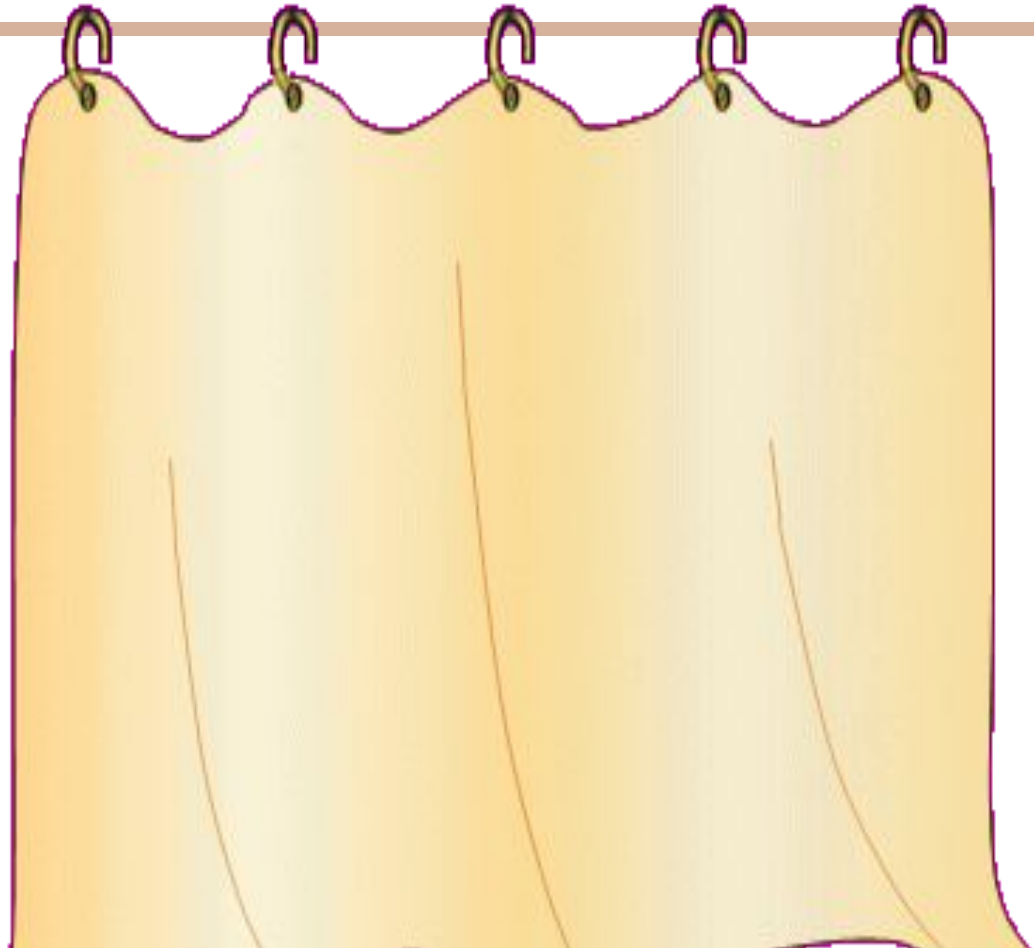
Найти ошибку

$$\begin{array}{r} 24\text{м } 52\text{см} \\ + \quad \quad 2\text{м} \\ \hline 24\text{м } 54\text{см} \end{array}$$



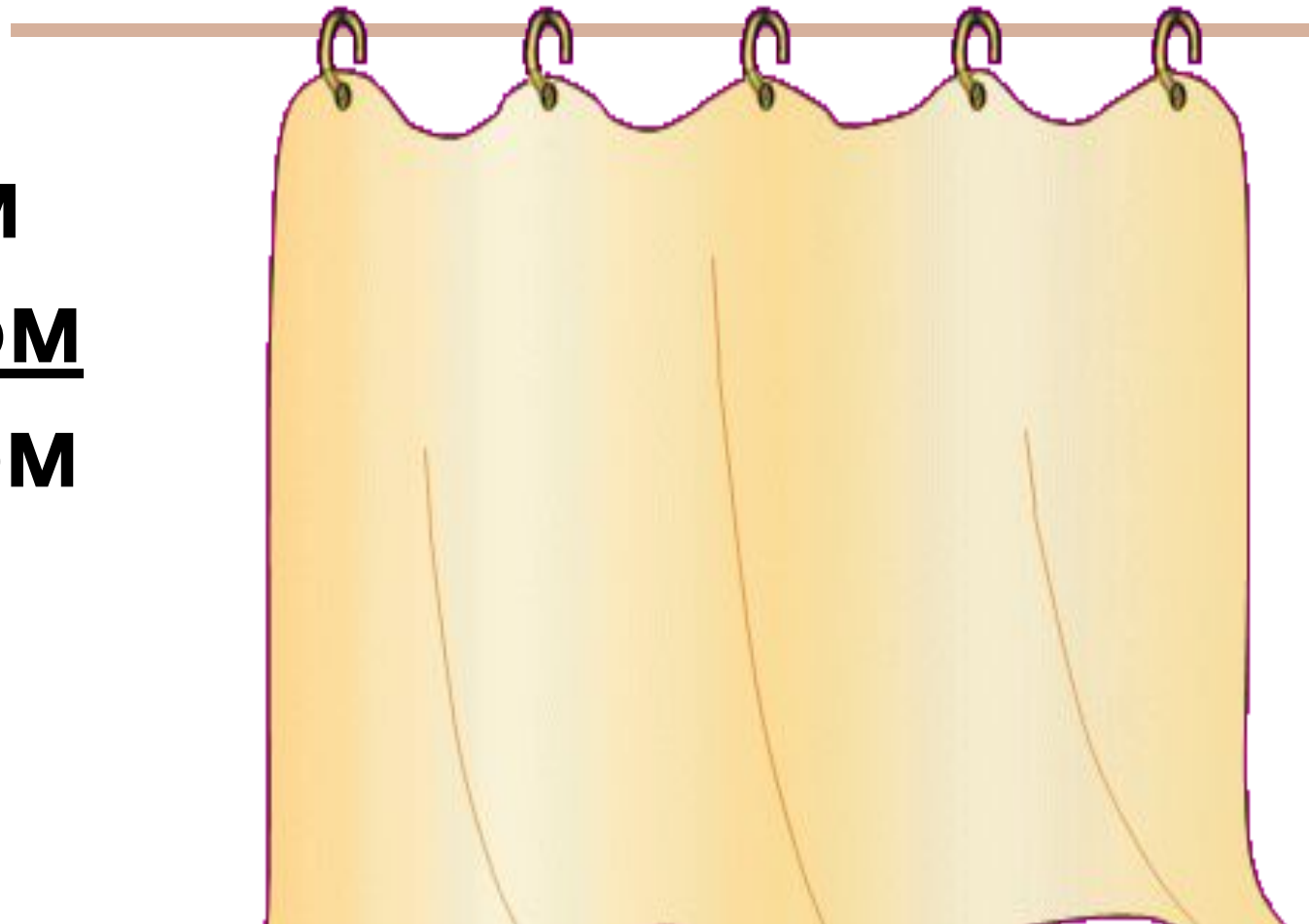
Найти ошибку

$$\begin{array}{r} 8\text{ц } 26\text{кг} \\ + \underline{6\text{кг}} \quad \underline{\quad} \\ 14\text{ц } 26\text{кг} \end{array}$$



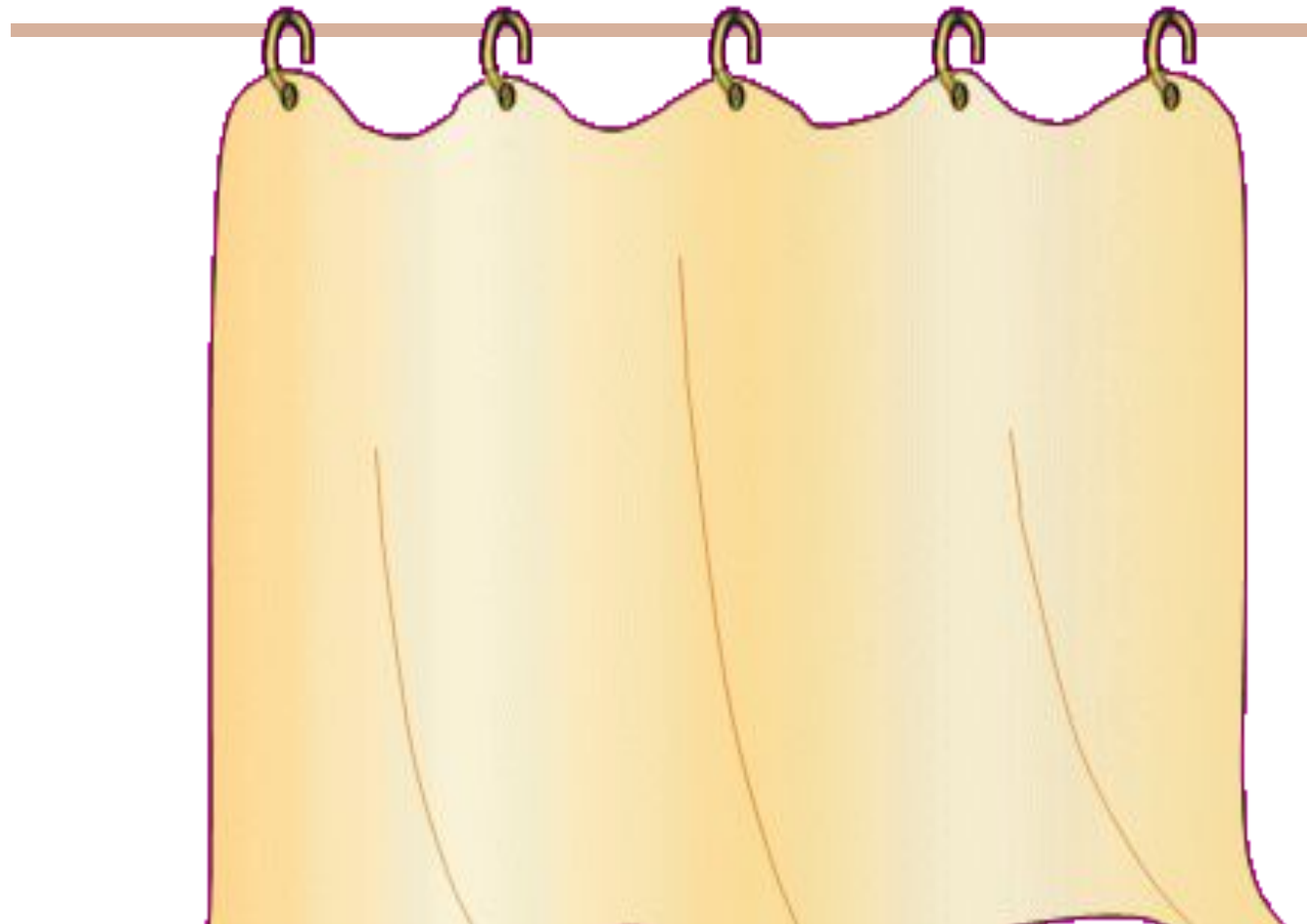
Найти ошибку

1км 18м
+2км 125м
3км 305м



Найти ошибку

$$\begin{array}{r} 25\text{т } 4\text{ц} \\ - \underline{1\text{т } 2\text{ц}} \\ \hline 23\text{т } 2\text{ц} \end{array}$$



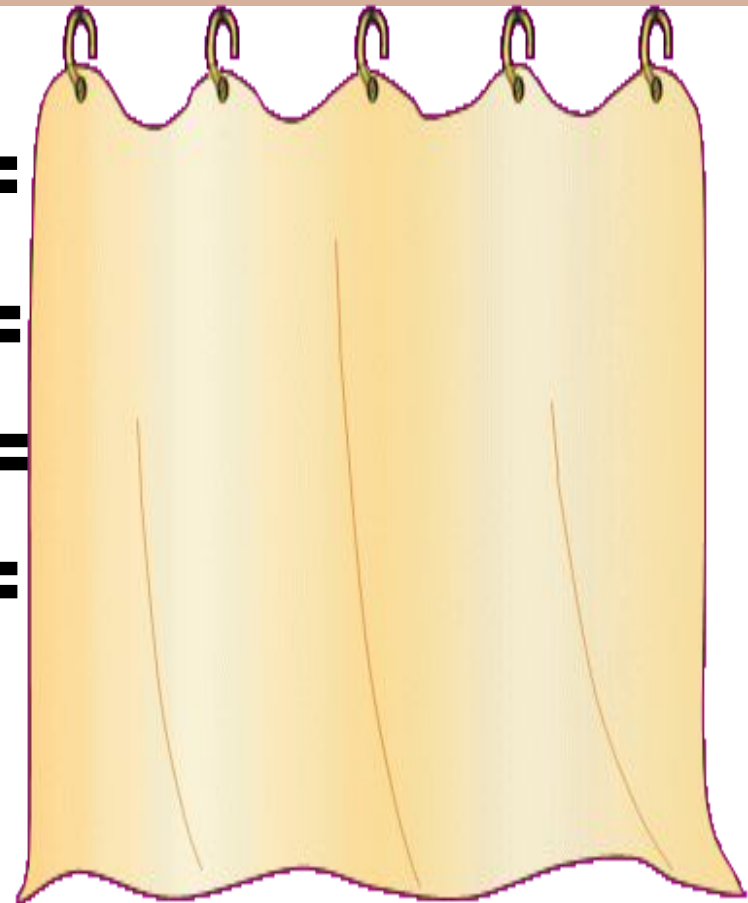
Вычислите

$$2 \text{ м } 7 \text{ ц} + 1 \text{ м } 2 \text{ ц} =$$

$$20 \text{ ц } 15 \text{ кг} + 3 \text{ ц } 80 \text{ кг} =$$

$$43 \text{ м } 73 \text{ см} + 6 \text{ м } 12 \text{ см} =$$

$$57 \text{ р. } 27 \text{ к.} + 22 \text{ р. } 31 \text{ к.} =$$

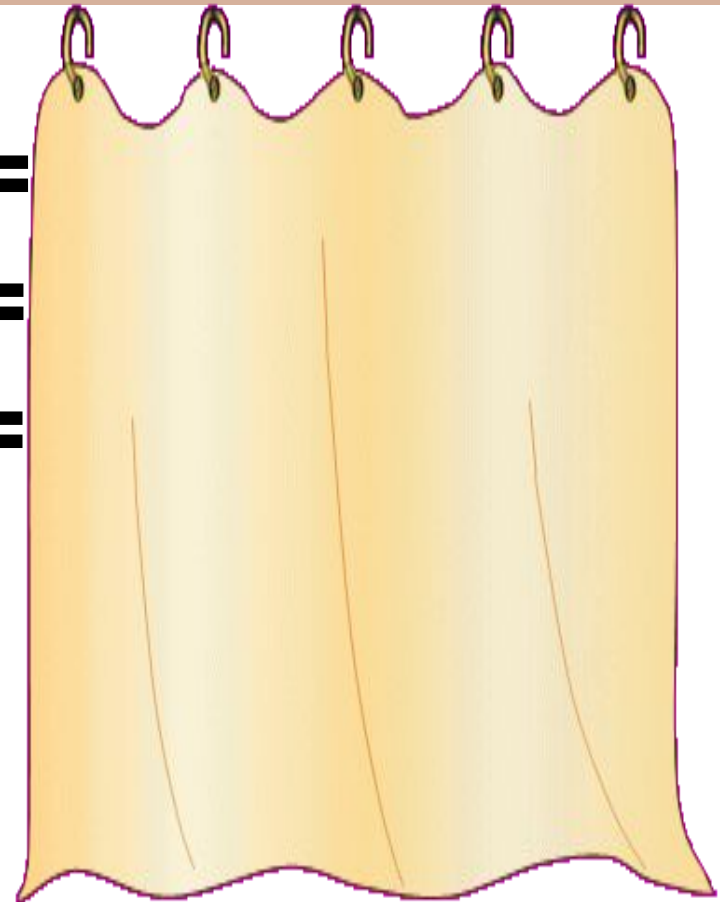


Вычислите

$$76\text{см } 3\text{мм} - 41\text{см } 2\text{мм} =$$

$$85\text{ц } 33\text{кг} - 16\text{ц } 13\text{кг} =$$

$$37\text{р. } 69\text{к.} - 12\text{р. } 24\text{к.} =$$





Задача

На стройку на первой машине привезли 4 т 8 ц песка, на 2 машине на 1 т 6 ц больше, чем на первой машине.

Сколько песка привезли на стройку на двух машинах?



4 т 8 ц песка



***на 1 т 6 ц больше,
чем на первой машине***

***Сколько песка привезли на стройку на двух
машинах?***

Задача


К концу дня в пекарне осталось 2 мешка с мукой. В одном мешке 29кг 700г муки, а в другом – на 4кг 500г больше. Сколько муки осталось в пекарне к концу дня?

Задача

1 мешок – 29кг 700г

2 мешок – на 4кг 500г больше

} ?



Задача

$$\begin{array}{r} 1) 29 \text{ кг } 700 \text{ г} \\ + 4 \text{ кг } 500 \text{ г} \\ \hline 34 \text{ кг } 200 \text{ г} \end{array}$$

$$\begin{array}{r} 2) 29 \text{ кг } 700 \text{ г} \\ + 34 \text{ кг } 200 \text{ г} \\ \hline 63 \text{ кг } 900 \text{ г} \end{array}$$

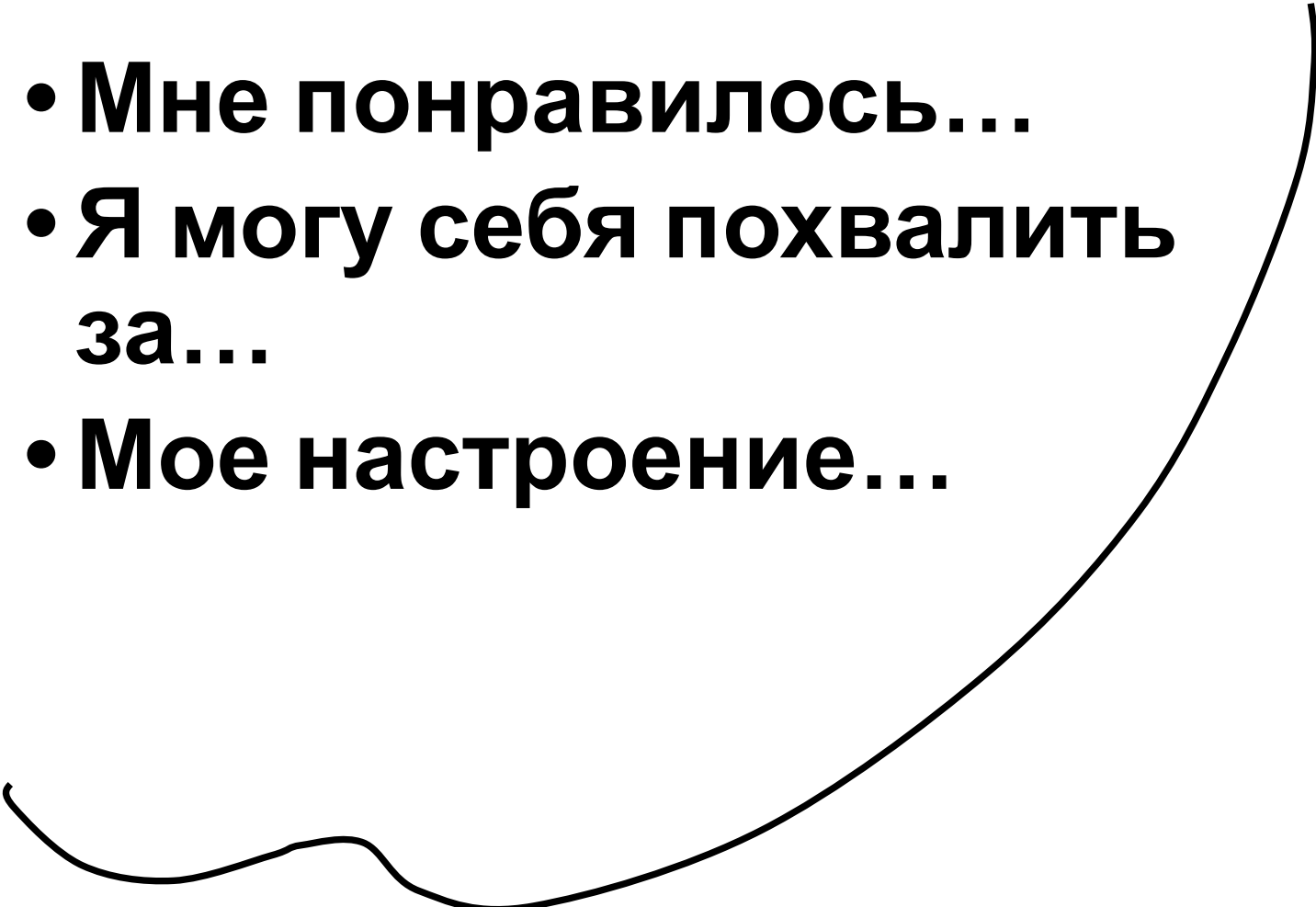
Ответ: 63 кг 900 г

Работа с учебником

Стр. 92
№ 297



На уроке


- Мне понравилось...
 - Я могу себя похвалить за...
 - Мое настроение...
- 

Оцени свою работу на уроке

10 - 9 баллов «5»

8 – 6 баллов «4»

5 – 4 баллов «3»



Домашнее задание

Стр. 92
№ 297

