

**“Рымбек Байсейітов атындағы Семей қаржы-
экономикалық колледжі” КМҚК**





Интеллектуальная игра

Подготовила:
Едлипова
Шолпан
Мутиолловна

І-ТУР. РАЗМІНКА



1. СМОЖЕТЕ ЛИ ВЫ НАЙТИ
НАЙТИ ЗДЕСЬ ОШИБКУ?

1 2 3 4 5 6 7 8 9

2. Яблоки.

Как разделить пять яблок между пятью девочками так, чтобы каждая получила по яблоку и при этом одно из яблок осталось в корзинке?



Ответ:

Один человек берет
яблоко вместе с

корзинкой.

3.94НН03 С006ЩЗННЗ ПОК4ЗЫ8437,
К4КНЗ У9N8N73ЛЬНЫЗ 83ЩН МОЖЗ7
93Л47Ь Н4Ш Р4ЗУМ!

8ПЗЧ47ЛЯЮЩНЗ 83ЩН!

СН4Ч4Л4 Э70 БЫЛО 7РУ9НО, НО
СЗЙЧ4С Н4 Э70Й С7Р0КЗ 84Ш Р4ЗУМ
ЧН7437 Э70 4870М47НЧЗСКН, НЗ
349УМЫ84ЯСЬ 06 Э70М.

ГОР9НСЬ. ЛНШЬ ОПР393ЛЗННЫЗ
ЛЮ9N МОГУ7 ПРОЧН747Ь Э70.

Ответ:

**ДАННОЕ СООБЩЕНИЕ ПОКАЗЫВАЕТ,
КАКИЕ УНИКАЛЬНЫЕ ВЕЩИ МОЖЕТ
СДЕЛАТЬ НАШ РАЗУМ!**

**ВПЕЧЕТЛЯЮЩИЕ ВЕЩИ! СНАЧАЛА ЭТО
БЫЛО ТРУДНО, НО СЕЙЧАС НА ЭТОЙ
СТРОКЕ НАШ РАЗУМ ЧИТАЕТ ЭТО
АВТОМАТИЧЕСКИ, НЕ ЗАДУМЫВАЯСЬ
ОБ ЭТОМ, ГОРДИСЬ ЛИШЬ
ОПРЕДЕЛЕННЫЕ ЛЮДИ МОГУТ
ПРОЧИТАТЬ ЭТО.**

4.

$$\text{Pink Circle} + \text{Pink Circle} + \text{Pink Circle} = 45$$

$$\text{Yellow Square} + \text{Yellow Square} + \text{Pink Circle} = 23$$

$$\text{Yellow Square} + \text{Blue Triangle} + \text{Blue Triangle} = 10$$

$$\text{Blue Triangle} + \text{Yellow Square} + \text{Yellow Square} + \text{Pink Circle} =$$

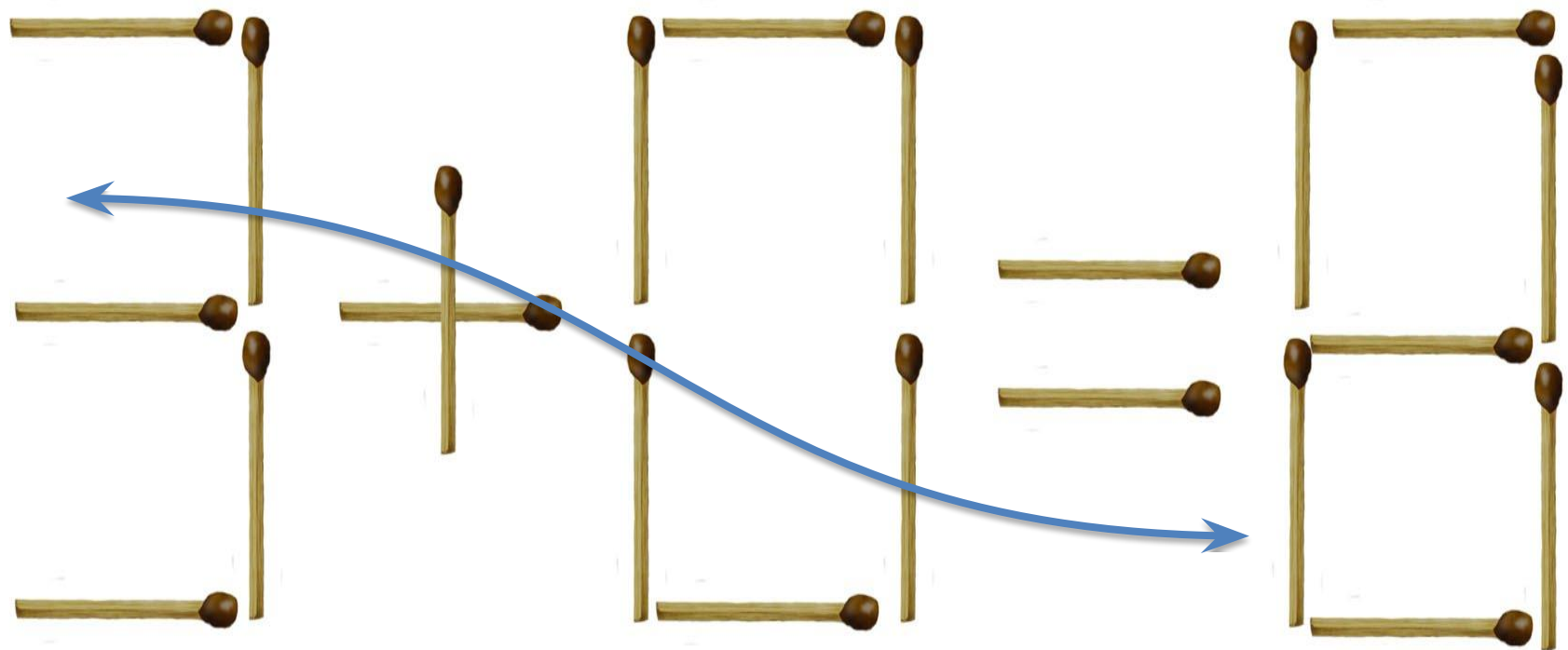
5. Сколько фигур нужно передвинуть, чтобы уравнение получилось правильным?

$$1 + 2 - 51 = 8$$

Ответ: Нисколько, уравнение сделано в зеркальном

$$8 = 12 - 5 + 1$$

6.



7.

4	+	9	+	2	15
+		+		+	
3	+	5	+	7	15
+		+		+	
8	+	1	+	6	15
15	15	15			



8. Вы пилот самолета,
летающего из Лондона в Берлин
с двумя пересадками в Праге.

Как фамилия летчика?

Ваша фамилия

ADME

9. Бизнесмен купил лошадь за 10 долларов,
продал ее за 20 долларов.

Потом он купил ту же самую лошадь
за 30 долларов, а продал за 40.

Каков суммарный доход бизнесмена
от этих двух сделок?

20 долларов

ADME

10. Как найти прошлогодний снег?

Выйти на улицу
сразу после начала
нового года.

11.

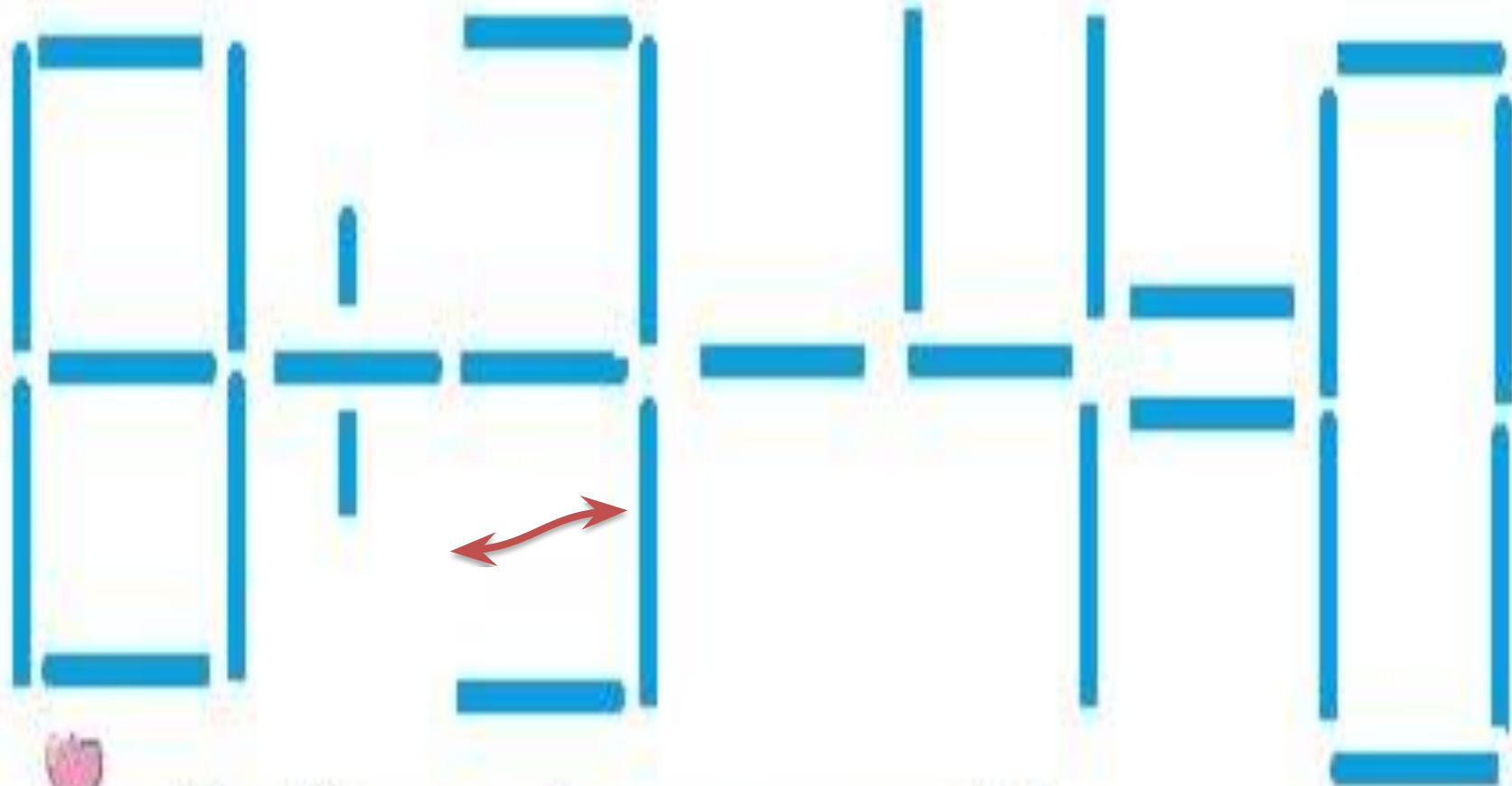
$$\text{Green Circle} + \text{Green Circle} = 10$$

$$\text{Green Circle} \times \text{Yellow Square} + \text{Yellow Square} = 12$$

$$\text{Green Circle} \times \text{Yellow Square} - \text{Red Triangle} \times \text{Green Circle} = \text{Green Circle}$$

$$\text{Red Triangle} = ?$$

12.



Передвинуть одну спичку, чтобы
равенство стало верным

ЗАДАЧА

ПОЛИГЛОТ





**На товаре быть должна
Обязательна ...**

**ЦЕНА
БАҒА
PRICE**



**КОЛЬ ТРУДИЛСЯ КРУГЛЫЙ
ГОД,
БУДЕТ КРУГЛЕНЬКИМ ...**

**ДОХОД
ТАБЫС
INCOME**



**ЖУРЧАТ РУЧЬИ, ПРОМОКЛИ
НОГИ,
ВЕСНОЙ ПОРА ПЛАТИТЬ ...**

**НАЛОГИ
САЛЫК
TAXES**



**В МОРЕ КОВАРНОМ ТОВАРОВ И
ЦЕН
БИЗНЕС-КОРАБЛЬ ВЕДЁТ**

...

**БИЗНЕСМЕН
КӘСІПКЕР
BUSINESSMAN**



**ОН ФИНАНСОВЫЙ ФАКИР,
В БАНК К СЕБЕ ВАС ЖДЁТ ...**

**БАНКИР
БАНКИР
BANKIR**



**ДЕЛА У НАС ПОЙДУТ НА
ЛАД:
МЫ В ЛУЧШИЙ БАНК
ВНЕСЛИ СВОЙ ...**

**ВКЛАД
УЛЕС
CONTRIBUTION**



**ПРИНОСИТЬ ДОХОДЫ
СТАЛ
В БАНКЕ ПАПИН ...**

**КАПИТАЛ
КАПИТАЛ
CAPITAL**



**ЧТОБЫ ДОМ КУПИТЬ Я
СМОГ,
ВЗЯЛ КРЕДИТ, ВНЕСЯ**

...

**ЗАЛОГ
КЕШІЛ
PLEDGE**



**КАК РЕБЁНКА НЕТ БЕЗ
МАМЫ,
СБЫТА НЕТУ БЕЗ**

...

**РЕКЛАМА
ЖАРНАМА
ADVERTSITING**



**ЛЮДИ ХОДЯТ НА
БАЗАР:
ТАМ ДЕШЕВЛЕ ВСЬ**

...

**ТОВАР
ТАУАР
PRODUCT**



**И ВРАЧУ, И АКРОБАТУ
ВЫДАЮТ ЗА ТРУД**

...

**ЗАРПЛАТУ
ЕҢБЕКАҚЫ
SALARY**



**В БАНКЕ ДЛЯ ВСЕХ ВАС
ВИСИТ ПРОКЛАМАЦИЯ:
«ДЕНЬГИ В КУБЫШКАХ
СЪЕДАЕТ ...»**

**ИНФЛЯЦИЯ
ИНФЛЯЦИЯ
INFLATION**



**МЕБЕЛЬ КУПИЛИ,
ОДЕЖДУ, ПОСУДУ.
БРАЛИ ДЛЯ ЭТОГО В
БАНКЕ МЫ ...**

**ССУДУ
ССУДА
LENDING**



**ЧТОБЫ ПАРТНЁРОВ
НЕ МУЧИЛИ СПОРЫ,
ПИШУТ ЮРИСТЫ ДЛЯ
НИХ ...**

**ДОГОВОРЫ
КЕЛІСІМШАРТ
CONTRACT**



**СТАЛ
ВЛАДЕЛЬЦЕМ,
БРАТЦЫ, Я -
ВОТ ЗАВОДА ...**

**АКЦИЯ
АКЦИЯ
STOCK**





Финансовая

Викторица

The image features the Kahoot! logo in a large, white, rounded font. The logo is centered horizontally and spans across a background divided into four quadrants by a vertical and a horizontal line. The top-left quadrant is red, the top-right is blue, the bottom-left is yellow, and the bottom-right is green. Each quadrant contains a faint, stylized map of the world in a lighter shade of the quadrant's color. The text 'Kahoot!' is positioned such that it overlaps the boundaries between the quadrants.

Kahoot!

Сколько этажей в нашем
корпусе?

8



**В каком году был основан
СФЭК?**

В 1931 году



Сколько отделений у нас в колледже?

- 1) Финансисты
- 2) Программисты



Где расположен наш корпус?

Семей қаласы, К.
Мухаметханов 14 көшесі.
Аялдама: Орталық алаң





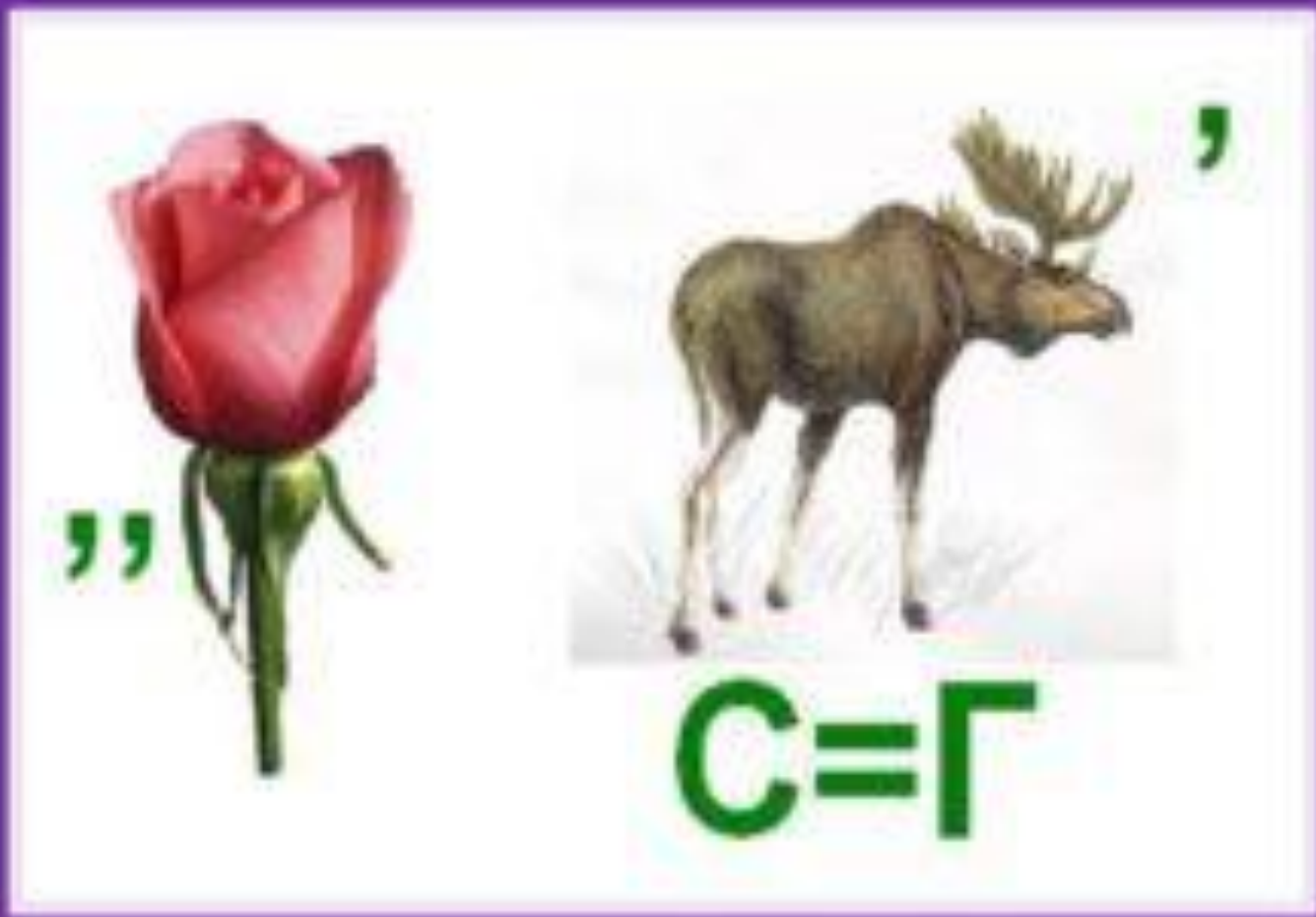
“groza.ru”

НЬ



Деньги





Залог



123



“““



Экспорт





СБЕРБАНК
РОССИИ

Банкрот



**В каком месяце 28
дней?**

**(В каждом месяце
есть 28-е число)**



В 9-этажном доме есть лифт. На первом этаже живут 2 человека, на втором - 4 человека, на третьем - 8 человек, на четвертом - 16, на пятом - 32 и т. д. Какая кнопка в лифте этого дома нажимается чаще других?

(Кнопка первого этажа)



Мельник пошёл на
мельницу и увидел в
каждом углу по 3 кошки.
Сколько ног на мельнице?

$$(3 \times 4 \times 4 + 2 = 50)$$



**Продолжите следующую
последовательность букв :
Я Ф М А М И И А ...**


**Буква «С». Здесь использована
последовательность первых букв в
названии месяцев года, начиная с
января: Январь, Февраль, Март, Апрель,
Май, Июнь, Июль, Август. Следующей
буквой будет «С» – Сентябрь.**





Волк с Уолл-стрит






Билл Гейтс



Бахыт Султанов





Роберт Кийосаки

ҚШАА

АҚША



РУТАА

ТАУАР



ОНИЭМОАКК

ЭКОНОМИКА



ИЕСНЪЕМНЗ

БИЗНЕСМЕН

