

7 "А" сынып

ГЕОМЕТРИЯ



ОҚО, Қазығұрт ауданы

Қарақозы Әбдәлиев атындағы жалпы орта мектеп

Математика пәнінің мұғалімі Ергебеков Ерболат Иманалыұлы

Өткен сабақты қайталау

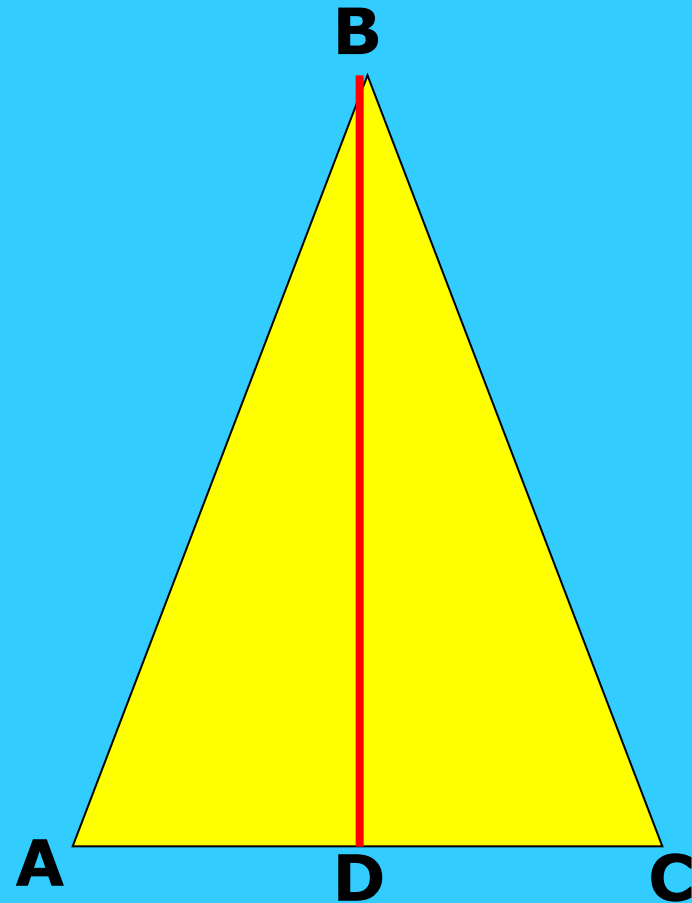
1. Теңбүйірлі үшбұрыш
2. Медиана
3. Биссектриса
4. Биіктік

26.02.2010ж.

Сынып жұмысы Теңбүйірлі үшбұрыштың қасиеттері

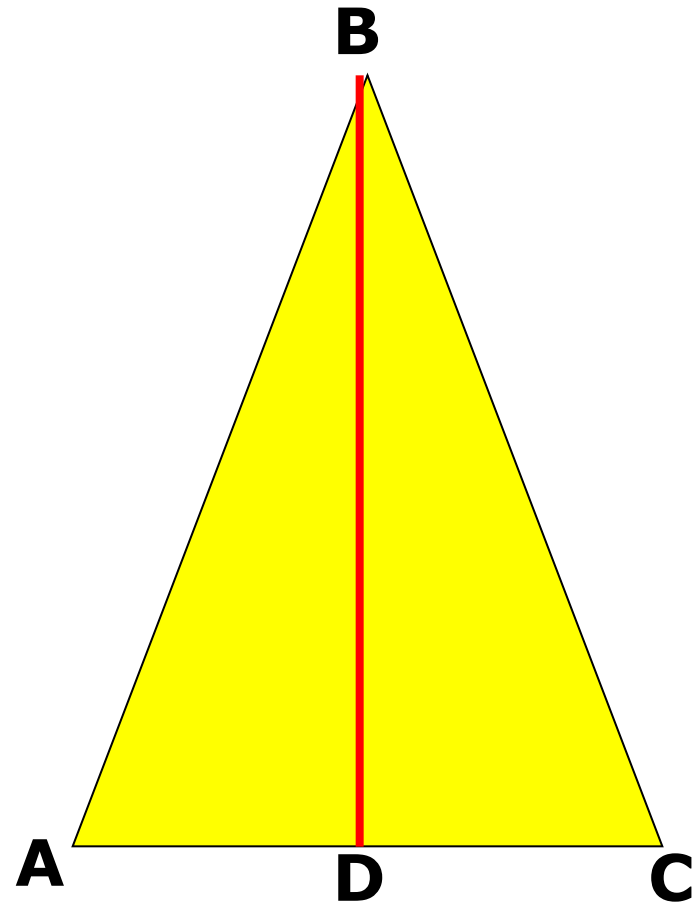
1^o.

2^o.



1-мысал

Теңбүйірлі үшбұрыштың периметрі 20,6 см, ал оның табаны 10 см болса, бүйір қабырғасын тап.



1-есеп

Теңбүйірлі үшбұрыштың периметрі 7,5 см, ал бүйір қабырғасы 2 см-ге тең. Табанының ұзындығын табыңдар.

2-есеп

Теңбүйірлі үшбұрыштың табаны бүйір қабырғасынан 3 м кіші, ал периметрі 15,6 м-ге тең. Үшбұрыштың қабырғаларын табыңдар.

1-есеп ж/бы: 3,5 см

2-есеп ж/бы: 3,2 м, 6,2 м, 6,2 м.

БІЛІМ ТУРАЛЫ ЗАҢ. 15.08.2007ж.

Меншік нышандарына қарамастан барлық білім беру ұйымдары білім алушылардың мемлекеттік тіл ретінде қазақ тілін білуін, сондай-ақ білім берудің тиісті деңгейінің мемлекеттік жалпыға міндетті стандартына сәйкес орыс тілін және шет тілдерін оқып-үйренуін қамтамасыз етуі тиіс.

Функция

Функция

Function

Жауап

Ответ

Answer

Есеп

Задач

Sum

Шығару

Решение

Solution

Түзу

Прямая

Line

Теңдеу

Уравнение

Eguation

Теңсіздік

Неравенств

Jneguality

Бұрыш

Угол

Angle

Үшбұрыш

Треугольник

Triangle

1

Теңбүйірлі үшбұрыштың периметрі 7,5 см,
ал бүйір қабырғасы 2 см.

Табанының ұзындығын табыңыз

2

Теңбүйірлі үшбұрыштың периметрі 1 м-ге тең,
табаны 0,4 м.

Бүйір қабырғасының ұзындығын табыңыз

3

Теңбүйірлі үшбұрыштың бүйір қабырғасы
3,5 см, ал оның периметрі 10 см.

Үшбұрыштың табанын табыңыз.


1-есеп жауабы: 3,5 см.

2-есеп жауабы: 0,3 м.


3-есеп жауабы: 4 см, 4 см, 2 см.

Мына фигураларда қанша үшбұрыш бар.


I-топ



II-топ



III-топ



“Білімнің басы-бейнет, соңы-зейнет”

Үй жұмысы:

Ескі кітап № 44, 46 (65 бет)

Жаңа кітап № 180, 181 (62 бет)