

«Своя игра»

Заключительный урок
по математике в I четверти.

8 класс

Автор: учитель математики
ГОУ Коми Республика
«Специальная (коррекционная)
школа-интернат №10» г.ст.Аджером
Казакова В.Е.



СВОЯ Игра

$$f(x) = m \left(\frac{m}{2\pi x} \right)^{1/2} e^{-m/x}$$
$$f = \frac{1}{S} = \frac{1}{\pi r^2}$$
$$p = \sum m$$
$$F = \frac{1}{2} (1 + \frac{m}{x})$$
$$V = \frac{4}{3} \pi r^3$$
$$\frac{dV}{dt} = 4\pi r^2 \frac{dr}{dt}$$
$$\frac{dV}{V} = 3 \frac{dr}{r}$$
$$\ln V = 3 \ln r + C$$
$$V = e^C r^3 = k r^3$$

СВЕЯ

Игра

Виды углов	<u>1</u>	<u>2</u>	<u>3</u>	<u>4</u>	<u>5</u>
Без смекалки никуда!	<u>1</u>	<u>2</u>	<u>3</u>	<u>4</u>	<u>5</u>
Дроби	<u>1</u>	<u>2</u>	<u>3</u>	<u>4</u>	<u>5</u>
Загадки с числами	<u>1</u>	<u>2</u>	<u>3</u>	<u>4</u>	<u>5</u>
Веселые задачи	<u>1</u>	<u>2</u>	<u>3</u>	<u>4</u>	<u>5</u>


ВЫХОД

Виды углов

1

Сколько градусов

в прямом угле?



ОТВЕТ



90°

назад

ВЫХОД

Виды углов

2

Величина полного угла.



ОТВЕТ

360°



НАЗАД

ВЫХОД

Виды углов


3

УГЛЫ от 1° до 89° — ЭТО...



ОТВЕТ

Острые углы




[НАЗАД](#)

[ВЫХОД](#)

Виды углов

4

Величина тупых углов



ОТВЕТ

От 91° до 179°

НАЗАД

ВЫХОД

Виды углов


5

Как называется угол
равный 180° ?



ОТВЕТ

Развёрнутый угол




БЕЗ СМЕКАЛКИ НИКУДА!

1

Заяц вытащил 17 морковок
и съел все, кроме шести.

Сколько морковок
у Зайца осталось?



ОТВЕТ



6

НАЗАД

ВЫХОД

БЕЗ СМЕКАЛКИ НИКУДА!

2

Самолет летит
от Москвы до Сыктывкара
за 1,5 часа, а обратно 90 минут.
Почему такая разница?



ОТВЕТ

Разницы нет

1 час = 60 минут

0,5 часа = 30 минут

1,5 часа = 90 минут

НАЗАД


ВЫХОД

БЕЗ СМЕКАЛКИ НИКУДА!

3

Тройка лошадей бежит 30 км/ч.

С какой скоростью бежит
каждая лошадь?



ОТВЕТ



30 км/ч

[НАЗАД](#)

[ВЫХОД](#)

БЕЗ СМЕКАЛКИ НИКУДА!

4

На складе было 5 ёмкостей с горючим по 6 тонн в каждой. Из 2 ёмкостей горючее перелили. Сколько ёмкостей осталось?



ОТВЕТ

5


НАЗАД

ВЫХОД

БЕЗ СМЕКАЛКИ НИКУДА!

5

У женщины была путевка
в дом отдыха со 2 января
по 17 января включительно.
Сколько дней она отдыхала ?



ОТВЕТ

16 дней

[НАЗАД](#)

[ВЫХОД](#)

Дроби

1

Как называется дробь?

15,703

ОТВЕТ

Десятичная дробь


[НАЗАД](#)

[ВЫХОД](#)

Дроби

2

Как называется дробь?



2
15

ОТВЕТ

Обыкновенная дробь

[НАЗАД](#)

[ВЫХОД](#)

Дроби

3

Основные правила при сложении
десятичных дробей.



ОТВЕТ

-Запятая...

-Не хватает...

НАЗАД

ВЫХОД

Дроби

4

Как проверить действие деление?



ОТВЕТ

- По точкам...
- Количество цифр...
- Обратным ...

НАЗАД

ВЫХОД

Дроби

5

Поставь знаки сравнения.

< = >

102,23 ... 102,230

10223 ... 102230

102 ... 9,999



ОТВЕТ

$$102,23 = 102,230$$

$$10223 < 102230$$

$$102 > 9,999$$

[НАЗАД](#)

[ВЫХОД](#)

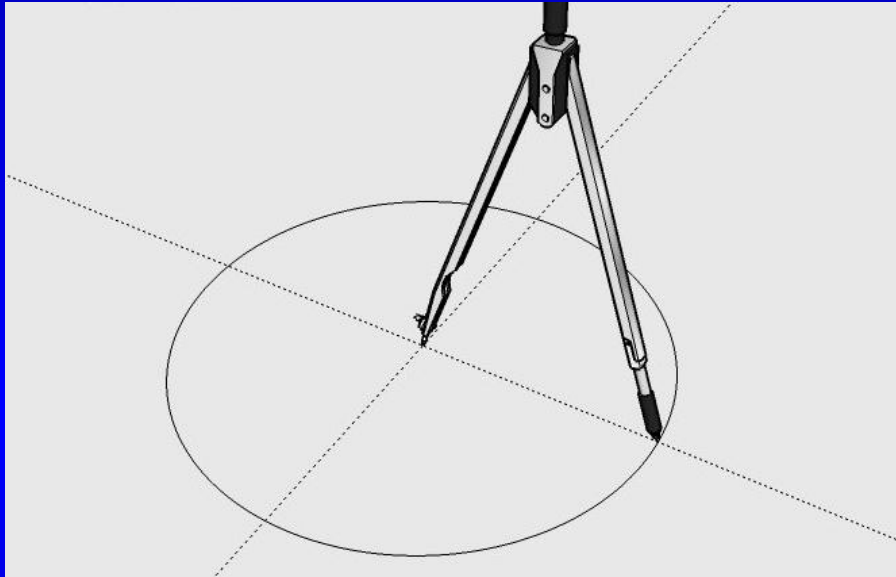
ЗАГАДКИ

1

Сговорились две ноги
Делать дуги и круги.



ОТВЕТ



Циркуль


[НАЗАД](#)

[ВЫХОД](#)


ЗАГАДКИ

2

Восемь ног, как восемь рук,
Вышивают шёлком круг.
Мастер в шёлке знает толк.
Покупайте, ... мухи, шёлк!



ОТВЕТ



ПАУК

[НАЗАД](#)

[ВЫХОД](#)

ЗАГАДКИ

3

По десятку на шесточке
Сели умные кружочки
И считают громко вслух,
Только слышно: стук, да стук!



ОТВЕТ



СЧЕТЫ

[НАЗАД](#)

[ВЫХОД](#)

ЗАГАДКИ

4

Треугольная доска,
А на ней – три волоска.
Волосок тонкий,
Голосок звонкий.



ОТВЕТ



Балалайка

[НАЗАД](#)

[ВЫХОД](#)

ЗАГАДКИ

5

Входишь в одну дверь,


А выходишь из трех.

Думаешь, что вышел,

А на самом деле – вошёл.



ОТВЕТ



НАЗАД


Рубашка, футболка...

ВЫХОД

ВЕСЕЛЫЕ ЗАДАЧИ


1

Когда гусь стоит на двух ногах, то весит 4 кг. Сколько будет весить гусь, когда встанет на одну ногу?



ОТВЕТ

4 КГ



НАЗАД

ВЫХОД

ВЕСЕЛЫЕ ЗАДАЧИ

2

Шла бабушка в Москву, а навстречу ей 3 старика, 2 бабушки, 1 мальчик и 4 девочки.

Сколько человек шло в Москву?



ОТВЕТ

1 человек
(бабушка)

[НАЗАД](#)

[ВЫХОД](#)

ВЕСЕЛЫЕ ЗАДАЧИ

3

На двух руках 10 пальцев.
Сколько пальцев на 10 руках?



ОТВЕТ



50 пальцев

[НАЗАД](#)

[ВЫХОД](#)

ВЕСЕЛЫЕ ЗАДАЧИ

4

Ученики 4 «А» класса побывали в кабинете зубного врача, и им вырвали 12 молочных зубов. После этого в кабинете зубного врача побывали ученики 4 «Г» класса, и им вырвали на 4 молочных зуба больше. Сколько молочных зубов оставили дети из двух классов у врача, если известно, что один ученик унес свой вырванный зуб домой?



ОТВЕТ



27 зубов

[НАЗАД](#)

[ВЫХОД](#)

ВЕСЕЛЫЕ ЗАДАЧИ

5

Собираясь на работу, папа положил в свой портфель бумаги, массой 2 кг 700 г. Масса портфеля 300 г.

Сколько килограммов принесет папа на работу, если его двухлетняя дочка Маша положила в портфель еще и утюг, масса которого 3 кг?





ОТВЕТ

6 КГ



2 кг 700 г



3 кг



300 г

НАЗАД

ВЫХОД



Спасибо Вам
за участие
в игре!

Надеюсь,
что Вам понравилось!