
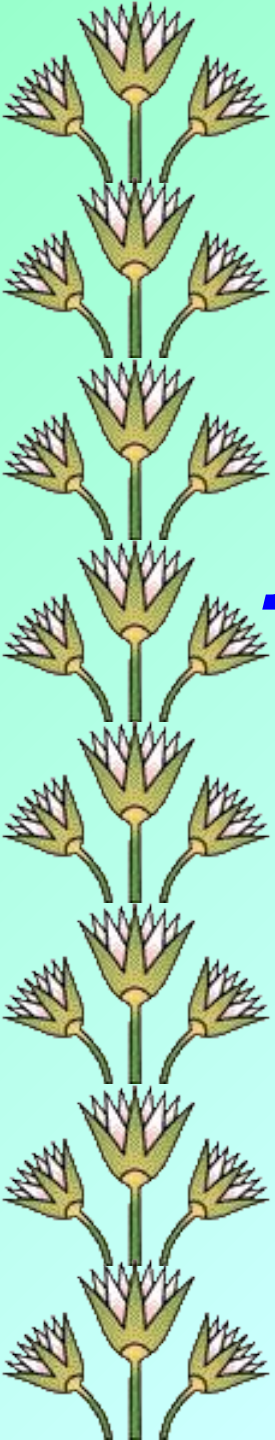


	1	К	А	М	Е	Н	Ь			
2	Р	Е	Л	И	Г	И	Я			
	3	Р	У	Б	И	Л	О			
				4	П	Л	Е	М	Я	
			5	Р	Е	М	Е	С	Л	О
6	О	Х	О	Т	А					



Государство на берегах Нила




Египет – страна, расположенная на северо-востоке Африки





Нил




Лотос



Финиковые пальмы



Папирус



Акация

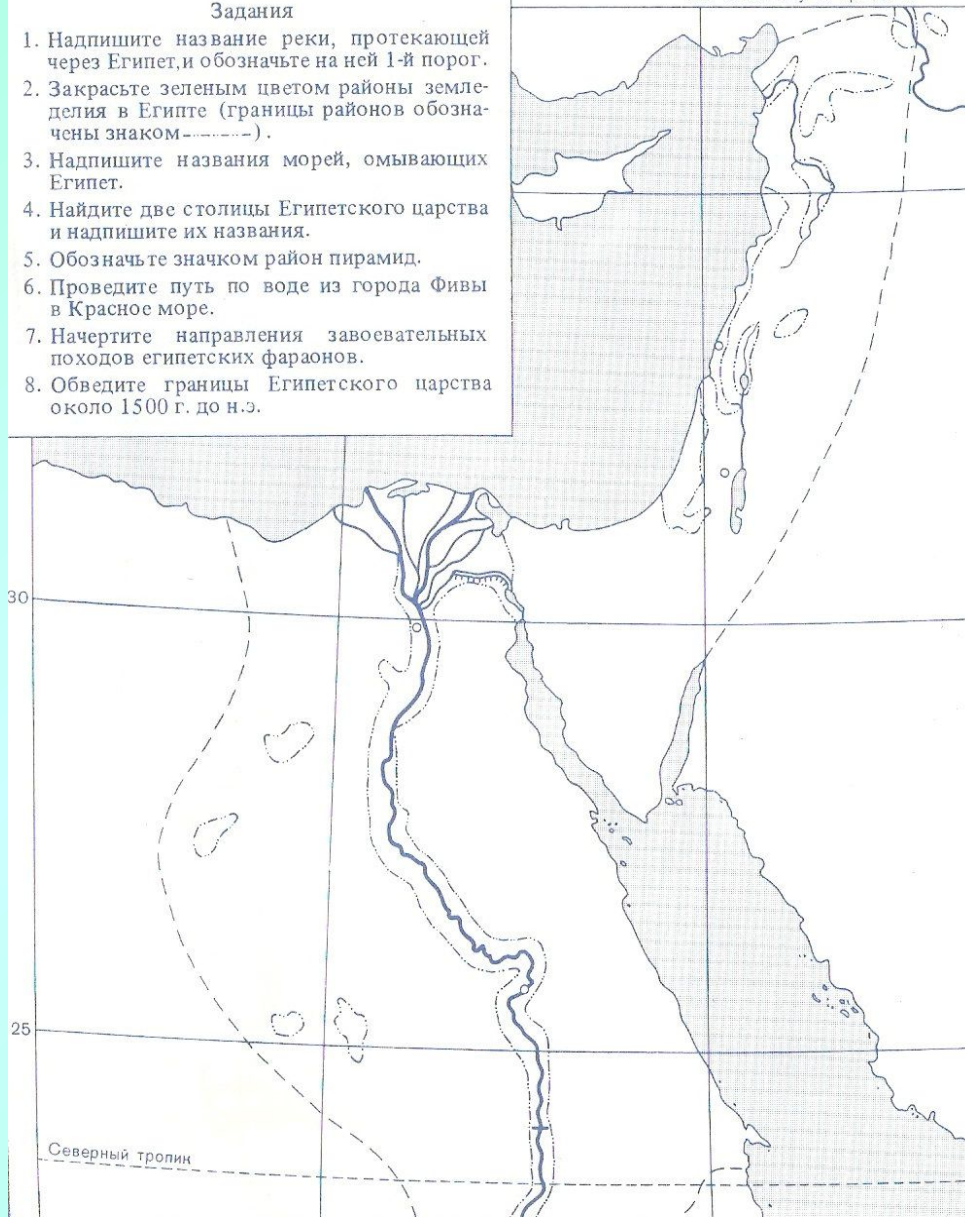


Контурная карта Древнего Египта

Задания

1. Надпишите название реки, протекающей через Египет, и обозначьте на ней 1-й порог.
2. Закрасьте зеленым цветом районы земледелия в Египте (границы районов обозначены знаком-----).
3. Надпишите названия морей, омывающих Египет.
4. Найдите две столицы Египетского царства и надпишите их названия.
5. Обозначьте значком район пирамид.
6. Проведите путь по воде из города Фивы в Красное море.
7. Начертите направления завоевательных походов египетских фараонов.
8. Обведите границы Египетского царства около 1500 г. до н.э.

35 к востоку от Гринвича






? Что означают слова из хвалебной песни египтян Нилу: «Все живут благодаря ему»?



- объединение;
- белая корона и красная корона;
- Мемфис;
- 40 государств;
- 3000 г. до н.э.;
- Северный и Южный Египет.



40 государств → **Северный и Южный Египет** → **Белая корона и красная корона** → **3000 г. до н.э.** → **объединение** → **Мемфис**



Спасибо!