

УМК «Начальная школа XXI века» МКОУ КНОШ №3 , р.п.Каргаполье.

Бородина Н.А.

( 2018 год, 3 четверть, февраль)

# Прибавление числа 4

## Работа по учебнику стр. 61

16.  Сравни устно значения длины.

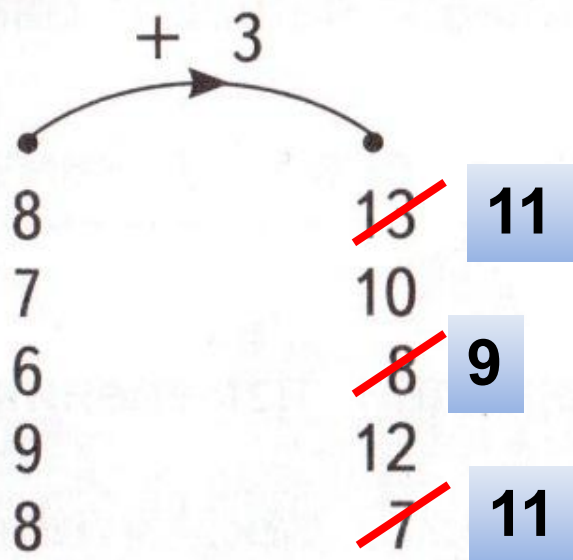
5 дм 7 см  $\ll$  6 дм

13 см  $\neq$  1 дм 3 см

12 см  $\ll$  16 см

1 дм 4 см  $\ll$  15 см

17. Что делает «машина»? Найди и исправь ошибки.



# Работа в тетради стр. 41

7. Запиши ответы.

$3 + 4 = \boxed{7}$

$9 + 4 = \boxed{13}$

$6 + 4 = \boxed{10}$

$4 + 4 = \boxed{8}$

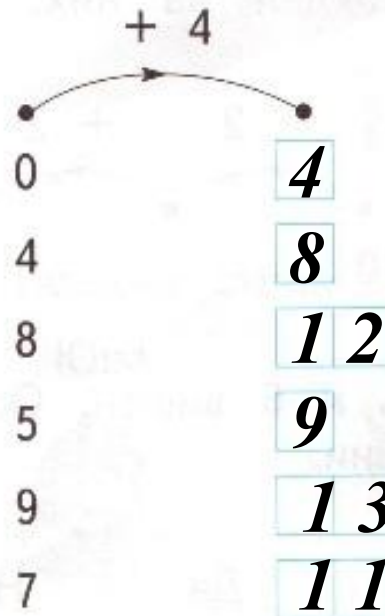
$8 + 4 = \boxed{12}$

$1 + 4 = \boxed{5}$

$5 + 4 = \boxed{9}$

$7 + 4 = \boxed{11}$

8. Запиши результаты работы «машины».



# Работа в тетради стр. 40

5. В классе было 3 девочки и 2 мальчика. Вошли ещё 4 девочки и столько же мальчиков.

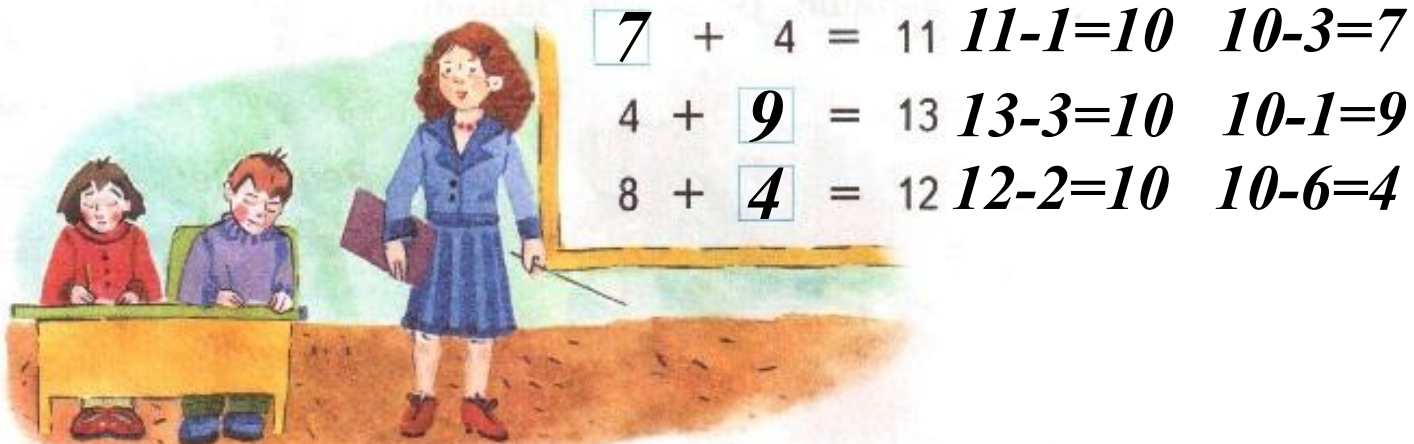
Сколько стало в классе девочек?

$$3 + 4 = 7 \text{ (дев.)}$$

Сколько стало мальчиков?

$$2 + 4 = 6 \text{ (мал.)}$$

6. \* Угадай числа и впиши их в «окошки».



## Работа в тетради стр. 42

12.  В саду посадили 10 яблонь и 6 вишен. Осталось посадить 2 яблони и 3 вишни.  
Верны ли высказывания?

Яблонь посадили больше, чем вишен.

Да  Нет

Осталось посадить 6 деревьев.

Да  Нет

Для посадки привезли 12 яблонь.


Да  Нет

Вишен привезли меньше, чем яблонь.


Да  Нет

# Работа в тетради стр. 43


14. Выполни измерения и запиши результаты.



3 CM



7 CM



4 CM

# Задание для самоподготовки в тетради стр. 43

15.

Покажи стрелками, кто кем хочет стать.

Юра



Вова



Коля



Женя



Моряк

Космонавт

Танкист

Солдат



**На уроке используется материал  
учебных пособий УМК «Начальная школа XXI века»**

**В.Н. Рудницкая Математика, 1 класс, учебник для учащихся  
общеобразовательных учреждений в 2 ч. Москва Издательский Центр  
«Вентана – Граф», 2015 г. ; часть вторая стр. 60-61.**

**Печатная тетрадь Н.В. Рудницкая «Математика.1 класс. № 3»,  
Издание: 4-е изд., перераб. - М.: Вентана - Граф, 2015; с. 40-42**