


Добрая дорога!

Знаком правил дорожного
движения




1

отборочны
й тур

Далее>>

Расставьте по порядку ваши действия при переходе через дорогу



А посмотри направо

В дойди до середины

Б переходи дорогу дальше

Г посмотри налево

1

Г посмотри
налево

2

В дойди до
середины

3

А посмотри
направо

4

Б переходи
дорогу
дальше

2

отборочны
й тур

[Далее>>](#)

Расположи транспортные средства по мере увеличения тормозного пути



А велосипед

В грузовик

Б легковой автомобиль

Г мотоцикл

1

А
велосипед

2

Г мотоцикл

3

Б легкой
автомобиль

4

В грузовик

3

отборочны й тур

[Далее>>](#)

Расставьте дорожные знаки в следующем порядке:

1. запрещающие;
2. предупреждающие;
3. информационные;
4. предписывающие

А



В



Б



Г



1

Г



2

А



3

Б



4

В



И ТУР

[Далее>>](#)

Вопрос 1

Когда на светофоре горит
красный свет надо:



А не
обращать
внимание

В
приготовиться

Б
остановиться

Г идти

Вопрос 2

Когда на светофоре горит жёлтый свет надо:



А не обращать внимание

В приготовиться

Б остановиться

Г идти

Вопрос 3

Когда на светофоре горит
зелёный свет надо:



А
остановиться

В не обращать
внимание

Б идти

Г
приготовиться

Вопрос 4

Какой сигнал светофора загорается со всех сторон перекрёстка?



А красный

В не знаю

Б зелёный

Г жёлтый

Вопрос 5

Светофор регулирует движение:



А пешеходов

В транспорта

Б транспорта
и пешеходов

Г птиц

Вопрос 6

Что означает сочетание красного и жёлтого сигнала светофора?



А вскоре будет включен зелёный сигнал


В вскоре будет включен красный сигнал

Б светофор неисправен

Г вскоре будет включен жёлтый сигнал

Вопрос 7

Какое значение имеет сигнал свистком, подаваемый регулировщиком?



А вы должны немедленно остановиться

В вы должны ускорить движение

Б привлечение внимания участников движения

Вопрос 8

Кто является участником дорожного движения?



А автобусы,
трамваи,
велосипедисты

В водители,
пешеходы,
пассажиры

Б троллейбусы,
самолёты, поезда

Г кондуктора,
стюардесса,
водитель такси

Вопрос 9

Шагаешь – впереди лежит,
Оглянешься – домой бежит



А машина

В пешеход

Б собака

Г дорога

Вопрос 10

Выбери правильное название этого дорожного знака



А беговая дорожка

В осторожно дети

Б дети

Г пешеходный переход

Вопрос 11

Выбери правильное название этого дорожного знака



А дорога для пешеходов

В пешеходный переход

Б осторожно пешеход

Г пешеходное движение запрещено

Вопрос 12

Что такое? Отгадай!

Не автобус, не трамвай,

Не нуждается в бензине,

хоть колеса на резине

А автомобиль

В автобус

Б мотоцикл

Г
троллейбус

Вопрос 13

Как вы будете после выхода из салона автобуса обходить его?

А спереди

В сзади

Б дождусь
пока уедет

Г как
придётся

Вопрос 14

Что следует сделать пешеходу, который при переключении светофора на жёлтый сигнал не успел дойти до середины дороги?

А перебежать улицу

В поступить так же, как и другие пешеходы

Б дойти до «островка безопасности»

Г вернуться назад на тротуар

Вопрос 15

Для кого обязательны и должны выполняться Правила дорожного движения?

А водителей любых транспортных средств, пешеходов, погонщиков животных

Б водители легковых транспортных средств

В водителей любых транспортных средств и пешеходов

Г водители грузовых транспортных средств

ИИ

ТУР



Далее>>

Вопрос 1

Бегу при помощи двух ног
Пока сидит на мне ездок
Мои рога в его руках,
И быстрота в его – ногах.

А велосипед

В мопед

Б олень

Г скутер

Вопрос 2

Движение велосипеда запрещается при неисправности

А педалей

В колёс

Б тормозной системы

Г звонка

Вопрос 3

Как велосипедисту предупредить других участников движения о торможении?

А поднять
вверх правую
руку

В оба
варианта

Б поднять
вверх левую
руку

Вопрос 4

Что означает этот сигнал велосипедиста?



А левый поворот

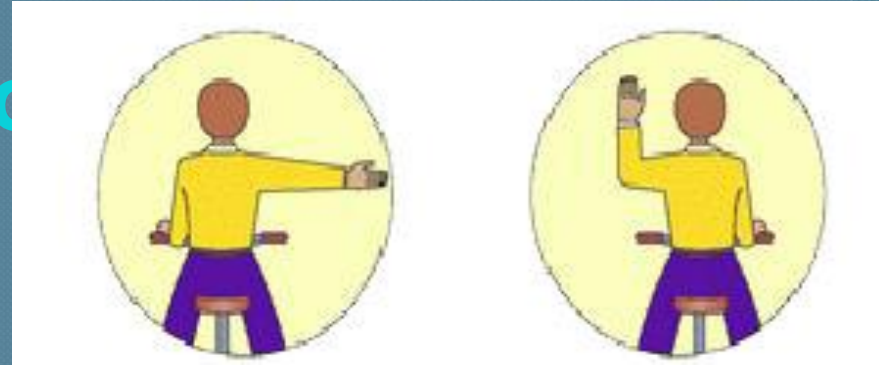
Б правый поворот

В правый поворот или разворот

Г левый поворот или разворот

Вопрос 5

Что означает этот сигнал велосипедиста?



А правый поворот или разворот

В левый поворот и разворот

Б правый поворот

Г левый поворот

Вопрос 6

С какого возраста можно ездить на велосипедах по дорогам?



А 14 лет

В 16 лет

Б 12 лет

Г 18 лет

Вопрос 7

С какого возраста можно ездить на скутерах по дорогам



А 12 лет

В 14 лет

Б 16 лет

Г 18 лет

Вопрос 8

Кто может быть пассажиром велосипеда?



А ребёнок старше 7 лет

В только взрослые

Б возраст не имеет значения

Г ребёнок не старше 7 лет

Вопрос 9 Какой дорожный знак называется «велосипедная дорожка»?



А на правом

В на обоих

Б на левом

Г по центру

Вопрос 10

По какой полосе должны двигаться велосипедисты?

А по крайней правой полосе в один ряд возможно правее

В по крайней левой полосе

Б по крайней правой полосе

Г безразлично, если нет транспорта

Вопрос 11

Где можно кататься детям на велосипедах в возрасте до 14 лет?

А двор

В обочина

Б тротуар

Г
пешеходная
дорожка

Молодцы!



ООШ № 19
Быстрова Т.А.