



**Форма предметов
окружающего мира
(треугольник, круг, квадрат).
(занятие по ПДД)**


Автор: Гавронова Н.В.,
учитель начальных классов

$4+15=19$



Загадка

Три вершины тут видны,
Три угла, три стороны, -
Ну, пожалуй, и довольно! -
Что ты видишь?



$5+9=16$




$4+15=19$



Загадка

Нет углов у меня,
И похож на блюдце я,
На тарелку и на крышку,
На кольцо, на колесо.
Кто же я такой, друзья?



$5+9=16$




$4+15=19$



Загадка

Не овал я и не круг,
Треугольнику я друг,
Прямоугольнику я брат,
Ведь зовут меня...



$5+9=16$





Назови фигуры

