

# Интеллектуальная игра

УМНИКИ  
И  
УМНИЦЫ

Подготовила  
Учитель 1 «Б» класса  
Мокренская С.А.  
2016г.

# Цели и задачи

Развитие творческих способностей,  
логического мышления детей;

Повышение интеллектуального и  
культурного уровня, расширение кругозора  
учеников;

Повышение интереса к учебно-  
познавательной деятельности, стимула;

Воспитание чувства товарищества,  
взаимоуважения; толерантного отношения  
друг к другу;

Формирование умения работать в группе, в  
команде, сотрудничать.



# Правила игры

В игре принимают участие 2 команды: «Умники» и «Умницы»


Вопросы командам будут задаваться по очереди.

За каждый правильный ответ команда получит 1 балл

Конкурс состоит из разминки и 3 этапов

Оценивать конкурс будет почетное жюри





**- Колокольчик не  
простой  
- Звонкий он и  
озорной.  
Коль в него мы  
позвоним-  
дверь в мир  
знаний отворим**



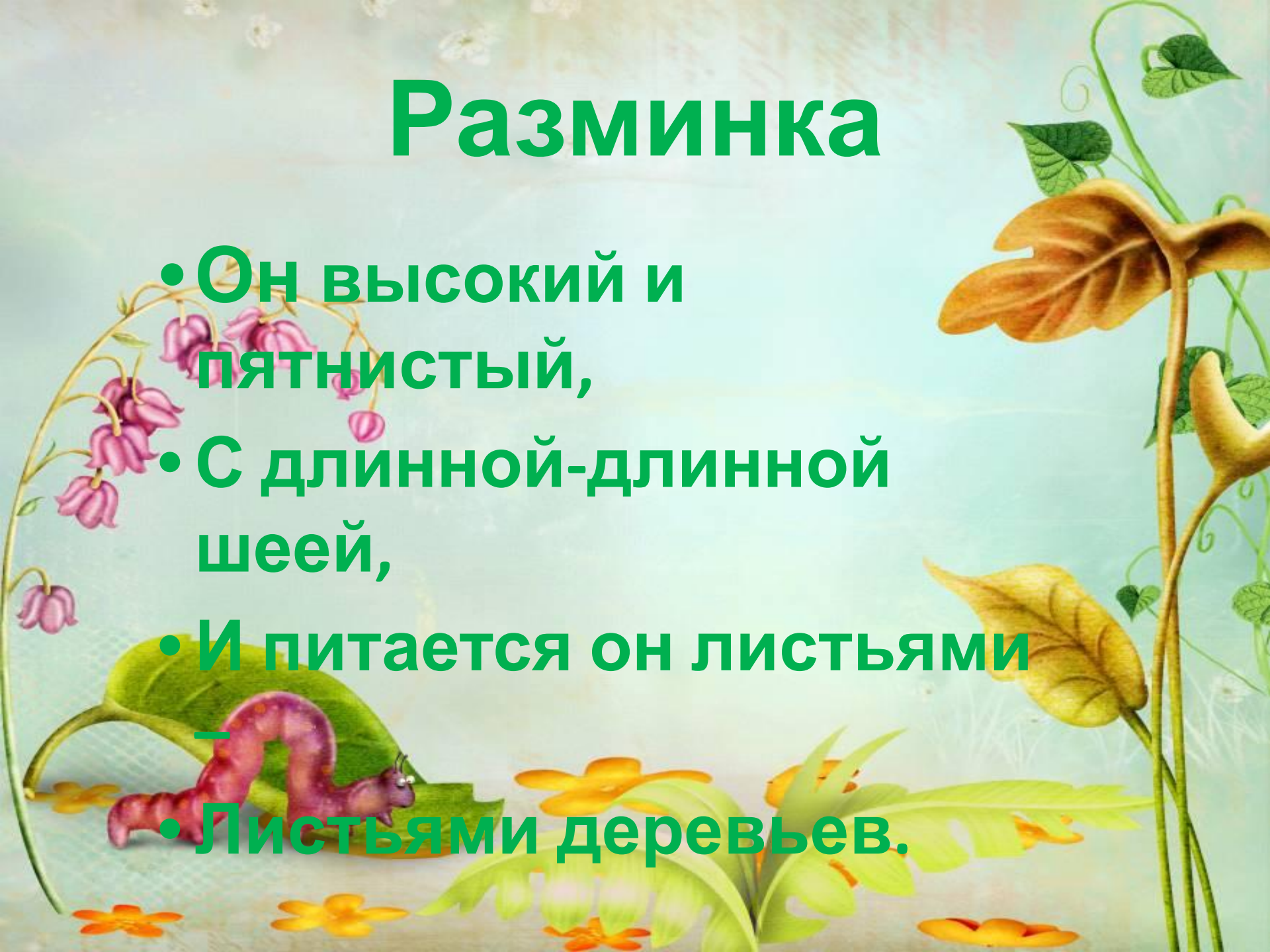





# Викторина «Знатоки природы»

# Разминка

- Он высокий и пятнистый,
- С длинной-длинной шеей,
- И питается он листьями —
- Листьями деревьев.





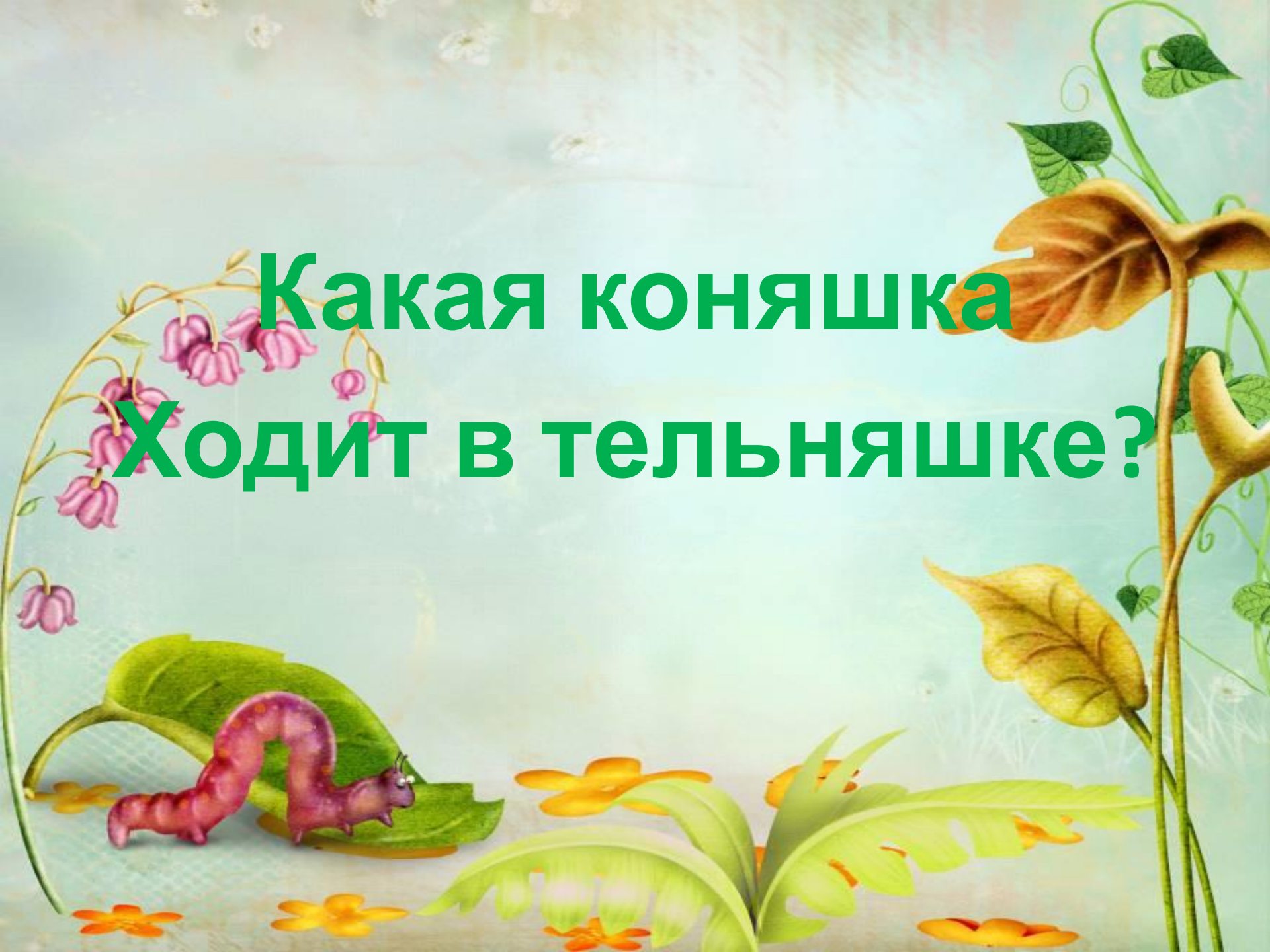


**Что за чудо!  
Вот так чудо!  
Сверху блюдо,  
снизу блюдо.  
Ходит чудо по  
дороге,  
Голова торчит да  
НОГИ**





**Какая коняшка  
Ходит в тельняшке?**





**Вопрос 1 команде**

**Рос шар бел,  
ветер дунул -  
шар улетел**

**Ответ**



## Вопрос 2 команде

Меня пьют, меня  
льют, всем я  
нужна. Кто я  
такая?



**Ответ**



# Задание для 1 команды



Shared

# Задание для 2 команды




# Задание для 1 команды



# Задание для 2 команды





Сказочная  
викторина

# Разминка «Знаете ли вы сказку?»



**Вопрос для 1  
команды**

Укатился он из дома  
По дороге незнакомой...

Ты узнал его, дружок?

Это самый  
непослушный,

Говорливый  
простодушный

И румяный ...







# Вопрос для 2 команды

- Она по полю пошла,
- В поле денежку нашла!
- Самовар себе купила
- И гостей чайком поила.





# Вопрос для 1

## КОМАНДЫ

- Лечит всех зверей подряд,
- Лечит взрослых и ребят,
- К вам спешит, когда болит,
- **Добрый доктор ....**





# Вопрос для 2 команды

- С пятачком он ходит в гости,
- Любит мед, варенье просит...
- Это кто, скажите вслух:
- Медвежонок...







# Вопрос для 1 команды

- Такое лишь в сказке волшебной случается:
- Карета из тыквы большой получается!
- В чудесном наряде, легка, словно перышко,
- Со сказочным принцем знакомится.....





# Вопрос для 2 команды

- Деревянным острым носом
- Всюду лезет он без спросу:
- Даже дырку на картине
- Носом сделал ...






# Блиц-турнир

- Кому мама дала пирожки и горшочек масла?
- Аппарат, на котором Баба Яга совершает полет
- Что потеряла золушка?
- Почтальон деревни Простоквашино?





# Математическая викторина

*«ВЕСЁЛАЯ МАТЕМАТИКА»*


**Здесь вам нужно  
постараться  
быть серьезным,  
не играть  
размышлять и  
рассуждать**

**Все задания отгадать**

# Разминка




1. Если стол выше стула, то стул...
2. Если река глубже ручейка, то ручеёк...
3. Если 2 больше 1, то 1...
4. Если сестра старше брата, то брат...
5. Если правая рука справа, то левая...
6. Если Саша вышел из дома раньше Серёжи, то Серёжа...







# Задачи для 1 команды




1. Пять ворон на крышу сели,  
Две ещё к ним прилетели,  
Отвечайте быстро, смело:  
Сколько всех их прилетело?

2. Шесть весёлых медвежат  
За малиной в лес спешат  
Но один медведь устал,  
От товарищей отстал  
А теперь ответ найди:  
Сколько мишек впереди?





# Задачи для 2 команды



1. У белки в дупле  
5 орешков в мешке,  
Ещё три на полке  
Посчитай – ка их сколько?

2. Вот грибочки на лужочке  
В жёлтых шапочках стоят:  
Два грибочка, три грибочка  
Сколько всего будет?





# Прочитай ребусы



7Я

ЗКО

СЗЖ

О5

ПО2Л


Збуна





**Совы — мастера маскировки. Назови все геометрические фигуры, в которых спрятались совы.**

**Какие геометрические фигуры нарисовал карандаш?**



**Спасибо за игру!  
Подведем итоги.**



B

C

A



Дата \_\_\_\_\_

**С-8 №2**

Сравни.

$2 \square 6$

$7 \square 1$

$4 + 2 \square 7$

$7 \square 8$

$8 \square 9$

$3 \square 6 - 3$

$4 \square 3$

$9 \square 10$

$8 \square 5 + 5$

$5 \square 10$

$5 \square 5$

$10 - 4 \square 7$

$6 \square 6$

$2 \square 6$

$9 - 5 \square 6$

Пометка учителя

34



Дата \_\_\_\_\_

**С-8 №3**

Сравни.

$5 + 1 \square 4 - 2$

$9 - 6 \square 10 - 4$

$10 - 5 \square 8 + 2$

$4 + 4 \square 2 + 6$

$3 + 4 \square 2 + 5$

$3 + 7 \square 10 - 0$

$8 - 3 \square 4 + 6$

$2 + 8 \square 10 - 6$

$10 - 5 \square 8 - 6$

$9 - 3 \square 8 + 2$

Пометка учителя

35

