


ОЙНАЙЫҚ, ТА ОЙЛАЙЫҚ

A decorative graphic consisting of several parallel white lines of varying thicknesses, slanted diagonally from the bottom-left towards the top-right, crossing the text.

Логикалық есептер	<u>10</u>	<u>20</u>	<u>30</u>	<u>40</u>	<u>50</u>
Математикалық жұмбақтар	<u>10</u>	<u>20</u>	<u>30</u>	<u>40</u>	<u>50</u>
Әртүрлі	<u>10</u>	<u>20</u>	<u>30</u>	<u>40</u>	<u>50</u>
Ең, ең, ең ...	<u>10</u>	<u>20</u>	<u>30</u>	<u>40</u>	<u>50</u>

10. ЛОГИКАЛЫҚ ЕСЕПТЕР


1 ма		3 атик		10 бар				7 іне		5 дің
	4 тер		2 тем		13 му		11 ол		8 тән	
6 өз		12 фор				9 тілі		14 ла		




20. ЛОГИКАЛЫҚ ЕСЕПТЕР

Менің атым Медет. Менің тәтемнің бір ғана інісі бар.
Менің тәтемнің інісінің аты кім?

Жауабы: Медет




30. ЛОГИКАЛЫҚ ЕСЕПТЕР




40. ЛОГИКАЛЫҚ ЕСЕПТЕР

Автобус ауылға жүріп келе жатыр. Ол қарама-қарсы бағытта келе жатқан 3 автокөлікті көрді. Ауылға неше көлік бара жатыр?

Жауап: 1




50. ЛОГИКАЛЫҚ ЕСЕПТЕР



10. ӘРТҮРЛІ

Жабық көзбен нені көруге болады?

Түсті



20. ӘРТҮРЛІ







**ФУТБОЛКАДА
ҚАНША
ТЕСІК?**



30. ӘРТҮРЛІ


**АЛ СІЗ НЕШЕ ЖАНУАРДЫ
КӨРІП ТҰРСЫЗ?**



40. ӘРТҮРЛІ

Бақшаға жақсы аға, көп-көп ойыншық келді алып. Бір балық, екі есек, үш үйрек, төрт түлкі, бес бүркіт, алты арғымақ, жеті жарғанат, сегіз саулық, тоғыз тауық, он торпақ. Бақшаға жақсы аға қанша ойыншық әкелді?

(55)




50. ӘРТҮРЛІ


Ақ киімді, денелі, ақ сақалды,
Соқыр, мылқау танымас тірі жанды,
Үсті-басы ақ қырау, түсі суық,
Басқан жері сықырлап келіп қалды.

Кімнің өлеңі? Неше шумақ, неше тармақ, неше бунақ, неше буын,
неше ұйқасы бар?


(Жауабы: 1 шумақ, 4 тармақ, 3 бунақ, 11 буын, қара өлең ұйқасы а.а.б.а)



10. ЕҢ, ЕҢ, ЕҢ ...








20. ЕҢ, ЕҢ, ЕҢ ...

Әлемдегі ең суық жер


Антарктида (83°C)



30. ЕҢ, ЕҢ, ЕҢ ...

Ең үлкен екі таңбалы сан


(99)




40. ЕҢ, ЕҢ, ЕҢ ...

Ең алғашқы координаттар жүйесін енгізген кім?


(Декарт)



50. EH₁, EH₂, EH₃ ...




10. МАТЕМАТИКАЛЫҚ ЖҰМБАҚТАР



20. МАТЕМАТИКАЛЫҚ ЖҰМБАҚТАР

Бір-бірімен жарысқан,
Төрт аю, бір арыстан.
Екі қой мен бір түлкі,
Бәрі нешеу кім білді.


(8)



30. МАТЕМАТИКАЛЫҚ ЖҰМБАҚТАР

Бір ағаштың он екі бұтағы бар,
Әр бұтағында отыздан жапырағы бар.
Жапырақтарының бір жағы ақ, бір жағы қара.


(Жыл, ай, күн мен түн)



40. МАТЕМАТИКАЛЫҚ ЖҰМБАҚТАР

Бір сабаз мінезі тік, қатал, мықты,
Жаңа ұғым геометриялық ойлап - тауып
Сыйлыққа Пифагордан бата алыпты.

(Тік бұрышты үшбұрыш)



50. МАТЕМАТИКАЛЫҚ ЖҰМБАҚТАР

