



Теректі негізгі мектебі

Үшбұрыштар ұқсастығының белгілері



*Сыныбы: 9
Пән мұғалімі: Омарова І.Б.*



2014-2015 оқу жылы





Сабақтың мақсаты:

*-үшбұрыштар, олардың түрлеріне
арналған үшбұрыштар
ұқсастықтарының, яғни теңдігінің,
белгілерін пайдалана отырып,
есептер шығарту;*



I – ТОП

«Параллель»

II – ТОП


«Перпендикуляр»



Үй тапсырмасын тексеру

№ 174

ABC үшбұрышында $AB=2,5$ см,
 $BC=5$ см, $AC=4,6$ см. Оған ұқсас
 $A^1B^1C^1$ үшбұрышында
 $A^1C^1 = 2,3$ см. A^1B^1 және B^1C^1
қабырғаларын есептеңдер.



№ 175

**Берілген үшбұрыштың
қабырғалары 7 см, 5 см
және 4 см. Қысқа
қабырғасы 1,5 см
болатын берілген
үшбұрышқа ұқсас
үшбұрыштың
қабырғаларын
есептеңдер**

Жауаптары:

- А
- Ә
- Ә
- А
- Ә
- А
- А
- Б
- А
- Ә



Есептер шығару







А

Д




5





Бағалау


Бағалау парақшаларын беру





Үйге тапсырма:

№





Сау болыңыздар!

