

1 КОНКУРС

ЗНАТОК ГИГАНТОВ АВТОПРОМА



Назовите страну-производитель соответствующей марки автомобиля



2 КОНКУРС

ЗНАТОК МОДЕЛЕЙ ОТЕЧЕСТВЕННОГО АВТОПРОМА





3 КОНКУРС

ПРАВИЛА ДОРОЖНОГО ДВИЖЕНИЯ





Можете ли Вы въехать на мост первым?

1. Да.
2. Нет.

№
1



С какой максимальной скоростью Вы можете продолжить движение на грузовом автомобиле с разрешенной максимальной массой не более 3,5 т?

1. 60 км/ч.
2. 80 км/ч.
3. 70 км/ч.

№
2



В каком месте Вы должны остановиться?

1. У края пересекаемой проезжей части В.
2. У границы перекрестка Б.
3. У знака А.

№
3



Эти знаки предупреждают Вас:

1. О наличии через 500 м опасных поворотов.
2. О том, что на расстоянии 150 - 300 м за дорожным знаком начнется участок дороги протяженностью 500 м с опасными поворотами.
3. О том, что сразу за знаком начнется участок протяженностью 500 м с опасными поворотами.

№
4



А



Б



В

Какие знаки распространяют свое действие только на период времени, когда покрытие проезжей части влажное?

1. Только А и Б.
2. Только А.
3. Все.


№
5



Разрешена ли Вам стоянка в указанном месте?

1. Разрешена, но только в светлое время суток.
2. Разрешена.
3. Запрещена.

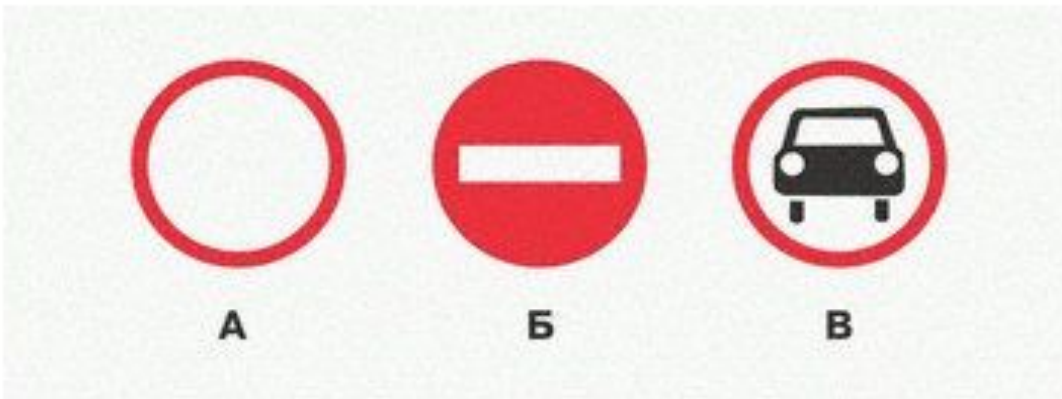
№
6



В каких направлениях Вам разрешено продолжить движение на перекрестке?

1. Только прямо.
2. Прямо или в обратном направлении.
3. Во всех направлениях.

№
7



Какие знаки разрешают Вам проезд на автомобиле к месту проживания?

1. Только А.
2. Только В.
3. Все.
4. Только А и В.

№
8



О чем информируют Вас эти дорожные знаки?

1. О приближении к перекрестку, где установлен знак "Движение без остановки запрещено".
2. О приближении к перекрестку, где установлен знак "Уступите дорогу".
3. О приближении к таможне.

№
9



Разрешено ли Вам произвести остановку в указанном месте?

1. Нет.
2. Да.

№1
0



А



Б



В



Г

Действие каких знаков распространяется только до ближайшего по ходу движения перекрестка?

1. А и В.
2. Б и Г.
3. В и Г.

№1
1



Знаки предупреждают Вас о том, что:

1. Через 150 м на Вашем пути будет нерегулируемый пешеходный переход.
2. На протяжении 150 м возможно появление пешеходов на проезжей части.


№1
2



В каких направлениях Вам разрешено продолжить движение?

1. Б или В.
2. А и Б.
3. Только Б.

№1
3



Какие знаки означают, что Вы должны уступить дорогу, если встречный разъезд затруднен?

1. Только В.
2. Б и Г.
3. Б и В.
4. А и В.

№1
4



1. Разрешено.
2. Запрещено.
3. Разрешено, если Вы проживаете рядом с этим местом.

Разрешено ли Вам поставить автомобиль на стоянку в указанном месте?

№1
5



1. Нет.
2. Да.

Можете ли Вы остановиться для посадки пассажира за знаком?

№1
6



Разрешена ли Вам стоянка в указанном месте?

1. Нет.
2. Да.

№1
7



Эти знаки предупреждают Вас о том, что:

1. Остановка транспортных средств на обочине запрещена.
2. Остановка разрешена только на проезжей части.
3. Съезд на обочину опасен в связи с проведением на ней ремонтных работ.

№1
8



Этот дорожный знак:

1. Запрещает движение со скоростью более 40 км/ч.
2. Требует двигаться со скоростью не менее 40 км/ч.
3. Рекомендует двигаться со скоростью 40 км/ч.

№1
9



Какой знак запрещает дальнейшее движение всех без исключения транспортных средств?

1. А.
2. В.
3. Б.

№2
0

Ответы к конкурсу Гиганты автопрома

Германия	Италия	США	Италия	Италия	Италия	Япония
США	Россия	Япония	Великобритания	Россия	США	США
Италия	Великобритания	Япония	Великобритания	Италия	Германия	Япония
Германия	Германия	Великобритания	Япония	Япония	Великобритания	Франция
Германия	Германия	Франция	Швеция	Чехия	США	Великобритания
Япония	Япония	Япония	Германия	Швеция	Италия	Корея

Ответы к конкурсу

Знаток Отечественного автопрома

Марка	Тип кузова	Привод
ГАЗ-3110	СЕДАН	ЗАДНИЙ
ВАЗ 1111 «Ока»	Хэтчбек	ПЕРЕДНИЙ
УАЗ-3163 «Патриот»	ВНЕДОРОЖНИК	ПОЛНЫЙ
ВАЗ 2114	Хэтчбек	ПЕРЕДНИЙ
ГАЗ-69	ВНЕДОРОЖНИК	ПОЛНЫЙ
ВАЗ 2121 «НИВА»	ВНЕДОРОЖНИК	ПОЛНЫЙ
ГАЗ-20 «ПОБЕДА»	Хэтчбек	ЗАДНИЙ
ВАЗ 2104	УНИВЕРСАЛ	ЗАДНИЙ
ГАЗ-3102	СЕДАН	ЗАДНИЙ
ВАЗ 11193 «КАЛИНА»	Хэтчбек	ПЕРЕДНИЙ
ВАЗ 2190 «ГРАНТА»	СЕДАН	ПЕРЕДНИЙ
ГАЗ-21	СЕДАН	ЗАДНИЙ
ВАЗ 2112	Хэтчбек	ПЕРЕДНИЙ

Ответы к конкурсу Знаток Отечественного автопрома

Марка	Тип кузова	ПРИВОД
ГАЗ-31105	СЕДАН	ЗАДНИЙ
ВАЗ-2170 «ПРИОРА»	СЕДАН	ПЕРЕДНИЙ
ГАЗ-24	СЕДАН	ЗАДНИЙ
ВАЗ-2115	СЕДАН	ПЕРЕДНИЙ
ГАЗ-2330 «ТИГР»	ВНЕДОРОЖНИК	ПОЛНЫЙ
ВАЗ-2111	УНИВЕРСАЛ	ПЕРЕДНИЙ
ВАЗ-2105	СЕДАН	ЗАДНИЙ
ВАЗ-2113	Хэтчбек	ПЕРЕДНИЙ
УАЗ-469	ВНЕДОРОЖНИК	ПОЛНЫЙ
ВАЗ-2110	СЕДАН	ПЕРЕДНИЙ
ВАЗ-2106	СЕДАН	ЗАДНИЙ
АЗЛК-2141	Хэтчбек	ПЕРЕДНИЙ

Ответы к конкурсу Правила Дорожного Движения

№ Билета	Ответ	№ Билета	Ответ
1	1	11	2
2	2	12	1
3	1	13	1
4	2	14	1
5	2	15	2
6	2	16	2
7	2	17	1
8	4	18	3
9	2	19	1
10	2	20	3