

8 МАРТА



С элементами ТРИЗ и
РТВ

Елякова Марина Эдуардовна



Из куска проволоки согнули квадрат, площадь которого 36 см^2 . Затем проволоку разогнули и согнули из неё треугольник с равными сторонами. Какова длина стороны треугольника?



Ваня начертил квадрат, провёл в нём два отрезка. У него получилось 8 треугольников. Как он сумел это сделать?



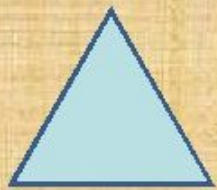
6. На одном дереве сидело
40 сорок. Проходил
охотник, выстрелил и убил
6 сорок. Сколько сорок
осталось на дереве?

5. Подумай и скажи
— что помогает
выжить белым
медведям в
пустыне, где нет
воды?





ГОЛОВОЛОМКА



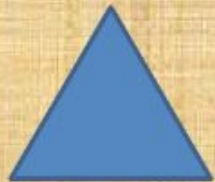
400



45



3



-



= 355

28 +



= 428



:



= 15





Шифрование текстов

16	3	2	13
5	10	11	8
9	6	7	12
4	15	14	1

О	И	<u>Р</u>	М
Е	О	С	<u>Ю</u>
В	Т	А	Ь
Л	Г	О	<u>П</u>

1 2 3 4 5 6 7 8 9 10 11 12 13 14 15 16

