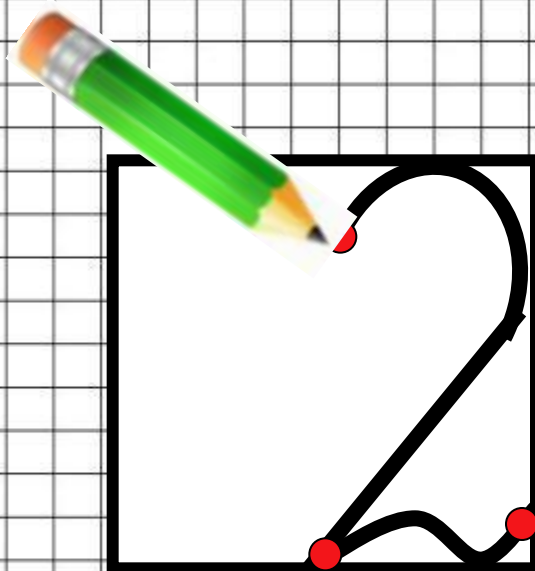
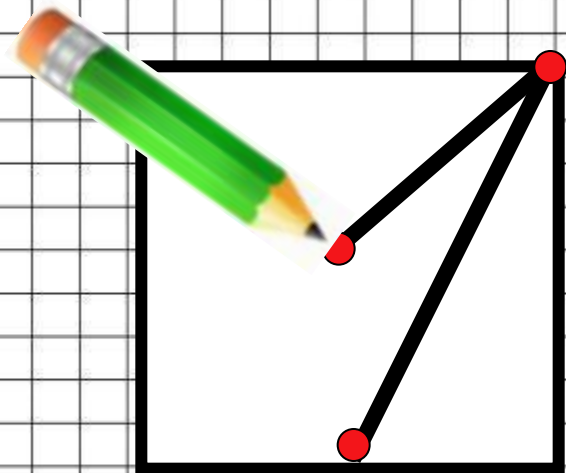


# Деление

## Урок математики во 2 классе



# Минутка чистописания



# Помогите обезьянке составить примеры

$$60 + 30 = 90$$

$$90 - 60 = 30$$

$$90 - 30 = 60$$

$$37 + 13 = 50$$

$$50 - 37 = 13$$

$$50 - 13 = 37$$

$$64 + 26 = 90$$

$$90 - 64 = 26$$

$$90 - 26 = 64$$



# Устный счёт

|                     |           |           |           |           |           |           |           |           |
|---------------------|-----------|-----------|-----------|-----------|-----------|-----------|-----------|-----------|
| <b>Множитель</b>    | <b>2</b>  | <b>6</b>  | <b>5</b>  | <b>10</b> | <b>9</b>  | <b>4</b>  | <b>1</b>  | <b>0</b>  |
| <b>Множитель</b>    | <b>5</b>  | <b>3</b>  | <b>4</b>  | <b>6</b>  | <b>2</b>  | <b>5</b>  | <b>15</b> | <b>25</b> |
| <b>Произведение</b> | <b>10</b> | <b>18</b> | <b>20</b> | <b>60</b> | <b>18</b> | <b>20</b> | <b>15</b> | <b>0</b>  |




# Работа над задачами

- В раскраске 36 рисунков, Миша уже раскрасил 25 рисунков. Сколько рисунков ещё осталось раскрасить?  $36 - 25 =$
- В каждой коробке по 10 карандашей. Сколько карандашей в 3 таких коробках?  $10 \cdot 3 =$
- В магазин привезли 13 ящиков с помидорами и 19 ящиков с огурцами. На сколько меньше завезли ящиков с помидорами, чем с огурцами?  
 $19 - 13 =$
- Папа купил 2 букета роз по 3 штуки в каждом. Сколько роз купил папа?  
 $3 \cdot 2 =$



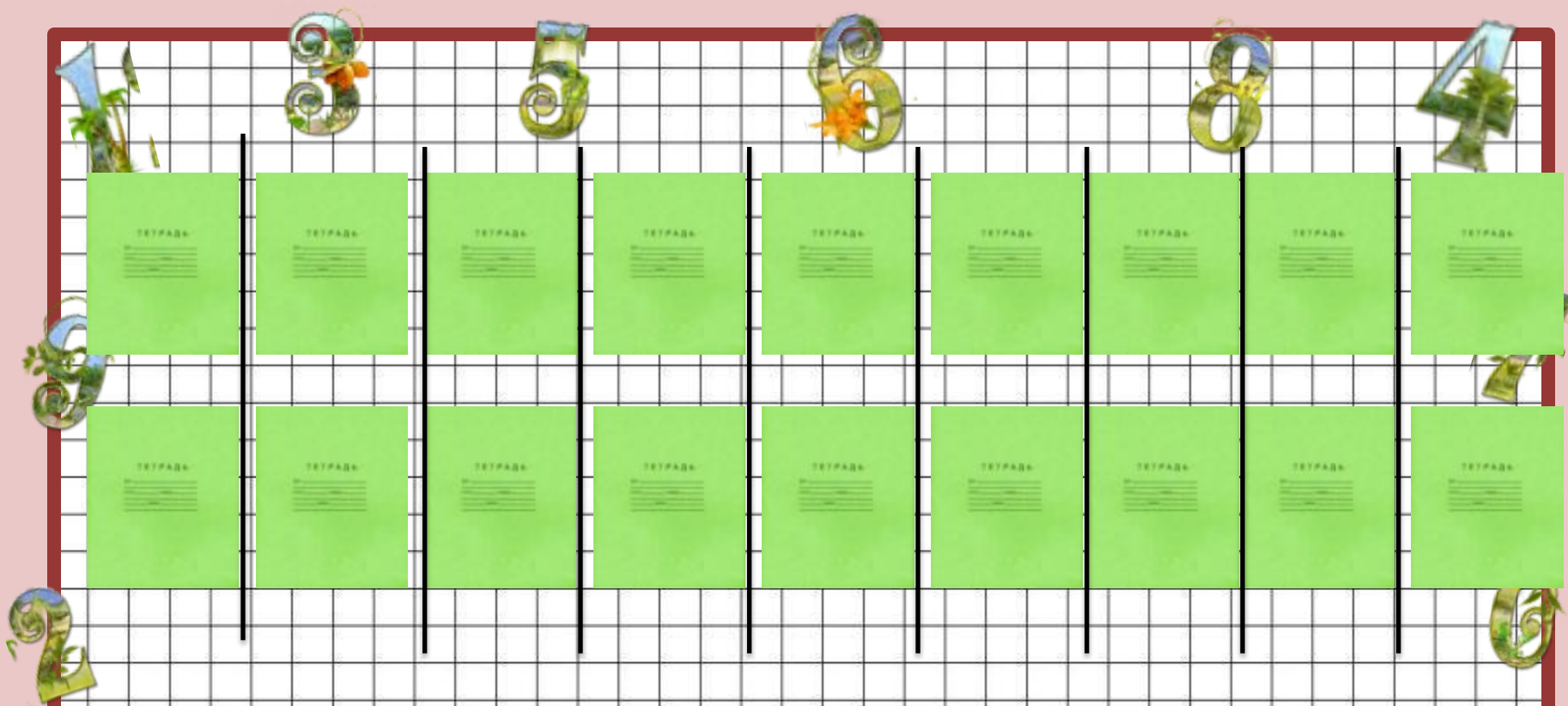
# Сколько тетрадей получит каждый?



$$2 \cdot 5 = 10 \text{ (т)}$$

Ответ: 10 тетрадей





**18 : 2 = 9 (уч.)**  
**Ответ: 9 учеников**



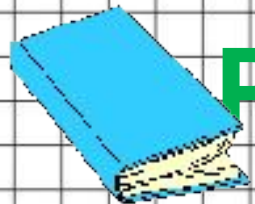






$12 : 3 = 4$  (ч.)  
Ответ: 4 человека



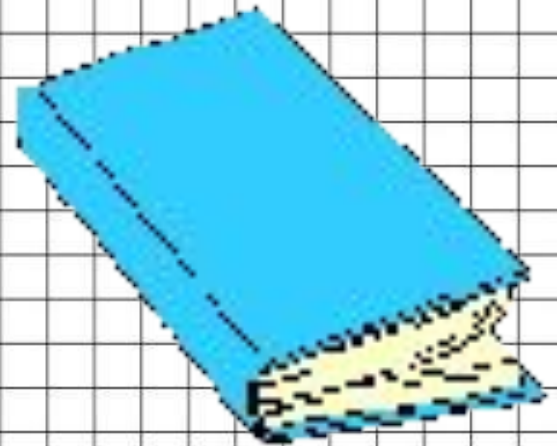


# Работа по учебнику





# Работа по учебнику закрепление



# Итог урока

Что нового узнали на уроке?

Что понравилось?

Было ли трудно на уроке?

# Домашнее задание



Молодцы!

