

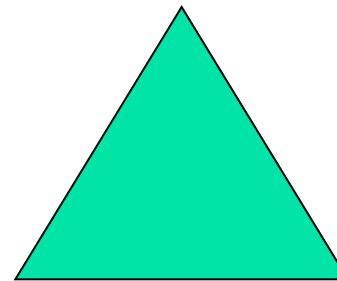
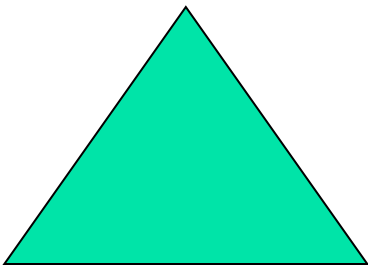


Диагностика по разделу «Формирование элементарных математических представлений»

Старшая группа



Выполнила:
воспитатель 1
категории МАДОУ
Д/с № 26 «Золотая
рыбка» г. Кумертау
Морозова Юлия
Геннадьевна



Диагностическая карта

- Предназначена для выявления знаний детей пятого - шестого года жизни по разделу «Формирование элементарных математических представлений.»»

Классификация плоскостей по длине и ширине.



Разложи полоски от самой длинной до самой короткой

Выявление умений раскладывать предметы по увеличению или уменьшению длины.



- Разложить полоски по порядку от самой длинной до самой короткой, а затем сказать, какие они по длине.

Моделирование объектов из геометрических фигур.



Какие геометрические фигуры лежат перед тобой на столе?

Выявление умения соотносить количество предметов с цифрой.

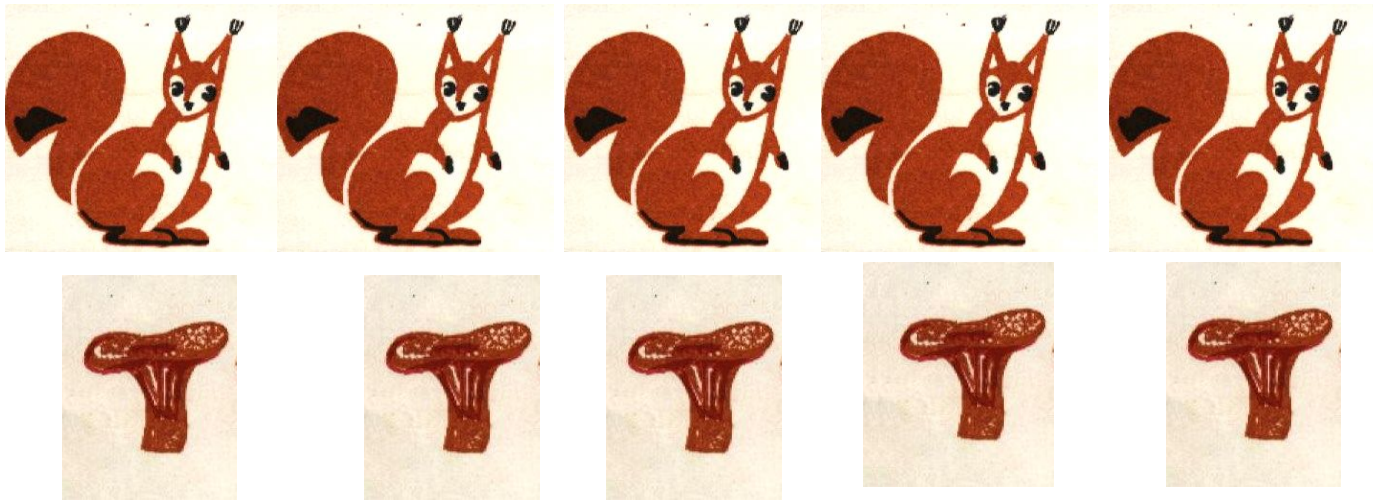


1 2 3 4 5

- Отсчитать пять ёлочек и четыре грибка.
- Обозначить количества цифрами.



Выявление умений отсчитывать количество на один предмет больше или меньше.




- Отсчитать белочек на одну больше, чем три грибка.
- Отсчитать белочек на одну меньше, чем четыре грибка.

Умение сравнивать две группы предметов, по-разному расположенные.



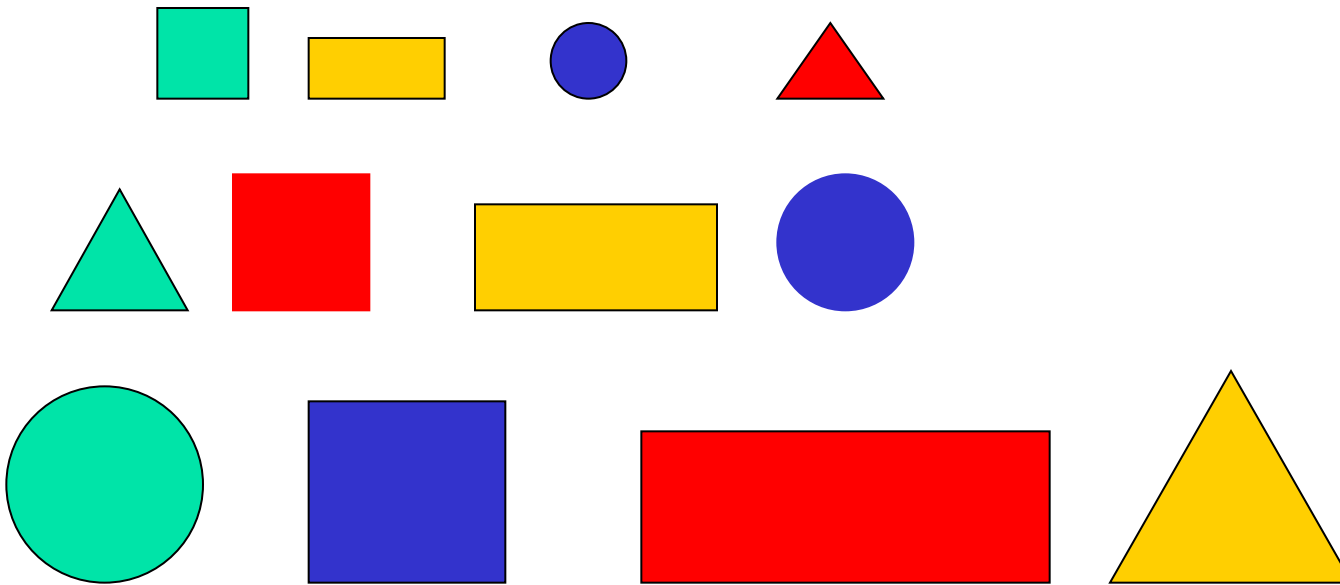
- Каких кувшинов больше (меньше) или их поровну?

Выявление знаний порядковых чисел.



- Сколько игрушек в ряду; какая по счёту собачка?

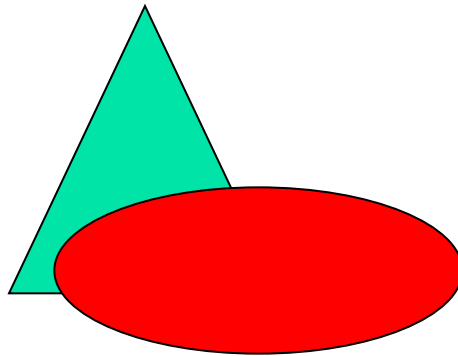
Выявление знаний геометрических фигур.



- Отложить круги, треугольники, квадраты, прямоугольники и назвать все группы фигур.





Ориентировка в пространстве.




- Сказать, что слева от треугольника, что справа, что впереди.

Умение ориентироваться во времени, назвать части суток.



- Разложить картинки по порядку, начиная с утра, а затем сказать, в какой временной отрезок что происходило.
- Какое сейчас время суток?

Умение ориентироваться во времени, назвать части суток.



- Разложить картинки по порядку, начиная с утра, а затем сказать, в какой временной отрезок что происходило.
- Какое сейчас время суток?

Задачи в стихах.

Четыре вороны на
крышу сели,
И одна к ним
прилетела
Отвечай-ка быстро
смело,
Сколько всех их
прилетело?





Оценка результатов.

- 1 - балл ребёнок самостоятельно справляется с заданием.
- 0,5 - балла ребёнок справляется с заданием с дозированной помощью взрослого или со второй попытки.
- 0 - баллов ребёнок не справляется с заданием.