


Математические задачи для 3 класса



В продуктовый магазин привезли 7 ящиков с апельсинами, всего в этих ящиках 49 апельсинов. Сколько апельсинов в 1 ящике?

В школьном саду посадили 14 берез, рябин в 2 раза меньше чем берез, а яблонь на 7 больше чем берез. Сколько всего посадили деревьев?

УРАВНЕНИЯ

$$X + 19 = 94$$

$$X = ?$$

$$63 + Y = 100$$

$$Y = ?$$

$$3 * X = 30$$

$$X = ?$$

$$100 - Y = 72$$

$$Y = ?$$

$$54 : X = 6$$

$$X = ?$$

$$50 + Y = 89$$

$$Y = ?$$

В ДОМЕ 4 ЭТАЖА . ЧЕМ ВЫШЕ
ЭТАЖ ТЕМ БОЛЬШЕ ЛЮДЕЙ
ТАМ ЖИВЁТ . НА КАКОЙ ЭТАЖ
ЧАЩЕ ЕЗДИТ ЛИФТ ?



ЗАДАЧИ

ДЛИНА ВЕРЁВКИ 27 МЕТРОВ . СНАЧАЛА ОТ НЕЁ ОТРЕЗАЛИ 6 МЕТРОВ , А ПОТОМ ЕЩЁ 4 МЕТРА . СКОЛЬКО МЕТРОВ ВЕРЁВКИ ОСТАЛОСЬ ?

ЮЛЕ 16 ЛЕТ , А ВИКЕ 6 . СКОЛЬКО ЛЕТ БЫЛО ВИКЕ , КОГДА ЮЛЕ БЫЛО 12 ЛЕТ ?

ПРИМЕРЫ

$$10 \text{ CM} = ? \text{ MM}$$

$$3 \text{ DM} = ? \text{ CM}$$

$$1 \text{ M} = ? \text{ CM}$$

$$1 \text{ CM } 3 \text{ MM} = ? \text{ MM}$$

$$38 + 59 = ?$$







$$27 + 49 = ?$$

$$50 + 10 = ?$$

$$72 + 19 = ?$$

НАЙДИ СПРЯТАННЫЕ ЧИСЛА

The image shows a visual math puzzle with three rows of sports equipment icons and numbers. The first row contains two red table tennis paddles, one purple ice skate, an equals sign, and the number 7. The second row contains two red roller skates, two red table tennis paddles, one purple ice skate, an equals sign, and the number 9. The third row contains one red roller skate, an equals sign, and a red question mark.

		=	7	
			=	9
	=	?		

ЗАДАЧИ НА ЛОГИКУ

ТЕТРАДЬ ДЕШЕВЛЕ РУЧКИ , НО ДОРОЖЕ
КАРАНДАША . ЧТО ДЕШЕВЛЕ ?

У ПАУКА 4 ПАРЫ НОГ , А У КОЗЛЁНКА 2 ПАРЫ
НОГ . НА СКОЛЬКО НОГ МЕНЬШЕ У КОЗЛЁНКА ,
ЧЕМ У ПАУКА ?