

Математичний тренажер



2 клас

Додавання та віднімання
чисел у межах 100
з переходом через разряд

90

$6+6+6+6+6=6\cdot 5=\square$


6·	2	3	4	5	6	7	8	9	
	↓	↓	↓	↓	↓	↓	↓	↓	
	12	18	24	30	36	42	48	54	·6

у 3 рази більше


6 ?

?

Підготувала:
Тлустенко Наталя Сергіївна
Вчитель середнього навчально-
виховного закладу № 24
м. Мелітополя




Прикрась дерево




 $8 + 3$


 $7 + 8$


 $2 + 9$


 $7 + 4$


 $9 + 2$


 $5 + 6$

 $7 + 7$

 $4 + 7$

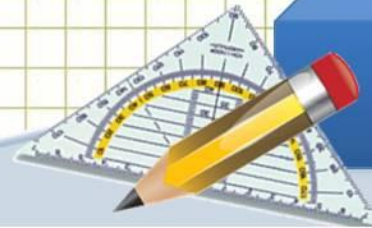
 $5 + 9$

 $3 + 8$


 $8 + 5$

 $8 + 4$

 $6 + 5$

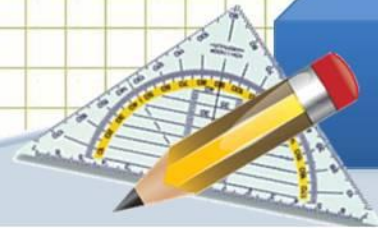







Збери овочі




Допоможи білочці насушити

грибочків



Зайчик хоче моркви



Допоможи знайти відповідь кожного приклада



$8 + 8 =$

13

15

16

17

$6 + 7 =$

12

13

14

15

$4 + 7 =$

12

14

11

13

$5 + 8 =$

11

13

12

14



$8 + 7 =$

14

16

15

17

$6 + 9 =$

15

12

14

17


$9 + 8 =$

14

16

15

17



Знайди приклад до кожного вагону



2

$12 - 8$

$11 - 3$

$11 - 9$

3

$11 - 8$

$12 - 7$

$13 - 4$

4

$13 - 7$

$11 - 9$

$12 - 8$

5

$13 - 6$

$12 - 7$

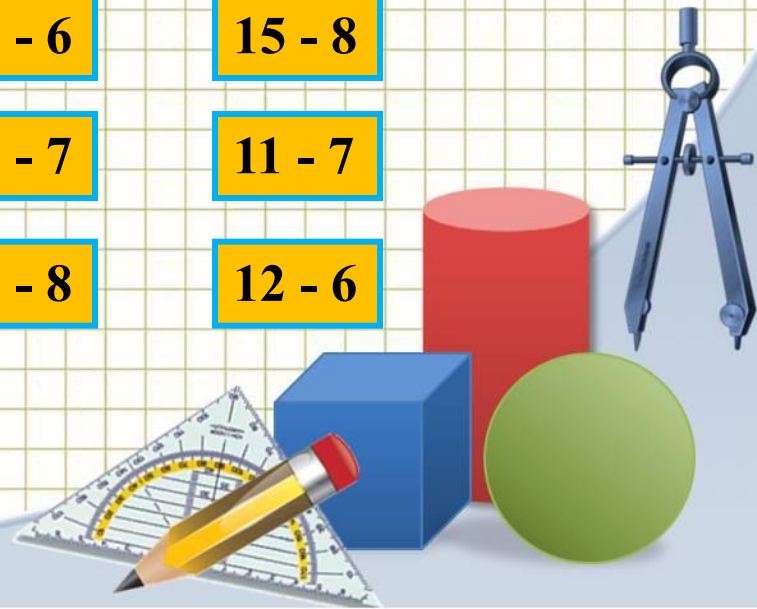
$14 - 8$

6

$15 - 8$

$11 - 7$

$12 - 6$



Якщо ти правильно розв'яжеш приклад та двічі натиснеш на відповідь, їжачок отримає яблучко.



$27 + 34 =$

51

61

62

$64 + 27 =$

92

81

91

$56 + 28 =$

84

75

74

$36 + 28 =$

64

53

54

$48 + 15 =$

64

53

63

$16 + 15 =$

29

21

31

$73 + 19 =$

93

92

82

$52 + 29 =$

81

71

82

$37 + 57 =$

94

85




84

$37 + 48 =$

76



85

75



Зроби влучний постріл.

Двічі натисни правильну відповідь



64

$37 + 29$

$38 + 26$

$27 + 47$



73

$46 + 27$

$34 + 49$

$25 + 47$

54

$27 + 28$

$27 + 27$

$15 + 37$



83

$48 + 45$

$26 + 47$

$59 + 24$

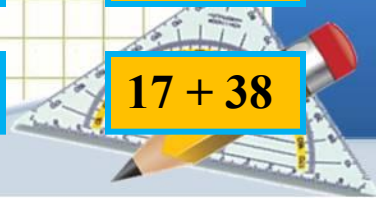


45

$18 + 27$

$23 + 28$

$17 + 38$



Допоможи друзям знайти сім правильних прикладів.



$36 + 38 = +$

$15 + 58 = -$

$18 + 56 = +$

$28 + 57 = -$

$65 + 9 = +$

$17 + 57 = +$

$79 + 5 = -$

$68 + 6 = +$

$25 + 59 = -$

$46 + 28 = +$

$35 + 39 = +$

$39 + 45 = -$

74



Для кожного вагончику знайди по три приклади



42

$16 + 36$

$14 + 28$

$27 + 15$

$28 + 24$

$29 + 3$

$39 + 3$

53

$28 + 25$

$9 + 44$

$27 + 36$

$15 + 49$

$47 + 6$

$36 + 18$

61

$26 + 45$


$33 + 28$

$57 + 4$




$19 + 44$

$48 + 12$

$39 + 22$



Які бджілки поласують нектаром?



Допоможи звірятам знайти по дві іграшки



49



92 - 43



66 - 17




54 - 6



91 - 19



80 - 8



72



85 - 29



100 - 34



94 - 38



94 - 26



56



80 - 44



90 - 44



52 - 25



81 - 44



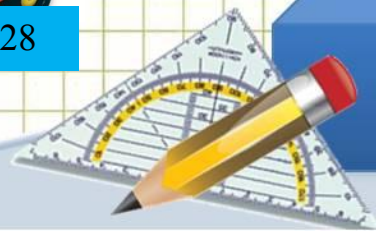
63 - 26



74 - 28



37



Який транспорт їде в гараж?



Підказка

5
машин

81 - 39



40 - 8



61 - 29



68 - 34



54 - 28



64 - 26



78 - 46



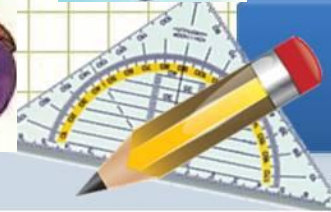
51 - 19



66 - 27



91 - 59



До кожної задачі добери розв'язання та відповідь



1

Ляльковий театр відвідало 36 хлопців, а дівчат на 15 більше. Скільки всього дітей відвідало театр?

2


На складі було 60 кг картоплі, а моркви на 37 кг менше. Скільки моркви на складі?


3


В шкільну бібліотеку привезли 50 книг з казками, а з віршами – на 19 менше. Скільки всього книг привезли у бібліотеку?

4


Маринка купила альбом за 15грн та книжку, яка коштувала на 37грн більше, ніж альбом. Скільки Маринка заплатила за книгу?

 $36 - 15 =$


$36 + 15 =$ 


 $(36 - 15) + 36 =$

$(36 + 15) + 36 =$


$(36 + 15) + 15 =$ 


$60 - 37 =$


$60 + 37 =$ 

 $(60 - 37) + 37 =$

$(60 + 37) + 60 =$


$(60 + 37) + 37 =$ 


 $50 - 19 =$

$50 + 19 =$ 

$(50 - 19) + 50 =$


$(50 + 19) + 50 =$


$(50 - 19) + 19 =$ 

 $37 - 15 =$

$15 + 37 =$

$(37 - 15) + 37 =$

$(15 + 37) + 37 =$ 

$(37 - 15) + 15 =$ 

88

86

87

77

33

32

24

23

71

81

83

79

53

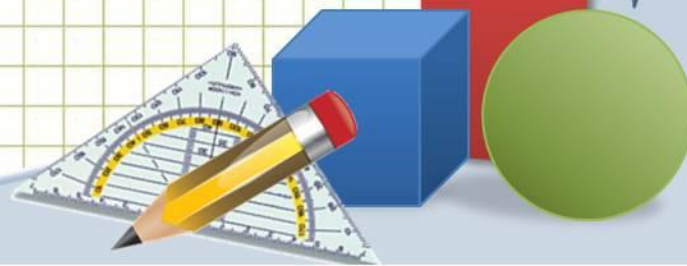
52

42

63



Подарунок для кращого математика!



Інтернет-ресурси



Циркуль: <http://www.daviddarling.info/images/compasses.jpg>

Олівець:

<http://www.proshkolu.ru/content/media/pic/std/3000000/2240000/2239093-7acd9447b354cc7e.gif>

Косинець-транспортир:

http://p.alejka.pl/i2/p_new/25/38/duza-ekierka-geometryczna-z-uchwytem-rotring-14-cm_0_b.jpg

Фон «клітинка зошитів»:

<http://radikal.ua/data/upload/49112/4efc3/3bd0a3d6bb.jpg>

Шаблон презентації підготувала:

*Ранько Олена Олексіївна
Вчитель початкових класів
МАОУ ліцей №21
м. Іваново*

Сайт: <http://pedsovet.su/>

