

Математика

2 Класс

Самат Вахитов

Реши Примеры

$$58+27=$$

● $67-29=$

$$43+24=$$



Реши Примеры

$$58 + 27 = 85$$

● $67 - 29 =$

$$43 + 24 =$$



Реши Примеры

$$58 + 27 = 85$$

● $67 - 29 = 38$

$$43 + 24 =$$



Реши Примеры

$$58+27=85$$

● $67-29=38$

$$43+24=67$$



Реши Задачу

У Даши 19 Марок а у Маши на 62 больше сколько всего марок?



Реши Задачу


У Даши 19 Марок а у Маши на 62 больше сколько
всего марок?




100 Марок




Игра Собери Яблоки



Корзина ОТВЕТ 8



Игра Собери Яблоки



Корзина ОТВЕТ 8

ПРАВИЛЬН



Конец.