

# Математика

2Класс

Вахитов Самат

# Реши Задачу

Маша собрала 52 ягоды а бабушка на 5 меньше маша отдала 6 ягод Сколько Всего ягод?



# Реши Задачу

Маша собрала 52 ягоды а бабушка на 5 меньше маша отдала 6 ягод Сколько Всего ягод?

93 Ягоды



# Реши Примеры

$56+8=$

$82-65=$

$99+3=$

$56+20=$

$59-26=$

$82+2=$

$50-5=$

$78+6=$



# Реши Примеры

$$56+8=64$$

$$82-65=$$

$$99+3=$$

$$56+20=$$

$$59-26=$$

$$82+2=$$

$$50-5=$$

$$78+6=$$



# Реши Примеры

$56+8=64$

$82-65=$

$99+3=102$

$56+20=$

$59-26=$

$82+2=$

$50-5=$

$78+6=$



# Реши Примеры

$$56+8=64$$

$$82-65=$$

$$99+3=102$$

$$56+20=$$

$$59-26=33$$

$$82+2=$$

$$50-5=$$

$$78+6=$$



# Реши Примеры

$$56+8=64$$

$$82-65=$$

$$99+3=102$$

$$56+20=$$

$$59-26=33$$

$$82+2=$$

$$50-5= 45$$

$$78+6=$$





# Реши Примеры

$$56+8=64$$

$$82-65=17$$

$$99+3=102$$

$$56+20=$$

$$59-26=33$$

$$82+2=$$

$$50-5= 45$$

$$78+6=$$



# Реши Примеры

$$56+8=64$$

$$82-65=17$$

$$99+3=102$$

$$56+20=76$$

$$59-26=33$$

$$82+2=$$

$$50-5= 45$$

$$78+6=$$



# Реши Примеры

$$56+8=64$$

$$82-65=17$$

$$99+3=102$$

$$56+20=76$$

$$59-26=33$$

$$82+2=84$$

$$50-5=45$$

$$78+6=$$



# Реши Примеры

$$56+8=64$$

$$82-65=17$$

$$99+3=102$$

$$56+20=76$$

$$59-26=33$$

$$82+2=84$$

$$50-5=45$$

$$78+6=84$$



# Реши Задачу

У Кати 52 марки а Вени на 30 больше Сколько марок у Вени



# Реши Задачу


У Кати 52 марки а Вени на 30 больше Сколько марок у Вени



82 марки

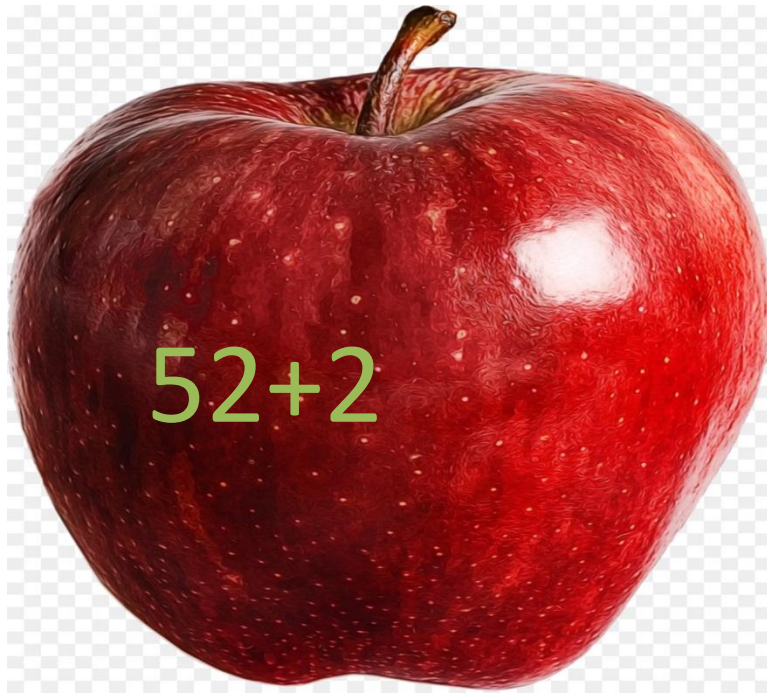


# Игра найди правильное яблоко



Ответ 54

# Игра найди правильное яблоко




Ответ 54

ПРАВИЛЬНО



# Игра лопни правильный шар



$49+3$



$60-10$

Ответ 52

# Игра лопни правильный шар


$$49+3$$


$$60 - 10$$

Ответ 52 ПРАВИЛЬНО

# ВСПОМИНИМ ПОДРОБНЕЕ

ИХ = -

-	+			
Убы ван ие	Бол ьше			

Конец.