

Проектның темасы:
“Мәсьәлә чишү”

Эшнең барышы:

Балта-пычкы алдык без
Нәни йортлар салдык без
Йортыбыз нәкъ уенчык
Кунагыбыз ..

Сыерчык



- Сыерчыктарны күрдегезме?
- Аларны ничек каршы алдыгыз?
- Мин сыерчыктарны күзәттем. Бик матур сайрыйлар.

- Ләкин ул кайда йоклар?
- Кайда йомырка салыр?
- Ничек бала чыгарыр?

Димэк, сыерчыклар
өчен оя кирэк!



- Ә сыерчык оясын ничек ясарга дип укытучыдан сораган идек. Ул безгә менә шундый мәсьәләне чишәргә кушты. Бу мәсьәләне без төркемнәрдә чишәп килдек.



Мәсьәлә: (3 кл., математика М.И Моро, М.А. Бантова)

Безнең максат:

Бу мәсьәләне чишәргә кирәк!

5 бертөрле сыерчык оясы ясау өчен, 20 турыпочмаклык һәм 10 квадрат формасындагы такта кирәк. 1 сыерчык оясына ничә такта китә?

-Уйлагыз, кыскача язылышны кем уңайлырак яза? (Таблица)

Фигуралар	1 сыерчык оясына киткән такта	Сыерчык оясы саны	Барлык такта
Турыпочмаклык		5 оя	20 т.
Квадрат		5 оя	10 т.


- 5 саны нәрсәне белдерә?
- -20, 10 саны нәрсәне белдерә?
- Мәсьәләдә нәрсәне табарга кирәк?

Чишү:

Үысул:

- 1) $20:5=4$ (турыпочмаклык) – 1 сыерчык оясы өчен
- 2) $10:5=2$ (квадрат) – 1 сыерчык оясы өчен
- 3) $4+2=6$ (такта) кирәк

Жавап: 6 такта кирәк.



II ысул:

Шарты:

Фигуралар	1 сыерчык оясына киткән такта	Сыерчык оясы саны	Барлык такта
Турыпочмаклык Квадрат	?	5 оя	20 һәм 10

Чишү:

1) $20 + 10 = 30$ (такта)

2) $30 : 5 = 6$ (такта) кирәк

Жавап: 6 такта кирәк.

III. Аңлатма төзү юлы белән

Шарты:

Фигуралар	1 сыерчык оясына киткән такта	Сыерчык оясы саны	Барлык такта
Турыпочмаклык Квадрат	?	5 оя	20 һәм 10

Чишү:

$$(20+10):5=6$$


$$20:5+10:5=6$$

Жавап: 6 такта кирәк.

- Кайсы ысул уңайлырак?

- Ни өчен?

Модельләштереп тә куябыз:



Димәк:

Мәсьәлә чишү аша гипотеза дөрөс дип табылды

Рефлексия:

Ә без абый белән “Иң
матур сыерчык оясы”
бәйгесендә катнашып
җинүче булдык.



- Әти, синең үзебезнең авылда
оештырган яңа фермер
хужалыгына да бу сыерчык
ояларын илтөп куярбыз әле.

- Ә нигә бу кирәк сон, улым?

- Безнең фермер хужалыгын
тагын да ямьләндерөп, эшкә
дәрт бирөп көн дә сыерчыклар
сайрап торыр. Кошларга ашарга
күп булыр. Шулай булгач, бу
сыерчыклар, салкыннар
башлангач та , безне ташлап
китмәсләр дөп уйлыым.

